

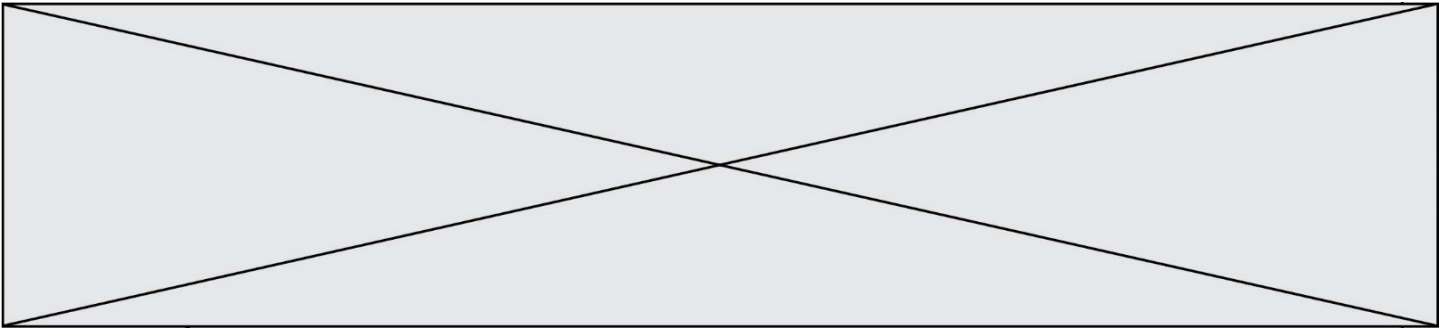
Première partie : questions (sur 10 points)

Histoire :

1. Qu'est-ce que le Plan Marshall ? (notez la réponse choisie sur votre copie)
 - a) Le plan donné aux opérations de bombardement de l'Allemagne nazie par les États-Unis,
 - b) Le plan du débarquement en 1944,
 - c) Un plan d'aide économique à l'Europe,
 - d) Le plan de découpage de l'Allemagne en 4 zones d'occupation.
2. Dater le traité créant l'Union européenne.
3. Caractériser les nouvelles formes de conflit depuis les années 2000.

Géographie :

4. Justifiez l'affirmation suivante : « Les porte-conteneurs ont fortement contribué à développer le trafic maritime ».
5. Sur le planisphère (annexe 1 à rendre avec votre copie) :
 - nommez et localisez deux territoires français ultramarins.
 - localisez le Louvre Abou Dhabi.
 - nommez et localisez un exemple d'intervention militaire française dans le monde.Vous complétez la légende.



(1) expression nazi pour désigner les ennemis contre qui ils combattent à l'Est, c'est-à-dire une alliance entre les communistes et les Juifs.

Source : Document signé par le général Erich von Manstein, commandant de la 11^e armée allemande, en date du 20 novembre 1941. Le document fut utilisé pendant l'interrogatoire du maréchal von Manstein à l'occasion du procès de Nuremberg le 10 août 1946. [Le document est issu des archives militaires américaines].

Modèle CCYC : ©DNE

Nom de famille (naissance) :
(Suivi s'il y a lieu, du nom d'usage)

Prénom(s) :

N° candidat :

N° d'inscription :



Né(e) le :

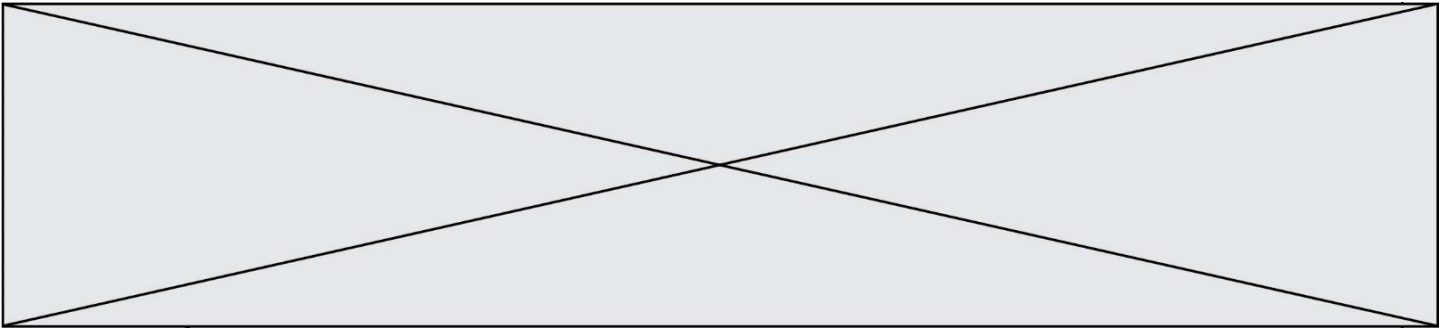
(Les numéros figurent sur la convocation.)

1.1

Document 2 : les *Einsatzgruppen* sur le front de l'Est.

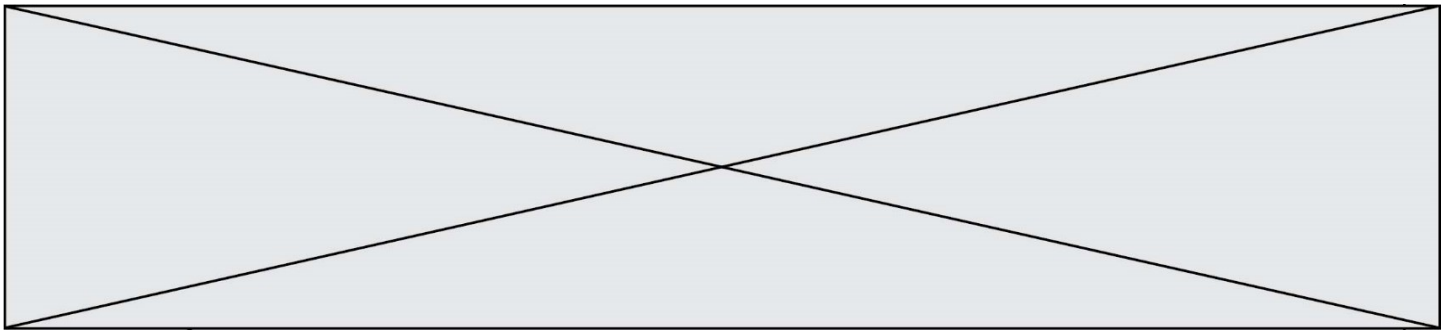


Source : Manuel Belin, classe de Terminale, 2020.

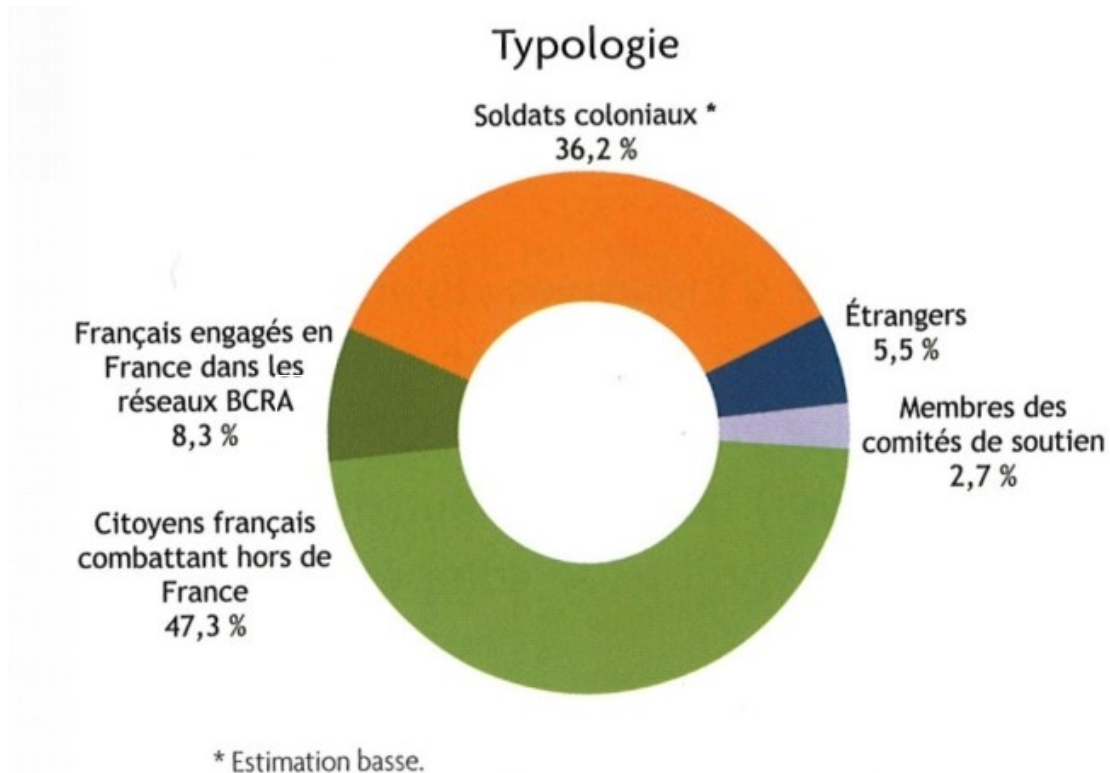


Questions :

1. Présentez le document 1 (nature, auteur et contexte).
2. Identifiez les populations persécutées, les auteurs des persécutions et leurs motivations. (Documents 1 et 2)
3. Décrivez la nature, les modalités et l'ampleur des crimes perpétrés par les nazis en vous appuyant sur vos connaissances. (Documents 1 et 2)
4. À l'aide des documents et de vos connaissances, justifiez l'affirmation suivante : « ces deux documents témoignent d'un tournant de la Seconde Guerre mondiale sur le front de l'Est ».



Document 2 : Les Français libres, profils.



Note :

1. BCRA : le Bureau central de renseignements et d'action (BCRA) est le service de renseignement et d'actions clandestines de la France libre.

Source : Ecochard H, *Liste des Français Libres* (base de données en ligne), cité par Tristan Lecoq (dir.), *Enseigner la Résistance*, Canope, 2016.

Questions :

1. Expliquez l'engagement dans la France Libre de René Génin. (document 1)
2. René Génin est-il représentatif des Français Libres ? (document 2)
3. Expliquez la phrase soulignée dans le texte. (document 1)
4. A l'aide des documents et de vos connaissances, décrivez et expliquez l'action de De Gaulle pour rallier l'Empire français à la France libre.
5. « De Gaulle œuvra au rapprochement de la France libre avec la résistance intérieure et transforma la France libre en France combattante ». Justifiez cette affirmation à l'aide des documents et de vos connaissances.

