

### Exercice 1 : Un antiseptique : l'eau oxygénée (5 points)

L'eau oxygénée est une solution aqueuse de peroxyde d'hydrogène  $\text{H}_2\text{O}_2$ . C'est un antiseptique de la famille des oxydants, dont la concentration est exprimée dans le commerce par un titre en volume. Ainsi une solution à 10 volumes est utilisée comme antiseptique et hémostatique pour des plaies et des brûlures superficielles peu étendues. Une eau oxygénée à 40 volumes est 4 fois plus concentrée qu'une solution à 10 volumes ; elle est employée pour blanchir certains bois et traiter l'eau d'un aquarium.

Le **document 1** indique les conditions d'utilisation et de conservation d'une eau oxygénée.

**Données** : le peroxyde d'hydrogène intervient dans deux couples oxydant/réducteur.

Couple oxydant/réducteur	Demi-équation d'oxydoréduction
Peroxyde d'hydrogène / eau : $\text{H}_2\text{O}_2(\text{aq}) / \text{H}_2\text{O}(\text{l})$	$\text{H}_2\text{O}_2(\text{aq}) + 2\text{H}^+(\text{aq}) + 2\text{e}^- = 2\text{H}_2\text{O}(\text{l})$
Dioxygène / peroxyde d'hydrogène : $\text{O}_2(\text{g}) / \text{H}_2\text{O}_2(\text{aq})$	$\text{O}_2(\text{g}) + 2\text{H}^+(\text{aq}) + 2\text{e}^- = \text{H}_2\text{O}_2(\text{aq})$

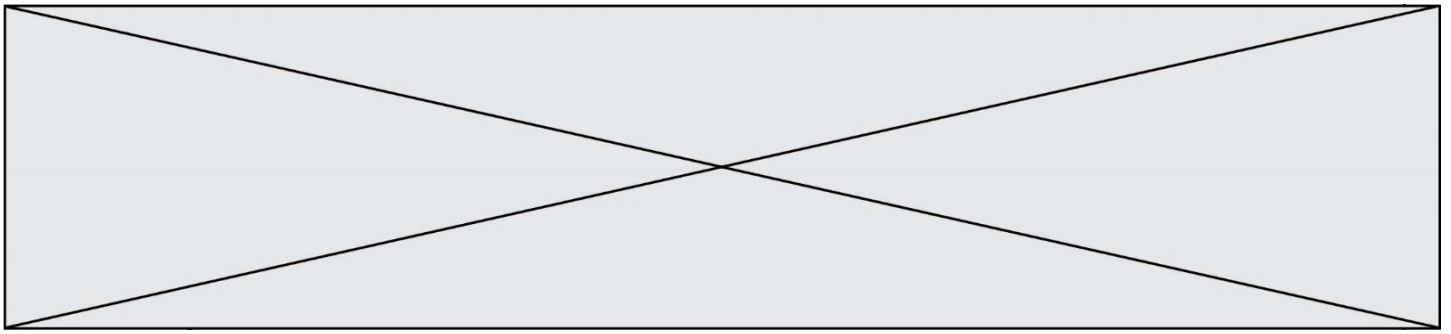
#### Document 1 : conditions d'utilisation et de conservation de l'eau oxygénée.

L'eau oxygénée est généralement conditionnée dans un flacon en verre ou en polyéthylène, ces flacons sont à conserver à l'abri de la lumière et de la chaleur.

Pour les médicaments à usage multiple comme l'eau oxygénée, il est primordial d'inscrire la date d'ouverture de l'emballage. Le produit fini qui est vendu en pharmacie ou parapharmacie est stable 12 mois, toutefois après une première utilisation, le liquide restant doit être utilisé dans les 30 jours qui suivent l'ouverture du flacon.







### Exercice : Adolescents et fast-food (5 points)

#### Document 1 : Apports nutritionnels des produits les plus consommés

Les fast-foods sont particulièrement appréciés des adolescents qui les fréquenteraient en moyenne deux fois par mois, selon une enquête publiée en 2014 par le CERIN (Centre de recherche et d'informations nutritionnelles).

Outre la nourriture que l'on y sert, rapide et peu chère, ils aiment particulièrement le fait de s'y retrouver en groupe.

Si certains s'y rendent de façon occasionnelle, d'autres font du fast-food leur cantine quotidienne, engendrant de ce fait une consommation importante de graisses et de sucres. Quel peut être l'impact sur la santé d'une fréquentation régulière du fast-food ? Dans ce cas, quels sont les conseils nutritionnels que l'on peut donner ?

Produit	Portion (g)	Apport énergétique (kcal)	Protéines (g)	Lipides (g)	Glucides (g)
Hamburger	103	262	13,1	9,2	31,5
Cheeseburger	117	305	15,6	12,9	31,8
Double hamburger	214	512	25,9	25,8	43,8
Frites (petite portion)	106	299	3,8	14,7	37,9
Nuggets de poulet	200	496	2,6	20,6	42,4
Salade César au poulet	309	349	25,7	16,4	19,2
Fruits à croquer	80	44	-	-	11
Muffin chocolat	100	347	5	19	39
Sundae caramel	178	309	8,5	15,1	34,8
Milk shake vanille	345	385	11,6	10,4	61,2
Soda au cola	150	67	-	-	16,7

Modèle CCYC : ©DNE

Nom de famille (naissance) :


(Suivi s'il y a lieu, du nom d'usage)

Prénom(s) :

N° candidat :  N° d'inscription :

(Les numéros figurent sur la convocation.)

Né(e) le :  /  /



RÉPUBLIQUE FRANÇAISE

1.1

## Document 2 : Groupes d'aliments et besoins alimentaires journaliers

Les besoins caloriques journaliers dépendent essentiellement du sexe, de l'âge, du poids et du niveau d'activité physique. En cas d'activité physique de faible intensité, le besoin calorique à 18 ans se monte à environ 2000 kcal par jour chez la jeune femme et de 2500 kcal par jour chez le jeune homme (d'après Inpes, Institut national de prévention et d'éducation pour la santé).

Il est parfois conseillé de suivre, pour la répartition des différents nutriments, la règle du « 421 GPL ».

En faisant correspondre l'ordre des lettres, on lit « 4G », « 2P » et « 1L ». Cela correspond aux nombres de parts qu'il est conseillé de consommer : 4 portions de glucides pour 2 portions de protéines pour 1 portion de lipides (Il faut entendre « portions » comme des masses égales).

En nutrition, les aliments sont classés en 7 groupes principaux. Ce classement se fait par leurs teneurs en nutriments (protéines, lipides, glucides), minéraux (fer, calcium, magnésium...) et vitamines (liposolubles : A, D, E, K et hydrosolubles : B, C...).

En pratique, pour avoir une alimentation équilibrée, il faut puiser chaque jour une ou plusieurs fois dans ces groupes d'aliments.

Groupes d'aliments	Nutriments
Produits laitiers	Protéines, lipides et calcium, phosphore
Viandes, poissons, œufs	Protéines, lipides et fer, zinc, sélénium
Matières grasses	Acides gras et vitamines
Céréales, féculents, légumes secs	Glucides complexes, fibres et magnésium
Fruits et légumes	Vitamines, minéraux et fibres
Produits sucrés (chocolat, miel, confiture...)	Glucides simples
Boissons (eau à volonté!)	Minéraux

### Données :

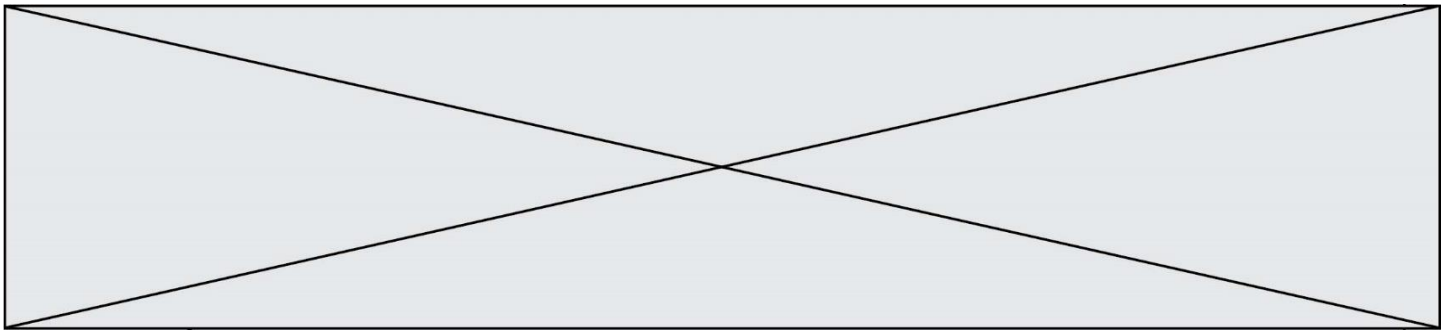
1 g de protéine apporte 4 kcal.

1 g de lipide apporte 9 kcal.

1 g de glucide apporte 4 kcal.

On souhaite vérifier l'apport énergétique d'une petite portion de frites indiqué dans le **document 1**.

1. Rappeler la définition de la calorie.



2. En utilisant les données, vérifier que l'apport énergétique d'une petite portion de frites est bien de 299 kcal.

Un jeune homme décide de se rendre au fast-food pour le dîner. Dans la journée, son alimentation lui a apporté environ 1500 kcal. Voici le menu qu'il choisit :

- un cheeseburger,
- une petite portion de frites,
- un sundae caramel,
- un soda au cola.

3. Calculer l'apport énergétique de ce repas à l'aide du **document 1**.

4. Proposer un commentaire, à l'aide des informations contenues dans le **document 2**, permettant d'envisager si ce menu convient au jeune homme pour compléter ses besoins caloriques journaliers.

5. Indiquer si ce menu vérifie la règle du « 421 GPL » décrite dans le **document 2**, à partir du calcul des masses de protéines, glucides et lipides apportées par le menu.

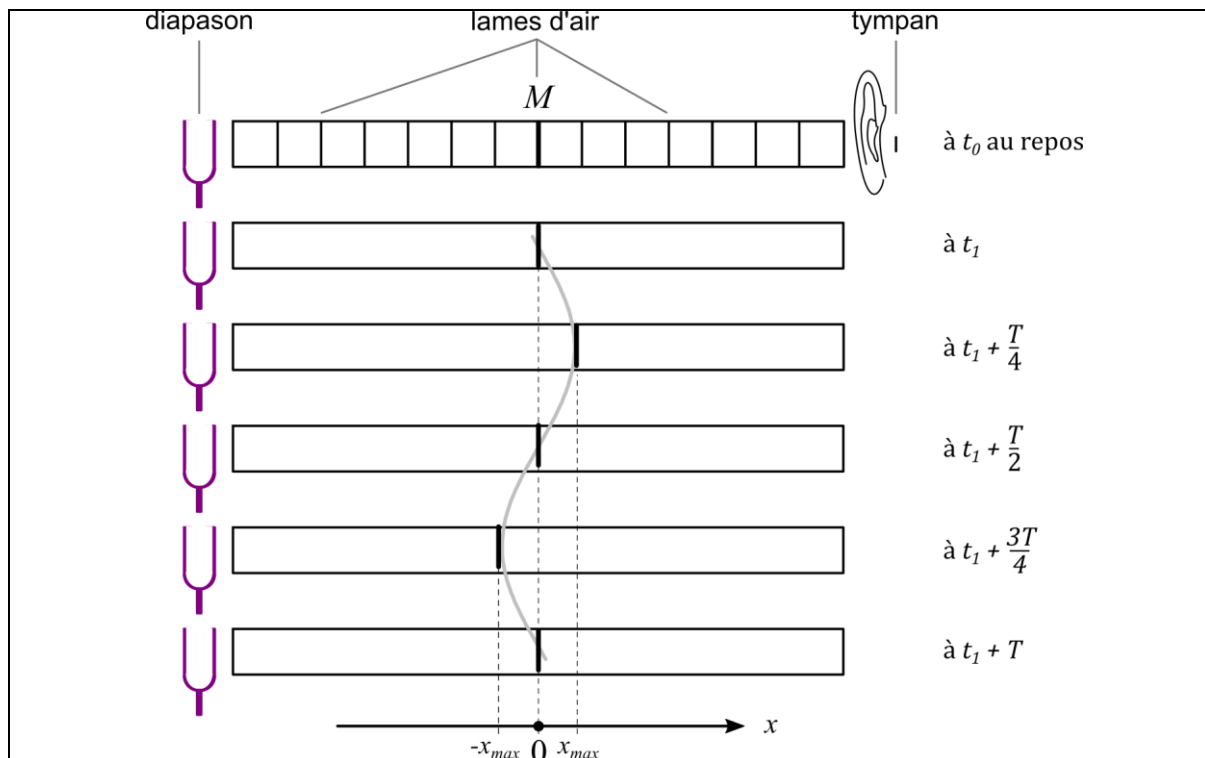
6. Porter un regard critique sur ce menu. Donner alors quelques conseils au jeune homme en termes de nutrition à l'appui du **document 2**.

7. Prévoir quelles peuvent être les conséquences d'une fréquentation quotidienne des fast-foods sur la santé des adolescents.

### Exercice 3 : Caractéristiques d'un son (5 points)

Le **document 1** illustre un modèle de propagation de l'onde sonore dans l'air. Dans ce modèle, l'air est découpé en une succession de tranches initialement au repos. Lorsque l'on frappe une branche du diapason, les tranches successives sont mises en oscillation. Une interface entre deux tranches, notée  $M$  et repérée en gras sur le schéma du **document 1**, est immobile à la date  $t_0$  et oscille de manière périodique à partir de la date  $t_1$ . Sur le **document 1**, la position de l'interface  $M$  est représentée à différents instants à partir de la date  $t_1$ .

**Document 1** : Modèle de propagation du son émis par un diapason



**Document 2 : Fréquence de quelques notes musicales**

Note	Do 1	Ré 1	Mi 1	Fa 1	Sol 1	La 1	Si 1
Fréquence (S.I.)	65,406 4	73,416 2	82,406 9	87,307 1	97,998 9	110,00 0	123,47 1
Note	Do 2	Ré 2	Mi 2	Fa 2	Sol 2	La 2	Si 2
Fréquence (S.I.)	130,81 3	146,83 2	164,81 4	174,61 4	195,99 8	220,00 0	246,94 9
Note	Do 3	Ré 3	Mi 3	Fa 3	Sol 3	La 3	Si 3
Fréquence (S.I.)	261,62 6	293,66 5	329,62 8	349,22 8	391,99 5	440,00 0	493,88 3

S.I. désigne l'unité du système international

**Donnée :**

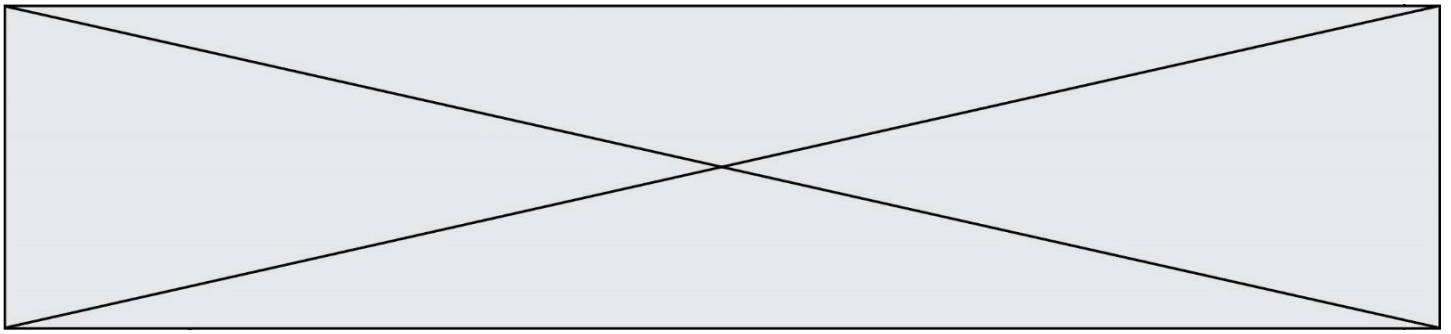
$1 \text{ ms} = 1 \cdot 10^{-3} \text{ s}$

1. Définir un phénomène périodique.

2. Expliquer ce que représentent, sur le **document 1**, chacune des trois indications suivantes :

$-x_{max}$  ;  $+x_{max}$  ;  $T$ .

À l'aide d'un dispositif d'enregistrement, on détermine que la durée  $\Delta t$  de 55 oscillations de l'interface  $M$  est égale à 500 ms.



3. Calculer la période de l'onde sonore émise par le diapason.

4. En déduire la fréquence de cette onde, exprimée dans l'unité du système international. On précisera le nom et le symbole de cette unité.

On considère maintenant que la valeur de la fréquence du son émis par le diapason vaut 110 S.I.

5. Préciser, en expliquant le choix effectué, si le son émis par le diapason est grave, médium ou aigu.

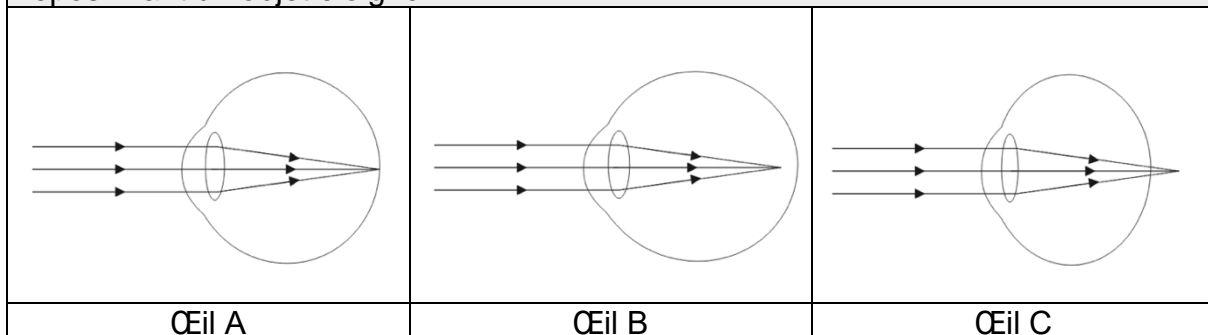
6. À l'aide du **document 2**, déterminer la note musicale correspondant au son émis par le diapason.

7. Indiquer à quelle caractéristique du son est associée la grandeur  $x_{max}$ . Expliquer le risque encouru par l'auditeur si la valeur de  $x_{max}$  est trop élevée.

**Exercice 4 : Diagnostic d'un trouble de la vision (5 points)**

Un infirmier scolaire est alerté par un enseignant d'une classe de CM2 au sujet d'un élève manifestant des difficultés de concentration et se plaignant fréquemment de maux de tête. L'infirmier scolaire remarque que l'élève éprouve des difficultés pour lire, depuis le fond de la classe, un texte écrit au tableau. L'infirmier émet l'hypothèse que les troubles de l'élève sont liés à un problème de vision et recommande à la famille un examen approfondi auprès d'un ophtalmologiste.

**Document 1** : schémas simplifiés montrant le trajet de la lumière dans un œil au repos fixant un objet éloigné.



**Document 2** : extrait légendé d'une ordonnance délivrée par un ophtalmologiste.

