





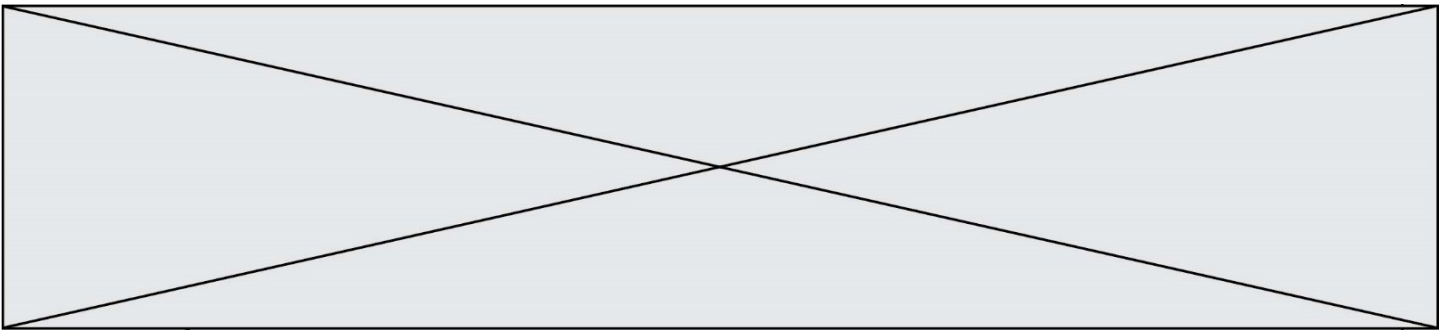
## PARTIE I – Exercice 1

### Automatismes (5 points)

Sans calculatrice    Durée : 20 minutes

	Enoncé	Réponse								
1)	Pour augmenter une quantité de 8%, on la multiplie par :									
2)	À quelle évolution correspond un coefficient multiplicateur de 0,4 ?									
3)	Après une baisse de 30%, un sac coûte 70€. Quel était son prix initial ?									
4)	La quantité de cerises produites par un agriculteur augmente au cours du temps. On définit l'indice en base 100 pour la première valeur prise par cette quantité. <table border="1" data-bbox="263 1373 737 1462"><tr><td>Quantité en kg</td><td>25</td><td>30</td><td>...</td></tr><tr><td>Indice</td><td>100</td><td>...</td><td>150</td></tr></table>	Quantité en kg	25	30	...	Indice	100	...	150	Calculer l'indice en base 100 correspondant à la quantité 30 :
Quantité en kg	25	30	...							
Indice	100	...	150							
5)		Calculer la quantité correspondant à l'indice 150 :								
6)	Calculer le taux d'évolution global d'une hausse de 10% suivie d'une baisse de 20%.									
7)	Résoudre l'équation : $6x - 5 = 4x + 3$									





Modèle CCYC : ©DNE

Nom de famille (naissance) :


(Suivi s'il y a lieu, du nom d'usage)

Prénom(s) :

N° candidat :  N° d'inscription :

(Les numéros figurent sur la convocation.)

Né(e) le :  /  /



RÉPUBLIQUE FRANÇAISE

1.1

## PARTIE II

**Calculatrice autorisée**

**Cette partie est constituée de trois exercices indépendants**

### Exercice 2 (5 points)

Une entreprise fabrique des lampes solaires. Elle ne peut pas produire plus de 5000 lampes par mois.

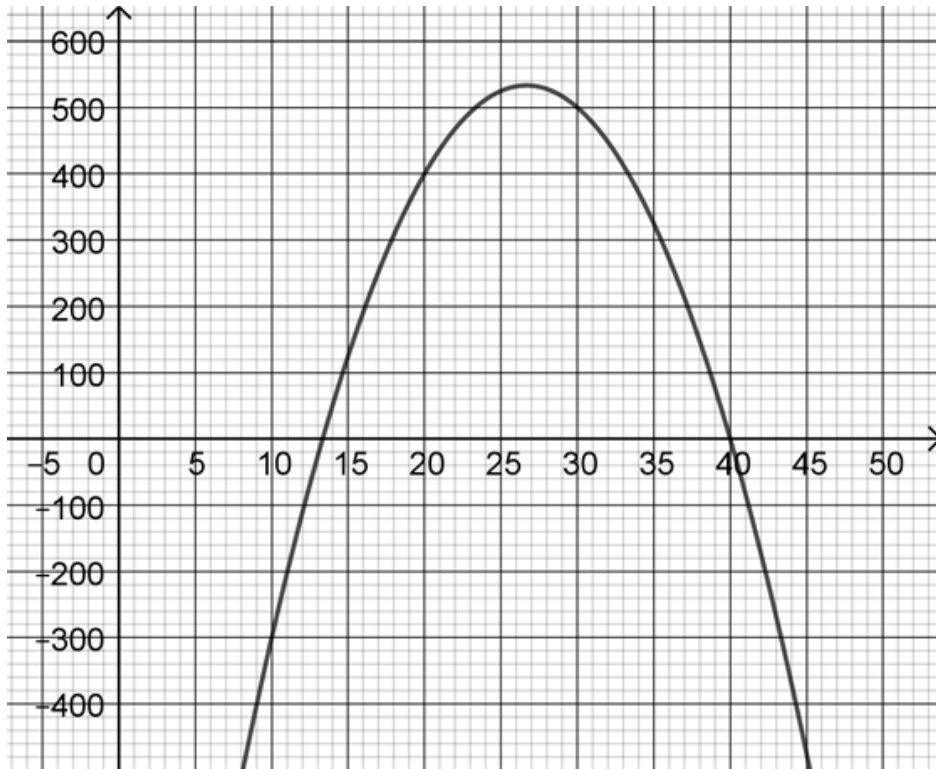
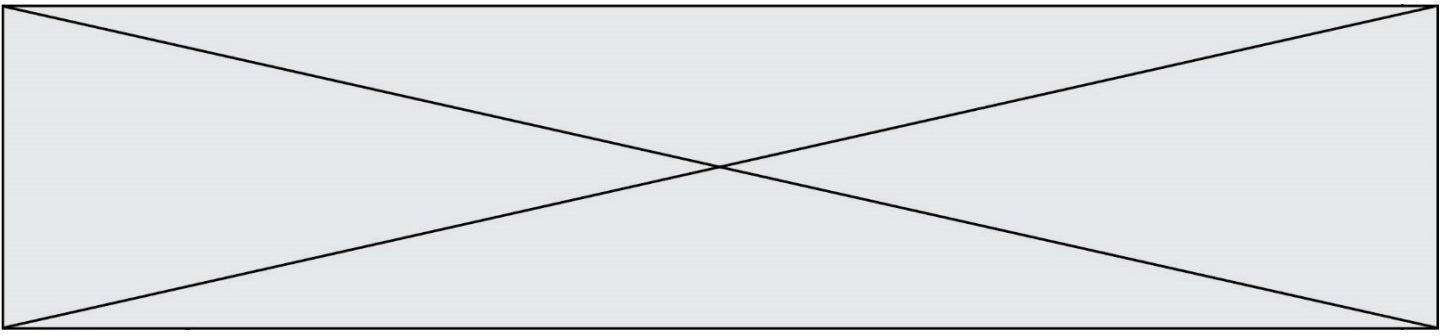
Le résultat qu'elle peut réaliser en un mois, exprimé en centaines d'euros, est modélisé par une fonction  $b$  dont la représentation graphique est donnée ci-dessous. Si ce résultat est positif, on l'appelle bénéfice. L'axe des abscisses indique le nombre de lampes produites et vendues exprimé en centaines.

En utilisant le graphique :

1. Lire  $b(10)$  et interpréter ce résultat dans le contexte de l'exercice.
2. Déterminer avec la précision que la lecture graphique permet, le bénéfice maximal que peut réaliser l'entreprise et les quantités de lampes à fabriquer correspondantes.
3. La fonction  $b$  définie sur l'intervalle  $[0; +\infty[$  est définie par l'expression suivante :

$$b(x) = -3x^2 + 160x - 1600.$$

- a. Montrer que  $b(x) = (x - 40)(-3x + 40)$ .
- b. Résoudre l'équation  $b(x) = 0$ .
- c. Donner la valeur exacte du maximum de la fonction  $b$  et en quel nombre il est atteint.



Modèle CCYC : ©DNE

Nom de famille (naissance) :

(Suivi s'il y a lieu, du nom d'usage)

Prénom(s) :

N° candidat :

N° d'inscription :



Né(e) le :

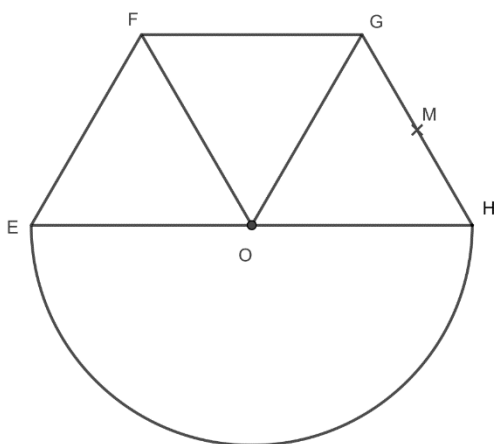
(Les numéros figurent sur la convocation.)

1.1

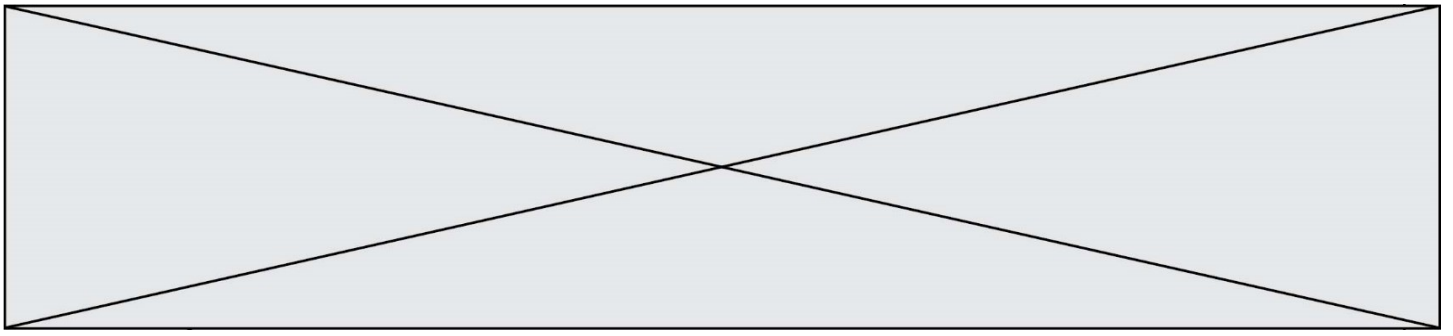
### Exercice 3 (5 points)

On souhaite réaliser une frise sur un tissu à partir d'un motif élémentaire A assemblant un demi-cercle de rayon R et la moitié d'un hexagone régulier inscrit dans un cercle de même rayon.

Le motif élémentaire A est représenté ci-dessous :



1. Le contour du motif A dans la frise sera brodé. Déterminer le périmètre de ce motif A sachant que le rayon du cercle est égal à 4 cm.
2. L'intérieur du motif A de la frise sera peint.
  1. Calculer la hauteur OM du triangle OHG constituant le demi-hexagone.
  2. Déterminer l'aire de ce motif A.
3. À partir de ce motif élémentaire A, construire sur la feuille annexe à rendre **avec la copie** un second motif par symétrie centrale de centre M.
4. La frise est obtenue par translation de vecteur  $\overrightarrow{EH}$  à partir de ces deux motifs (A et son symétrique). Construire sur la frise en annexe le prochain motif élémentaire A.



#### Exercice 4 (5 points)

Un restaurant propose dans son menu trois formules :

- Formule A : entrée + plat
- Formule B : plat + dessert
- Formule C : entrée + plat + dessert

On note le choix des clients venus pour déjeuner à midi (ensemble noté  $M$ ) ou pour dîner le soir (ensemble noté  $S$ ). Les effectifs sont répertoriés dans le tableau ci-dessous.

	Formule A	Formule B	Formule C	Total
Déjeuner $M$	27	31		75
Dîner $S$	12	20	53	85
Total	39	51	70	160

1. Quel effectif doit-on écrire dans la case vide du tableau ?
2.
  - a. Calculer la fréquence en pourcentage des clients ayant choisi la formule A parmi ceux qui sont venus déjeuner le midi.
  - b. Montrer que la fréquence en pourcentage de clients venus dîner le soir parmi ceux qui ont choisi la formule B est au dixième près égale à 39,2%.
3. Calculer la fréquence en pourcentage des clients ayant déjeuné le midi dans ce restaurant.
4. Le patron du restaurant déclare : « J'ai une carte des desserts très attractive car plus des trois quarts des clients choisissent une formule avec dessert. ». A-t-il raison ? Justifier.



