

### Données de spectroscopie infrarouge

Liaison	Nombre d'onde (cm <sup>-1</sup> )	Intensité
Liaison C – NH <sub>2</sub>	3100 - 3500	Bande double forte
Liaison C - NH	3100 - 3500	Bande simple forte
Liaison O – H acide carboxylique	2500-3200	Bande forte à moyenne, large
Liaison C – H	2800-3000	Bande forte
Liaison C = O avec N voisin	1660 - 1685	Bande forte et fine
Liaison C = O aldéhyde et cétone	1650-1730	Bande forte et fine
Liaison C = O acide carboxylique	1680-1710	Bande forte et fine
Liaison C = C	1640-1680	Bande moyenne

Masse volumique de la solution d'acide glyoxylique à 50 % en masse :  $\rho = 1,3 \text{ g.mL}^{-1}$

Valeurs d'électronégativité de quelques atomes :

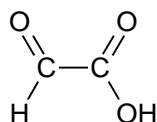
$$\chi(\text{H}) = 2,20 \quad \chi(\text{C}) = 2,55 \quad \chi(\text{N}) = 3,04 \quad \chi(\text{O}) = 3,44$$

Numéros atomiques de quelques éléments :

$$Z(\text{H}) = 1 \quad Z(\text{C}) = 6 \quad Z(\text{N}) = 7 \quad Z(\text{O}) = 8$$

## 1. À propos de l'acide glyoxylique.

L'acide glyoxylique est un solide, très utilisé dans l'industrie, de formule semi-développée :



- 1.1. Recopier sur la copie la formule semi-développée de la molécule d'acide glyoxylique et identifier les groupes caractéristiques qui la composent.
- 1.2. Représenter le schéma de Lewis de la molécule.
- 1.3. Donner, en justifiant, la géométrie de cette molécule autour de l'un ou l'autre des atomes de carbone.

## 2. A propos de l'ammoniac et urée

L'urée est un composé organique de formule chimique semi-développée :  $\text{H}_2\text{N} - \text{CO} - \text{NH}_2$   
L'urée naturelle fut découverte en 1773 par le pharmacien Hilaire Rouelle. Formée dans le foie, à partir de l'ammoniac,  $\text{NH}_3$ , provenant de la dégradation d'acides aminés, l'urée naturelle est éliminée au niveau des reins par l'urine.

En 1828, le chimiste allemand Friedrich Wöhler réussit à synthétiser en laboratoire l'urée, molécule dite « organique » à l'époque, à partir d'ammoniac. On considérait avant cette synthèse que les molécules « organiques » ne pouvaient provenir que de constituants ou de dérivés d'organismes vivants habités par la « force vitale » (*vis vitalis*). Cette date, gravée dans l'histoire, est retenue comme étant celle fondatrice de la chimie organique.

Modèle CCYC : ©DNE

Nom de famille (naissance) :

(Suivi s'il y a lieu, du nom d'usage)

Prénom(s) :

N° candidat :

N° d'inscription :



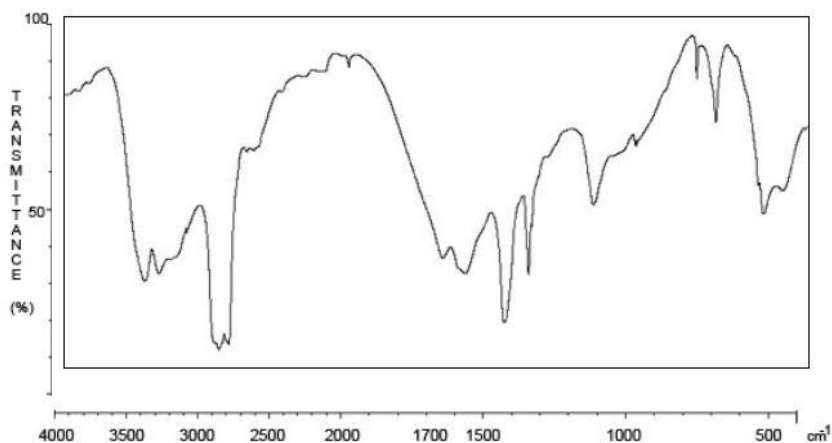
Né(e) le :

(Les numéros figurent sur la convocation.)

1.1

D'après <http://www.societechimiquedefrance.fr/uree.html>

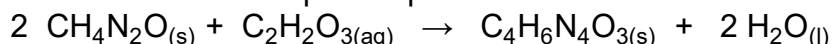
- 2.1. Donner la configuration électronique de l'azote N et de l'hydrogène H. En déduire la géométrie de la molécule d'ammoniac.
- 2.2. Justifier le caractère polaire de la molécule d'ammoniac.
- 2.3. On s'intéresse au spectre Infrarouge de l'urée.



- 2.3.1. Nommer la grandeur qui figure en abscisse du spectre Infrarouge.
- 2.3.2. Que confirme la bande la plus à gauche du spectre ?
- 2.3.3. Repérer la bande du spectre qui confirme la présence d'une liaison C = O. Peut-elle être attribuée sans ambiguïté à la liaison C=O de l'urée ? Justifier.

### 3. Synthèse de l'allantoïne

Une voie de synthèse de l'allantoïne s'effectue à partir d'urée et d'acide glyoxylique et peut être modélisée par une réaction chimique d'équation suivante :



Le protocole expérimental d'une synthèse de l'allantoïne, réalisée au laboratoire, est décrit ci-après :

- a. Placer un barreau aimanté dans un erlenmeyer de 100 mL puis, à l'aide d'un entonnoir à solide, verser 13,6 g d'urée et 10,0 mL de solution aqueuse d'acide glyoxylique à 50% en masse. Agiter jusqu'à l'obtention d'une solution limpide. Introduire lentement 1,5 mL d'acide sulfurique concentré, sous agitation magnétique. L'acide sulfurique a pour rôle d'accélérer la réaction. Adapter un réfrigérant ascendant.
- b. Placer l'erlenmeyer dans un bain-marie. Maintenir l'agitation, le chauffage et l'ébullition de l'eau du bain-marie pendant 45 minutes. Le milieu réactionnel se trouble au bout de 15 à 20 minutes avec l'apparition d'un précipité blanchâtre.
- c. Plonger ensuite le bécher dans de la glace pendant quelques minutes. Récupérer le solide à l'aide d'un dispositif de filtration sous vide de type Büchner.
- d. Laver avec suffisamment d'eau glacée. Sécher à l'étuve le temps nécessaire.
- e. Peser le solide obtenu.



- 3.1. Associer aux différentes étapes (a, b, c, d, e) mises en oeuvre les différentes étapes d'un protocole de synthèse : transformation ; séparation, purification, analyse.
- 3.2. Préciser Expliquer l'apparition progressive du précipité blanchâtre.
- 3.3. Justifier l'utilisation de la glace dans l'étape c.
- 3.4. Justifier l'intérêt de laver à l'étape d du protocole, le solide obtenu avec suffisamment d'eau glacée.
- 3.5. Déterminer le rendement de la synthèse ainsi effectuée, sachant que la masse d'allantoïne sèche obtenue vaut  $m = 8,60$  g.

## PARTIE B

### Un ballon pour les compétitions internationales de football (10 points)

La loi 2 de l'International Football Association Board a fixé les caractéristiques d'un ballon utilisé pour les compétitions internationales : le ballon doit être sphérique, en cuir ou dans une autre matière adéquate, avoir un diamètre de 22 cm et la pression de l'air dans le ballon doit être comprise entre  $1,6 \times 10^5$  Pa et  $2,1 \times 10^5$  Pa.

D'après <http://www.theifab.com/fr/laws/chapter/22/section/31/>


L'objectif de cet exercice est d'étudier le gonflage d'un ballon et son utilisation dans des lieux de compétitions d'altitude différente. Nous nous intéresserons ainsi à deux lois liées à cette situation : la loi de Mariotte, qui permet d'étudier le gonflage et la loi de statique des fluides qui permet de réfléchir à l'influence de l'altitude sur le gonflage.

#### 1. Étude expérimentale et utilisation de la loi de Mariotte.

Une expérience est menée au laboratoire pour tester la loi de Mariotte à l'aide d'un microcontrôleur et d'un capteur de pression.

On suit le protocole expérimental suivant :

- ① remplir initialement une seringue avec  $30 \text{ cm}^3$  d'air ;
- ② relier la seringue au capteur de pression connecté à un microcontrôleur ;
- ③ téléverser le programme « Mesure Pression » présenté ci-dessous dans le microcontrôleur ;
- ④ faire varier le volume du gaz dans la seringue et noter alors la valeur de la pression correspondante affichée sur l'écran LCD relié au microcontrôleur.



Modèle CCYC : ©DNE

Nom de famille (naissance) :

(Suivi s'il y a lieu, du nom d'usage)

Prénom(s) :

N° candidat :  N° d'inscription :

(Les numéros figurent sur la convocation.)

Né(e) le :  /  /



RÉPUBLIQUE FRANÇAISE

1.1

### 1.1. Adaptation du programme « Mesure Pression »

Un extrait du programme associé au pilotage du microcontrôleur dans le montage expérimental précédent est donné ci-dessous.

```

28 //Lisez la tension sur la broche analogique A9 puis calculer
29 //la pression en tenant compte des caractéristiques du capteur
30
31 float Pression = (analogRead(A9) * 38 / 1023 + 2.98) * 100 ;
32
33 //Paramétrage de l'écran LCD
34 lcd.clear();
35 lcd.setCursor(0, 0);
36
37 //Affichage de la pression P sur l'écran LCD
38 lcd.print("P = ");
39 lcd.print(Pression, 0);
40 lcd.print(" hPa");
41
42 //Délai d'affichage de 2 secondes entre 2 mesures
43 delay(2000);
44 }

```

1.1.1. Indiquer en quelle unité la pression mesurée par le capteur sera affichée sur l'écran.

1.1.2. Dans le programme, la valeur de la pression est affichée sans décimale. Expliquer comment modifier la ligne 39 du programme pour que la valeur de la pression soit affichée avec 2 décimales.

1.1.3. Expliquer comment modifier la ligne 43 pour que les mesures soient faites toutes les 3 secondes.

### 1.2. Traitement de mesures obtenues en faisant varier le volume du gaz

Pour chaque volume d'air choisi dans la seringue, le microcontrôleur indique des valeurs de pression toutes les 2 secondes. Ces valeurs sont très proches, mais fluctuent légèrement. Le tableau ci-dessous rassemble les valeurs de la pression  $P$  affichée par l'écran LCD du microcontrôleur pour différents volumes du gaz dans la seringue :

$V$ (cm <sup>3</sup> )	20	25	30	35	40	50
$P$ (hPa)	1505	1195	998	852	745	600

1.2.1. Énoncer la loi de Mariotte.

1.2.2. Exploiter ces mesures pour tester la loi de Mariotte. On explicitera précisément la méthode utilisée.

### 1.3. Gonflage d'un ballon de football

On utilise un gonfleur électronique de ballon ayant les caractéristiques suivantes :

- débit d'air à l'entrée du gonfleur : 4 litres par minute ;
- arrêt automatique quand la pression souhaitée est atteinte.



On souhaite gonfler, à l'aide de ce gonfleur, un ballon de football de compétition de diamètre égal à 22 cm pour obtenir une pression de l'air à l'intérieur du ballon de  $2,1 \times 10^5$  Pa. On admet qu'avant le gonflage le ballon est totalement dégonflé et que le volume d'air à l'intérieur est négligeable. On admet également que la température reste constante pendant le gonflage. On précise que l'air entrant dans le compresseur est à la pression atmosphérique.

**1.3.1.** On appelle  $V_0$  le volume d'air à prélever dans le milieu extérieur pour le gonflage,  $V_1$  et  $P_1$  le volume d'air et la pression à l'intérieur du ballon une fois qu'il est gonflé.

Montrer que  $V_0 = \frac{P_1 \times V_1}{P_0}$ .

**1.3.2.** Montrer que la durée nécessaire au gonflage, à l'aide du gonfleur électronique, est voisine de 3 minutes.

➤ **Données :**

Pression atmosphérique	Volume d'une sphère de rayon $R$	Unités de volume
$P_0 = 1,013 \times 10^5$ Pa	$V = \frac{4}{3} \times \pi \times R^3$	1 litre correspond à $10^3$ cm <sup>3</sup>

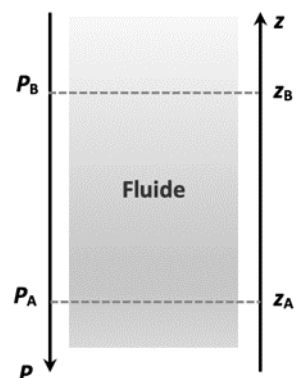
## 2. Utilisation du ballon dans des lieux de compétitions d'altitudes différentes.

On s'intéresse dans cette partie à la loi fondamentale de la statique des fluides pour modéliser l'évolution de la pression atmosphérique en fonction de l'altitude. Cette loi précise que, pour un fluide au repos incompressible de masse volumique  $\rho$ , la différence de pression entre deux points, A et B, s'exprime par la relation :

$$P_B - P_A = \rho \times g \times (z_A - z_B)$$

Dans cette relation :

- la masse volumique  $\rho$  s'exprime en  $\text{kg} \cdot \text{m}^{-3}$  ;
- l'intensité de pesanteur  $g$  s'exprime en  $\text{N} \cdot \text{kg}^{-1}$  ;
- les altitudes  $z_A$  et  $z_B$  s'expriment en m et sont repérées sur un axe vertical ascendant Oz.



Les villes de Denver et de New York se sont portées candidates pour accueillir les matchs de la coupe du monde de football 2026 organisée conjointement par les États-Unis, le Canada et le Mexique.

Modèle CCYC : ©DNE

Nom de famille (naissance) :

(Suivi s'il y a lieu, du nom d'usage)

Prénom(s) :

N° candidat :

N° d'inscription :

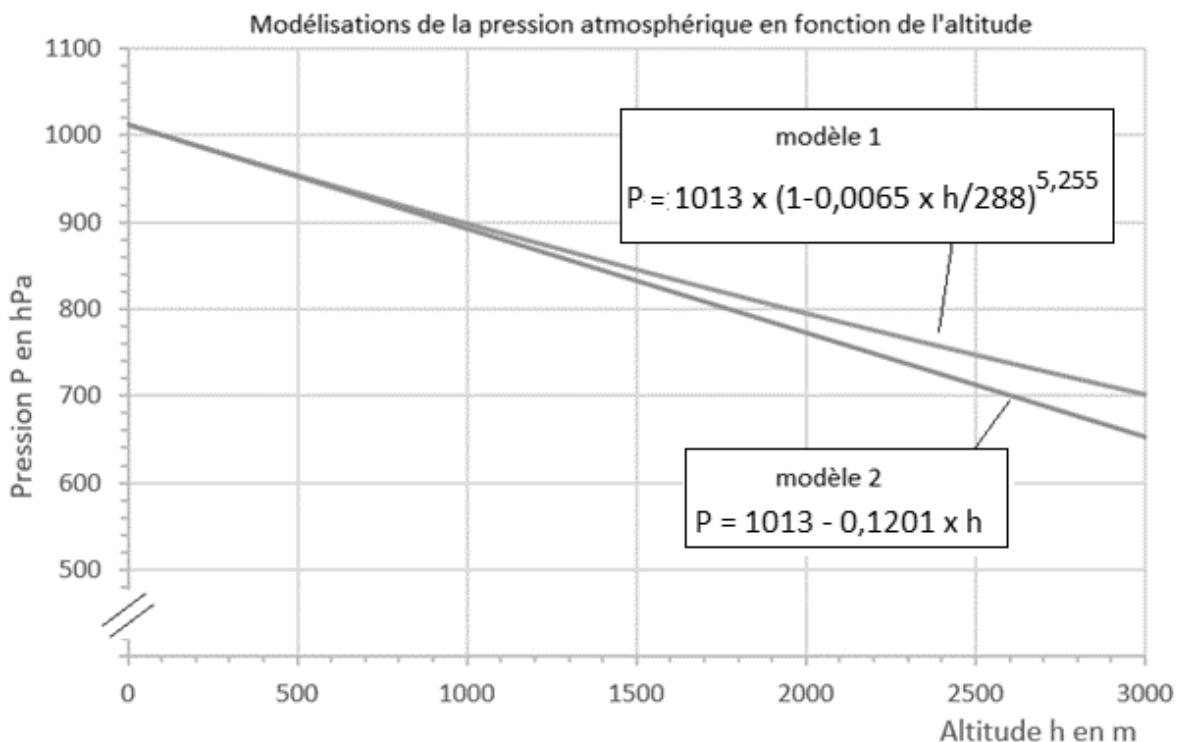
(Les numéros figurent sur la convocation.)

Né(e) le :



1.1

- 2.1. Comparer qualitativement la valeur de la pression au point A à celle au point B.
- 2.2. Évaluer la différence de pression atmosphérique  $P_{NY} - P_D$  entre les villes de New York située à 10 mètres d'altitude et de Denver située à 1600 mètres d'altitude. Pour les deux villes, on suppose que la masse volumique de l'air a pour valeur  $\rho = 1,1 \text{ kg}\cdot\text{m}^{-3}$  et que l'intensité de la pesanteur a pour valeur  $g = 9,8 \text{ N}\cdot\text{kg}^{-1}$ .
- 2.3. Sur le site Planet-Terre de l'École Normale Supérieure de Lyon, différents modèles de l'atmosphère sont proposés.
- **Modèle 1** : la masse volumique de l'air dépend de la pression et de la température. On suppose que la température varie selon une fonction affine décroissante de l'altitude.
  - **Modèle 2** : la masse volumique de l'air est constante, quelle que soit l'altitude.
- Les graphes correspondants à chacun des deux modèles, et représentant l'évolution de la pression atmosphérique en fonction de l'altitude, sont donnés ci-dessous (par souci d'échelle l'axe vertical n'est pas gradué à partir de l'origine).



On considère que ces deux modèles sont équivalents quand les valeurs de pression qu'ils donnent diffèrent entre elles de moins de 5 %.

- 2.3.1. Auquel des modèles 1 ou 2 est liée la loi fondamentale de la statique des fluides ?
- 2.3.2. Au vu des graphiques ci-dessus, l'utilisation de cette loi pour répondre à la question 2.2 paraît-elle justifiée ?