



Classe de première

Voie générale

Épreuve de spécialité
non poursuivie en classe de terminale

Sciences de la vie et de la Terre

Évaluation Commune

Durée de l'épreuve : 2 heures

Les élèves doivent traiter les deux exercices du sujet.

Les calculatrices ne sont pas autorisées.

Modèle CCYC : ©DNE

Nom de famille (naissance) :


(Suivi s'il y a lieu, du nom d'usage)

Prénom(s) :

N° candidat : N° d'inscription :

(Les numéros figurent sur la convocation.)

Né(e) le : / /



1.1

Exercice 1 – Mobilisation des connaissances – 10 points

Corps humain et santé
Le fonctionnement du système immunitaire humain

La coopération au sein du système immunitaire

Lors d'une infection, différentes réponses se mettent en place, permettant au système immunitaire de combattre cette infection.

Montrer l'importance de la coopération au sein du système immunitaire pour combattre une infection, en vous plaçant aux échelles cellulaire et moléculaire.

Vous rédigerez un exposé structuré. Vous vous appuyerez sur des représentations graphiques judicieusement choisies. On attend des arguments pour illustrer l'exposé comme des expériences, des observations, des exemples.




Exercice 2 – Pratique d’une démarche scientifique – 10 points

Enjeux contemporains de la planète
Ecosystèmes et services environnementaux

L’évolution cyclique des effectifs des tétras-lyres

Le tétras-lyre (aussi appelé petit coq de bruyère) est une espèce à forte valeur patrimoniale. Quoiqu’elle ne soit pas menacée de disparition à court terme, son état de conservation, en Europe, est préoccupant et, en France, cette espèce est quasi menacée.

Dans le nord de l’Angleterre, des propriétaires gardent des comptes détaillés et précis du gibier chassé sur leurs terres chaque année. L’examen de ces recueils révèle que le nombre de tétras-lyres chassés fluctue de façon cyclique (cf. document 1). Par extrapolation, ces fluctuations correspondent à des cycles de l’effectif de la population, que l’on cherche à expliquer.



Tétras-lyres © Jacques Blanc - PNM

Montrer que l’interaction avec le parasite *Trichostrongylus tenuis* peut expliquer à elle seule les cycles observés dans l’effectif des populations de tétras-lyres.

Vous organiserez votre réponse selon une démarche de votre choix intégrant des données issues des documents et les connaissances complémentaires nécessaires.

Document 2 - Quelques caractéristiques biologiques du nématode *Trichostrongylus tenuis*.

Les nématodes sont des animaux de petite taille et ont la forme de vers ronds. Certains, comme *Trichostrongylus tenuis* (*T. tenuis*), sont des parasites. Les nématodes *Trichostrongylus tenuis* se développent dans le tube digestif des téttras, où ils provoquent une inflammation interne et des saignements (Watson et al. 1987).

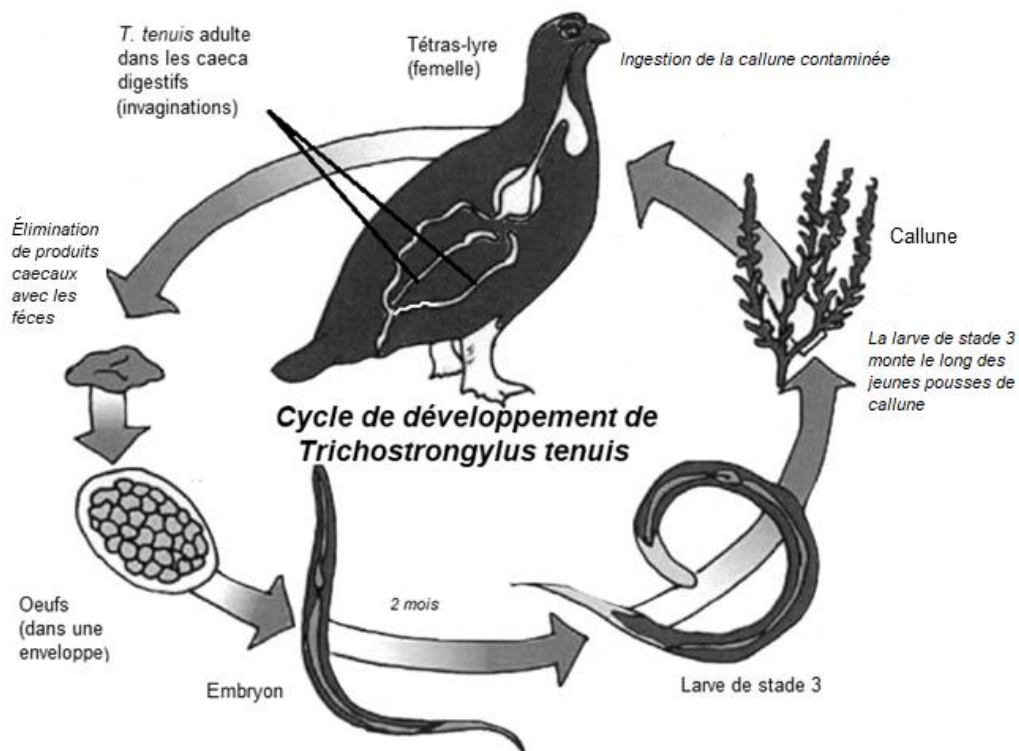


Schéma de Game & Wildlife Conservation Trust, modifié

Les adultes *T. tenuis* semblent produire des œufs à un taux constant. Les deux premiers stades larvaires du nématode restent dans les fèces (excréments). Les larves du troisième stade, elles, remontent les pousses en croissance de la callune, la principale plante consommée par les téttra-lyres. La contamination a lieu lorsque le téttra-lyre mange une pousse ainsi contaminée.

