

Modèle CCYC : ©DNE

Nom de famille (naissance) : (S'agit de la naissance, du lieu, du nom d'usage)

Prénom(s) :

N° candidat : N° d'inscription :

(Les numéros figurent sur la convocation.)

Né(e) le :



RÉPUBLIQUE FRANÇAISE

1.1

## ÉVALUATION COMMUNE

**CLASSE** : Première

**EC** :  EC1  EC2  EC3

**VOIE** :  Générale  Technologique  Toutes voies (LV)

**ENSEIGNEMENT** : Sciences de la vie et de la Terre. Spécialité de première.

**DURÉE DE L'ÉPREUVE** : 02h00

Niveaux visés (LV) : LVA LVB

Axes de programme :

La Terre, la vie et l'organisation du vivant, Transmission, variation et expression du patrimoine génétique

La Terre, la vie et l'organisation du vivant, La dynamique interne de la Terre

**CALCULATRICE AUTORISÉE** :  Oui  Non

**DICTIONNAIRE AUTORISÉ** :  Oui  Non

Ce sujet contient des parties à rendre par le candidat avec sa copie. De ce fait, il ne peut être dupliqué et doit être imprimé pour chaque candidat afin d'assurer ensuite sa bonne numérisation.

Ce sujet intègre des éléments en couleur. S'il est choisi par l'équipe pédagogique, il est nécessaire que chaque élève dispose d'une impression en couleur.

Ce sujet contient des pièces jointes de type audio ou vidéo qu'il faudra télécharger et jouer le jour de l'épreuve.

**Nombre total de pages** : 6



**Classe de première**

**Voie générale**

Épreuve de spécialité  
non poursuivie en classe de terminale

**Sciences de la vie et de la Terre**

**Évaluation Commune**

Durée de l'épreuve : 2 heures

Les élèves doivent traiter les deux exercices du sujet.

Les calculatrices ne sont pas autorisées.

Modèle CCYC : ©DNE

Nom de famille (naissance) :


(Suivi s'il y a lieu, du nom d'usage)

Prénom(s) :

N° candidat :  N° d'inscription :

(Les numéros figurent sur la convocation.)

Né(e) le :  /  /



RÉPUBLIQUE FRANÇAISE

1.1

### Exercice 1 – Mobilisation des connaissances – 10 points

La Terre, la vie et l'organisation du vivant  
Transmission, variation et expression du patrimoine génétique  
**La synthèse des protéines et le code génétique**

La synthèse des protéines est une activité fondamentale des cellules.

**Expliquer comment s'effectue la synthèse de protéines.**

*Vous rédigez un exposé structuré. Vous pouvez vous appuyer sur des représentations graphiques judicieusement choisies. On attend des arguments pour illustrer l'exposé comme des expériences, des observations, des exemples ...*

*Les documents fournis sont conçus comme des aides : ils peuvent vous permettre d'illustrer votre exposé mais leur analyse n'est pas attendue.*

#### Document d'aide a - Le code génétique

1ère base	2ème base				3ème base
	U	C	A	G	
<b>U</b>	Phe	Ser	Tyr	Cys	U
	Phe	Ser	Tyr	Cys	C
	Leu	Ser	~~~	~~~	A
	Leu	Ser	~~~	Trp	G
<b>C</b>	Leu	Pro	His	Arg	U
	Leu	Pro	His	Arg	C
	Leu	Pro	Gln	Arg	A
	Leu	Pro	Gln	Arg	G
<b>A</b>	Ile	Thr	Asn	Ser	U
	Ile	Thr	Asn	Ser	C
	Ile	Thr	Lys	Arg	A
	Met	Thr	Lys	Arg	G
<b>G</b>	Val	Ala	Asp	Gly	U
	Val	Ala	Asp	Gly	C
	Val	Ala	Glu	Gly	A
	Val	Ala	Glu	Gly	G

**Document d'aide b - Tableau de comparaison entre portions d'ADN et de protéines de l'Homme et du citronnier**

<i>Portion d'ADN d'un gène codant pour une protéine (myosine) chez l'Homme (Homo sapiens)</i>	<i>Portion d'ADN d'un gène codant pour une protéine (NADH De.) chez le citronnier (Citrus limon)</i>
--- ATG-GCA-GCC-GTG-ACC-ATG---	--- TGT-GTG-ATA-GCA-TCT-ACT ---
<i>Portion correspondante de la protéine chez l'Homme</i>	<i>Portion correspondante de la protéine chez le citronnier</i>
--- Met-Ala-Ala-Val-Thr-Met ---	--- Cys-Val-Ile-Ala-Ser-Thr ---



## **Exercice 2 – Pratique d'une démarche scientifique – 10 points**

La Terre, la vie et l'organisation du vivant

La dynamique interne de la Terre


### **Les Alpes, chaîne de collision**

La croûte continentale de la planète Terre se caractérise par des reliefs positifs plus ou moins accentués : plaines, plateaux, chaînes de montagne. Ces dernières ont pour origine les mouvements des plaques lithosphériques.


**Montrer que la chaîne des Alpes est une chaîne de collision.**

**Document 1 - Des structures géologiques observées dans les Alpes.**

**Document 1a - Affleurement du Pas Guignet**



**Document 1b – Affleurement dans les Alpes** d'après C. Nicollet



d'après geol-alp.com

Modèle CCYC : ©DNE

Nom de famille (naissance) :

(Suivi s'il y a lieu, du nom d'usage)

Prénom(s) :

N° candidat :

N° d'inscription :




Né(e) le :

(Les numéros figurent sur la convocation.)

1.1

## Document 1c - Vue du col du Lautaret



d'après C. Nicollet

## Document 2 - Échelle des temps géologiques

ÈRES	PÉRIODES	ÉPOQUES
CÉNOZOÏQUE	QUATERNAIRE	Holocène (récent) Pléistocène
	TERTIAIRE	1,6 — Pliocène
		5,3 — Miocène
		23,7 — Oligocène
		36,8 — Éocène
57,8 — Paléocène		
MÉSOZOÏQUE (Secondaire)	CRÉTACÉ	66,4
	JURASSIQUE	144
	TRIAS	208
PALÉOZOÏQUE (Primaire)	PERMIEN	245
	CARBONIFÈRE	286
	DÉVONIEN	360
	SILURIEN	408
	ORDOVICIEN	438
	CAMBRIEN	505



### Document 3- Profil ECORS et son interprétation

