


Modèle CCYC : ©DNE
Nom de famille (naissance) :
(Suivi s'il y a lieu, du nom d'usage)

Prénom(s) :

N° candidat : **N° d'inscription** :

(Les numéros figurent sur la convocation.)

Né(e) le : / /



Liberté • Égalité • Fraternité
RÉPUBLIQUE FRANÇAISE

1.1

ÉVALUATION COMMUNE

CLASSE : Première

VOIE : Générale Technologique Toutes voies (LV)

ENSEIGNEMENT : spécialité Numérique et Sciences Informatiques (NSI)

DURÉE DE L'ÉPREUVE : 02 h 00

Niveaux visés (LV) : LVA LVB

Axes de programme :

CALCULATRICE AUTORISÉE : Oui Non

DICTIONNAIRE AUTORISÉ : Oui Non

Ce sujet contient des parties à rendre par le candidat avec sa copie. De ce fait, il ne peut être dupliqué et doit être imprimé pour chaque candidat afin d'assurer ensuite sa bonne numérisation.

Ce sujet intègre des éléments en couleur. S'il est choisi par l'équipe pédagogique, il est nécessaire que chaque élève dispose d'une impression en couleur.

Ce sujet contient des pièces jointes de type audio ou vidéo qu'il faudra télécharger et jouer le jour de l'épreuve.

Nombre total de pages : 21

L'épreuve consiste en 42 questions, rangées en 7 thèmes.

Pour chaque question, le candidat gagne 3 points s'il choisit la bonne réponse, perd 1 point s'il choisit une réponse fautive. S'il ne répond pas ou choisit plusieurs réponses, il ne gagne ni ne perd aucun point.

Le total sur chacun des 7 thèmes est ramené à 0 s'il est négatif.

La note finale s'obtient en divisant le total des points par 6,3 et en arrondissant à l'entier supérieur.

Le candidat indique ses réponses aux questions en pages 2 et 3.

Seules les pages 1 à 4 sont rendues par le candidat à la fin de l'épreuve, pour être numérisées.

Les questions figurent sur les pages suivantes.



Thème A : types de base

Réponse à la question 1	A <input type="checkbox"/>	B <input type="checkbox"/>	C <input type="checkbox"/>	D <input type="checkbox"/>
Réponse à la question 2	A <input type="checkbox"/>	B <input type="checkbox"/>	C <input type="checkbox"/>	D <input type="checkbox"/>
Réponse à la question 3	A <input type="checkbox"/>	B <input type="checkbox"/>	C <input type="checkbox"/>	D <input type="checkbox"/>
Réponse à la question 4	A <input type="checkbox"/>	B <input type="checkbox"/>	C <input type="checkbox"/>	D <input type="checkbox"/>
Réponse à la question 5	A <input type="checkbox"/>	B <input type="checkbox"/>	C <input type="checkbox"/>	D <input type="checkbox"/>
Réponse à la question 6	A <input type="checkbox"/>	B <input type="checkbox"/>	C <input type="checkbox"/>	D <input type="checkbox"/>

Thème B : types construits

Réponse à la question 1	A <input type="checkbox"/>	B <input type="checkbox"/>	C <input type="checkbox"/>	D <input type="checkbox"/>
Réponse à la question 2	A <input type="checkbox"/>	B <input type="checkbox"/>	C <input type="checkbox"/>	D <input type="checkbox"/>
Réponse à la question 3	A <input type="checkbox"/>	B <input type="checkbox"/>	C <input type="checkbox"/>	D <input type="checkbox"/>
Réponse à la question 4	A <input type="checkbox"/>	B <input type="checkbox"/>	C <input type="checkbox"/>	D <input type="checkbox"/>
Réponse à la question 5	A <input type="checkbox"/>	B <input type="checkbox"/>	C <input type="checkbox"/>	D <input type="checkbox"/>
Réponse à la question 6	A <input type="checkbox"/>	B <input type="checkbox"/>	C <input type="checkbox"/>	D <input type="checkbox"/>

Thème C : traitement de données en tables

Réponse à la question 1	A <input type="checkbox"/>	B <input type="checkbox"/>	C <input type="checkbox"/>	D <input type="checkbox"/>
Réponse à la question 2	A <input type="checkbox"/>	B <input type="checkbox"/>	C <input type="checkbox"/>	D <input type="checkbox"/>
Réponse à la question 3	A <input type="checkbox"/>	B <input type="checkbox"/>	C <input type="checkbox"/>	D <input type="checkbox"/>
Réponse à la question 4	A <input type="checkbox"/>	B <input type="checkbox"/>	C <input type="checkbox"/>	D <input type="checkbox"/>
Réponse à la question 5	A <input type="checkbox"/>	B <input type="checkbox"/>	C <input type="checkbox"/>	D <input type="checkbox"/>
Réponse à la question 6	A <input type="checkbox"/>	B <input type="checkbox"/>	C <input type="checkbox"/>	D <input type="checkbox"/>

Thème D : interactions entre l'homme et la machine sur le Web

Réponse à la question 1	A <input type="checkbox"/>	B <input type="checkbox"/>	C <input type="checkbox"/>	D <input type="checkbox"/>
Réponse à la question 2	A <input type="checkbox"/>	B <input type="checkbox"/>	C <input type="checkbox"/>	D <input type="checkbox"/>
Réponse à la question 3	A <input type="checkbox"/>	B <input type="checkbox"/>	C <input type="checkbox"/>	D <input type="checkbox"/>
Réponse à la question 4	A <input type="checkbox"/>	B <input type="checkbox"/>	C <input type="checkbox"/>	D <input type="checkbox"/>
Réponse à la question 5	A <input type="checkbox"/>	B <input type="checkbox"/>	C <input type="checkbox"/>	D <input type="checkbox"/>
Réponse à la question 6	A <input type="checkbox"/>	B <input type="checkbox"/>	C <input type="checkbox"/>	D <input type="checkbox"/>



Modèle CCYC : ©DNE

Nom de famille (naissance) :


(Suivi s'il y a lieu, du nom d'usage)

Prénom(s) :

N° candidat : **N° d'inscription** :

(Les numéros figurent sur la convocation.)

Né(e) le : / /



RÉPUBLIQUE FRANÇAISE

1.1

Thème A : types de base

Question A.1

Parmi les quatre nombres suivants lequel est le seul à pouvoir être représenté de façon exacte en machine ?

Réponses

- A 3.1
- B 4.2
- C 5.24
- D 7.25

Question A.2

Un nombre entier signé est codé en complément à deux sur 8 bits par : 0111 0101.

Que peut-on dire ?

Réponses

- A c'est un nombre positif
- B c'est un nombre négatif
- C c'est un nombre pair
- D 7 bits auraient suffi à représenter cet entier signé en complément à deux

Question A.3

Laquelle de ces affirmations concernant le codage UTF-8 des caractères est vraie ?

Réponses

- A le codage UTF-8 est sur 7 bits
- B le codage UTF-8 est sur 8 bits
- C le codage UTF-8 est sur 1 à 4 octets
- D le codage UTF-8 est sur 8 octets

Question A.4

Quel est le nombre qui s'écrit 2020 en base 3 ?

Réponses

- A 30
- B 60
- C 90
- D 180



Question A.5

Dans le bloc <head> d'un fichier HTML, afin d'encoder les caractères avec le standard Unicode/UTF-8 on insère la ligne :

```
<meta http-equiv="Content -Type" content="text/html; charset=UTF-8">
```

Pourquoi cela ?

Réponses

- A UTF-8 est l'encodage Linux
- B ASCII est une vieille norme, il est temps d'en changer
- C UTF-8 est une norme conçue pour permettre un affichage correct des caractères spéciaux sur tout système d'exploitation
- D UTF-8 est un encodage qui protège mieux contre le piratage informatique

Question A.6

Combien de valeurs entières positives ou nulles un octet peut-il représenter ?

Réponses

- A 2
- B 8
- C 16
- D 256

Modèle CCYC : ©DNE

Nom de famille (naissance) :

(Suivi s'il y a lieu, du nom d'usage)

Prénom(s) :

N° candidat :

N° d'inscription :



Né(e) le :

(Les numéros figurent sur la convocation.)

1.1

Thème B : types construits

Question B.1

On dispose d'une table `tab` constituée d'une liste de trois sous-listes contenant chacune quatre caractères.

```
tab = [ ['A', 'B', 'C', 'D'],  
        ['E', 'F', 'G', 'H'],  
        ['I', 'J', 'K', 'L'] ]
```

Parmi les propositions suivantes, laquelle permet de convertir cette table en une liste `L` contenant dans l'ordre, ligne par ligne, les 12 caractères de `tab` ?

à la fin, on a l'égalité :

```
L == [ 'A', 'B', 'C', 'D', 'E', 'F', 'G', 'H', 'I', 'J', 'K', 'L' ]
```

Réponses

A

```
L = []  
for i in range(3):  
    for j in range(4):  
        L.append(tab[i][j])
```

B

```
L = []  
for i in range(4):  
    for j in range(3):  
        L.append(tab[i][j])
```

C

```
L = []  
for i in range(3):  
    L.append(tab[i])
```

D

```
L = []  
for i in range(4):  
    L.append(tab[i])
```

Question B.2

On dispose du dictionnaire suivant :

```
D = {0: 7, 1: 4, 25: 8, 16: 16, 4: 32}
```

On crée une liste `L` après les lignes suivantes ?

```
L = [ 2, 3, 4, 5, 7, 8 ]  
h(L,0,2)  
h(L,3,5)  
h(L,0,5)
```

Réponses

A [8, 7, 5, 4, 3, 2]

B [2, 3, 4, 5, 7, 8]

C [4, 3, 2, 8, 7, 5]

D [5, 7, 8, 2, 3, 4]



Question B.3

On définit ainsi une liste P :

```
P = [ {"nom": "Turing", "prénom": "Alan", "âge": 28},  
      {"nom": "Lovelace", "prénom": "Ada", "âge": 27} ]
```

Que fait alors l'instruction `P[1]["âge"] = 25` ?

Réponses

- A elle modifie la valeur de la clé âge du deuxième élément de la liste P
- B elle modifie la valeur de la clé âge du premier élément de la liste P
- C elle donne la longueur de la liste P
- D elle donne la longueur du premier élément de la liste P

Question B.4

Après avoir défini :

```
d = { 'tigre': 'félin', 'tortue': 'reptile', 'renard': 'canidé' }
```

laquelle des quatre expressions suivantes est correcte ?

Réponses

- A `d['tortue']`
- B `d['reptile']`
- C `d['tortue': 'reptile']`
- D `d[1]`

Modèle CCYC : ©DNE

Nom de famille (naissance) :

(Suivi s'il y a lieu, du nom d'usage)

--	--	--	--	--	--	--	--	--	--	--	--	--	--	--	--	--	--	--	--

Prénom(s) :

--	--	--	--	--	--	--	--	--	--	--	--	--	--	--	--	--	--	--	--

N° candidat :

--	--	--	--	--	--	--	--	--	--	--	--	--	--	--

N° d'inscription :

--	--	--	--



(Les numéros figurent sur la convocation.)

Né(e) le :

		/			/				
--	--	---	--	--	---	--	--	--	--

1.1

Question B.5

On définit ainsi une liste M :

`M = [['A', 'B', 'C', 'D'], ['E', 'F', 'G', 'H'], ['I', 'J', 'K', 'L']]`

Quelle expression vaut la chaîne de caractères 'H' ?

Réponses

- A `M[1][3]`
- B `M[3][1]`
- C `M(7)`
- D `M(8)`

Question B.6

On définit :

`tab = [('Léa', 14), ('Guillaume', 12), ('Anthony', 16), ('Anne', 15)]`

Quelle est la valeur de l'expression `[x[0] for x in tab if x[1]>=15]` ?

Réponses

- A `[('Anthony', 16), ('Anne', 15)]`
- B `['Anthony', 'Anne']`
- C `[16, 15]`
- D `TypeError : 'tuple' object is not callable`



Thème C : traitement de données en tables

Question C.1

L'entier positif dont l'écriture binaire est 0011 1011 se représente en hexadécimal (base 16) par :

Réponses

- A 32
- B 33
- C 3B
- D B3

Question C.2

Parmi les extensions suivantes, laquelle caractérise un fichier contenant des données que l'on peut associer à un tableau de pixels ?

Réponses

- A pdf
- B xls
- C png
- D exe

Question C.3

Qu'est-ce qu'un fichier CSV ?

Réponses

- A une librairie Python permettant l'affichage des images
- B un utilitaire de traitement d'image
- C un format d'image
- D un format de données

Question C.4

Un fichier CSV ...

Réponses

- A ne peut être lu que par un tableur
- B est l'unique format utilisé pour construire une base de données
- C est un fichier texte
- D est un format propriétaire

Modèle CCYC : ©DNE

Nom de famille (naissance) :


(Suivi s'il y a lieu, du nom d'usage)

Prénom(s) :

N° candidat : N° d'inscription :

(Les numéros figurent sur la convocation.)

Né(e) le : / /



RÉPUBLIQUE FRANÇAISE

1.1

Question C.5

On exécute le code suivant :

```
a = [5, 4, 3, 4, 7]
a.append(4)
```

Quelle est la valeur de la variable a à la fin de cette exécution ?

Réponses

- A 2
- B [4, 4]
- C [5, 4, 3, 4, 7, 4]
- D True

Question C.6

Un centre de loisirs propose deux activités payantes : la piscine et le golf.

Le tableau P fournit la liste des entrées à la piscine pour chaque mois, le tableau G fournit la liste correspondant au golf.

```
P = [ ['janv', 3416], ['fev', 4025], ['mars', 4306], ['avr', 5507],
      ['mai', 6100], ['juin', 1425], ['juil', 2335], ['aout', 2864],
      ['sept', 1236], ['oct', 5015], ['nov', 2230], ['dec', 1776] ]

G = [ ['janv', 1429], ['fev', 2189], ['mars', 2065], ['avr', 2512],
      ['mai', 3219], ['juin', 730], ['juil', 1144], ['aout', 1429],
      ['sept', 638], ['oct', 2515], ['nov', 1126], ['dec', 899] ]
```

On souhaite construire une table T qui fournit une liste analogue où figure le total des entrées à la piscine et au golf. Par quoi faut-il remplacer la ligne en pointillés du code suivant ?

```
T = []
for i in range(11):
    .....
```

Réponses

- A T.append([P[i][0], P[i][1] + G[i][1]])
- B T.append([P[i][1], P[i][2] + G[i][2]])
- C T.append([P[i][0], P[i][0] + G[i][0]])
- D T.append([P[i][1], P[i][1] + G[i][1]])



Thème D : interactions entre l'homme et la machine sur le Web

Question D.1

Lequel des termes suivants ne désigne pas un protocole de transmission par un réseau :

Réponses

- A HTTP
- B WWW
- C TCP
- D IP

Question D.2

Quelle utilisation faut-il avoir pour garantir qu'une transmission entre un client et un serveur sera-t-elle chiffrée ?

Réponses

- A Lorsqu'on utilise le navigateur web Firefox
- B Lorsqu'on utilise la méthode POST
- C Lorsqu'on utilise le protocole HTTPS
- D Lorsqu'on utilise HTML et CSS

Question D.3

Pour créer un lien vers la page d'accueil de Wikipédia, que devra-t-on écrire dans une page Web ?

Réponses

- A `wikipédia`
- B ``
- C `wikipédia`
- D `<link src="http://fr.wikipedia.org">wikipédia</link>`

Question D.4

Un fichier HTML contient la ligne suivante.

```
<p>Coucou ! Ca va?</p>
```

Quelle commande CSS écrire pour que le texte apparaisse en rose sur fond jaune ?

Réponses

- A `p { couleur: rose ; fond: jaune;}`
- B `<p> { color = pink background-color = yellow}`
- C `<p> { color = pink ; background-color: yellow} </p>`
- D `p { color: pink ; background-color: yellow ;}`

Question D.5

Après avoir tenté d'accéder à un site, le navigateur affiche : 403 Forbidden.

Cela signifie que :

Réponses

- A la connexion à Internet est défectueuse
- B le navigateur a refusé d'envoyer la requête
- C le serveur a répondu par un code d'erreur
- D le serveur n'a jamais répondu

Modèle CCYC : ©DNE

Nom de famille (naissance) :


(Suivi s'il y a lieu, du nom d'usage)

Prénom(s) :

N° candidat : N° d'inscription :

(Les numéros figurent sur la convocation.)

Né(e) le : / /



1.1

Question D.6

Quel est le nom de l'événement généré lorsque l'utilisateur clique sur un bouton de type button dans une page HTML ?

Réponses

- A action
- B mouse
- C submit
- D click



Thème E : architectures matérielles et systèmes d'exploitation

Question E.1

Dans un terminal sous Linux, quelle commande permet d'afficher la liste des fichiers du répertoire courant ?

Réponses

- A `ls`
- B `cd`
- C `mv`
- D `rm`

Question E.2

Quel est l'effet de la commande shell suivante ?

```
cp NSI_ex1_Franck.txt NSI_ex1_Marie.txt
```

Réponses

- A Le fichier `NSI_ex1_Franck.txt` est copié sous le nom `NSI_ex1_Marie.txt`
- B Le fichier `NSI_ex1_Franck.txt` est renommé sous le nom `NSI_ex1_Marie.txt`
- C Le fichier `NSI_ex1_Marie.txt` est copié sous le nom `NSI_ex1_Franck.txt`
- D Le fichier `NSI_ex1_Marie.txt` est renommé sous le nom `NSI_ex1_Franck.txt`

Question E.3

Parmi ces composants électroniques, lequel est d'échelle microscopique dans un ordinateur ?

Réponses

- A le bus
- B le radiateur
- C le transistor
- D le disque dur

Question E.4

Dans un établissement scolaire, tous les ordinateurs sont reliés au réseau local par l'intermédiaire de câbles Ethernet. Il n'existe pas de liaisons sans fil. Dans chaque salle d'ordinateurs, les machines sont reliées à un commutateur. Chaque commutateur est relié par un câble jusqu'à la salle où se situe le serveur contrôleur de domaine et la passerelle internet (routeur).

Vous êtes connectés sur un ordinateur d'une de ces salles d'ordinateurs avec votre classe. Tout à coup, plus personne n'a accès à Internet, mais toutes les ressources locales de l'établissement sont toujours accessibles.

Parmi ces quatre propositions, laquelle est la plus vraisemblable ?

Réponses

- A Un de vos camarades a débranché accidentellement le câble Ethernet de votre machine.
- B Le routeur de l'étage est indisponible (il a été débranché ou est en panne).
- C Le commutateur de la salle est indisponible (il a été débranché ou est en panne).
- D La passerelle internet de l'établissement est indisponible (elle a été débranchée ou est en panne).

Modèle CCYC : ©DNE

Nom de famille (naissance) :


(Suivi s'il y a lieu, du nom d'usage)

Prénom(s) :

N° candidat : **N° d'inscription** :

(Les numéros figurent sur la convocation.)

Né(e) le : / /



RÉPUBLIQUE FRANÇAISE

1.1

Question E.5

Parmi les adresses suivantes, laquelle est une adresse Ethernet non valide ?

Réponses

- A 8D:A9:D5:67:E6:F3
- B 8d:a9:d5:67:e6:f3
- C 8H:A9:D5:67:E6:F3
- D FF:A9:D5:67:E6:F3

Question E.6

Lequel de ces périphériques n'est pas un périphérique d'entrée ?

Réponses

- A le moniteur
- B le clavier
- C la souris
- D le scanner



Thème F : langages et programmation

Question F.1

La fonction suivante ne calcule pas toujours correctement le maximum des deux nombres donnés en argument. On rappelle que `abs(z)` calcule la valeur absolue du nombre `z`.

```
def maxi(x,y) :  
    m = (x-y+abs(x+y))/2  
    return m
```

Parmi les tests suivants, lequel va détecter l'erreur ?

Réponses

- A `maxi(3,-2)`
- B `maxi(2,2)`
- C `maxi(3,2)`
- D `maxi(2,3)`

Question F.2

On exécute le script suivant :

```
resultat = [0] * 7
```

Que contient la variable `resultat` après son exécution ?

Réponses

- A 0
- B [0]
- C [[0], [0], [0], [0], [0], [0], [0]]
- D [0, 0, 0, 0, 0, 0, 0]

Question F.3

Dans le programme JavaScript suivant, quelle est la notation qui délimite le bloc d'instructions exécuté à chaque passage dans la boucle `while` ?

```
i = 0  
while (i < 10) {  
    alert(i)  
    i = i + 1  
}  
alert("Fin")
```

Réponses

- A le fait que les instructions soient encadrées entre `{` et `}`
- B le fait que les instructions soient indentées de 4 caractères comme en Python
- C le fait que les instructions suivent le mot clé `while`
- D le fait que les instructions suivent la parenthèse `)`

Modèle CCYC : ©DNE

Nom de famille (naissance) :

(Suivi s'il y a lieu, du nom d'usage)

Prénom(s) :

N° candidat :

N° d'inscription :



Né(e) le :

(Les numéros figurent sur la convocation.)

1.1

Question F.4

On souhaite écrire une fonction qui renvoie le maximum d'une liste d'entiers :

```
def maximum(L):  
    m = L[0]  
    for i in range(1, len(L)):  
        if .....:  
            m = L[i]  
    return m
```

Par quoi faut-il remplacer les pointillés pour que cette fonction produise bien le résultat attendu ?

Réponses

- A $i > m$
- B $L[i] > m$
- C $L[i] > L[i-1]$
- D $L[i] > L[i+1]$

Question F.5

On construit une liste L de la façon suivante :

```
L = []  
for i in range(1, 11, 2):  
    L.append(5*i)
```

et on obtient ainsi la liste [5, 15, 25, 35, 45].

On pourrait aussi procéder de la façon suivante :

```
L = []  
# ligne 1 .....  
while i < 11:  
    L.append(5*i)  
# ligne 2 .....
```

Que faudrait-il écrire en ligne 1 et en ligne 2 pour obtenir le même résultat ?

Réponses

- A $i = 0$ en ligne 1, et $i = i + 1$ en ligne 2
- B $i = 0$ en ligne 1, et $i = i + 2$ en ligne 2
- C $i = 1$ en ligne 1, et $i = i + 1$ en ligne 2
- D $i = 1$ en ligne 1, et $i = i + 2$ en ligne 2



Question F.6

En voulant programmer une fonction qui calcule la valeur minimale d'une liste d'entiers, on a écrit :

```
def minimum(L):  
    mini = 0  
    for e in L:  
        if e < mini:  
            mini = e  
    return mini
```

Cette fonction a été mal programmée. Pour quelle liste ne donnera-t-elle pas le résultat attendu, c'est-à-dire son minimum ?

Réponses

- A [-1, -8, 12, 2, 23]
- B [0, 18, 12, 2, 3]
- C [-1, -1, 12, 12, 23]
- D [1, 8, 12, 2, 23]

Modèle CCYC : ©DNE

Nom de famille (naissance) :

(Suivi s'il y a lieu, du nom d'usage)

Prénom(s) :

N° candidat :

N° d'inscription :



Né(e) le :

(Les numéros figurent sur la convocation.)

1.1

Thème G : algorithmique

Question G.1

La fonction suivante doit calculer la moyenne d'un tableau de nombres, passé en paramètre. Avec quelles expressions faut-il remplacer les points de suspension pour que la fonction soit correcte ?

```
def moyenne(tableau):
    total = ...
    for valeur in tableau:
        total = total + valeur
    return total / ...
```

Réponses

- A 1 et $(\text{len}(\text{tableau}) + 1)$
- B 1 et $\text{len}(\text{tableau})$
- C 0 et $(\text{len}(\text{tableau}) + 1)$
- D 0 et $\text{len}(\text{tableau})$

Question G.2

Quelle est la complexité du tri par sélection ?


Réponses

- A inconnue
- B linéaire
- C quadratique
- D exponentielle



Question G.3

Au cours d'un tri de tableau, on observe les étapes suivantes :



Quel est l'algorithme de tri qui a été utilisé ?

Réponses

- A tri par sélection
- B tri à bulles
- C tri par insertion
- D tri rapide

Question G.4


Un algorithme de calcul de moyenne est implémenté de la façon suivante :

```
def moyenne(liste) :  
    t = 0  
    for e in liste :  
        t = t + e  
        # assertion vraie à cet endroit  
    return t/len(liste)
```

Parmi les propositions suivantes, laquelle reste vraie à la fin de chaque itération de la boucle ?

Réponses

- A e vaut le nombre de passages dans la boucle
- B t vaut la somme des éléments visités de la liste
- C t vaut la moyenne des éléments visités de la liste
- D après k passages dans la boucle la liste contient k termes

Modèle CCYC : ©DNE	
Nom de famille (naissance) : <i>(Suivi s'il y a lieu, du nom d'usage)</i>	
Prénom(s) :	
N° candidat : <small>(Les numéros figurent sur la convocation.)</small>	N° d'inscription :
 Liberté • Égalité • Fraternité RÉPUBLIQUE FRANÇAISE	Né(e) le :

1.1

Question G.5

Quelle est la valeur du couple (s, i) à la fin de l'exécution du script suivant ?

```
s = 0
i = 1
while i < 5:
    s = s + i
    i = i + 1
```

Réponses

- A (4, 5)
- B (10, 4)
- C (10, 5)
- D (15, 5)

Question G.6

On considère la fonction suivante :

```
def comptage(phrase, lettre):
    i = 0
    for j in phrase:
        if j == lettre:
            i = i+1
    return i
```

Que renvoie l'appel `comptage("Vive l'informatique", "e")` ?

Réponses

- A 0
- B 2
- C 19
- D 'e'