


Modèle CCYC : ©DNE	
Nom de famille (naissance) : <small>(Suivi s'il y a lieu, du nom d'usage)</small>	<input type="text"/>
Prénom(s) :	<input type="text"/>
N° candidat :	<input type="text"/>
	N° d'inscription : <input type="text"/>
 <small>Liberté • Égalité • Fraternité</small> RÉPUBLIQUE FRANÇAISE	(Les numéros figurent sur la convocation.) Né(e) le : <input type="text"/> / <input type="text"/> / <input type="text"/>

1.1

ÉVALUATION COMMUNE	
CLASSE : Première	
VOIE : <input checked="" type="checkbox"/> Générale <input type="checkbox"/> Technologique <input type="checkbox"/> Toutes voies (LV)	
ENSEIGNEMENT : spécialité Numérique et Sciences Informatiques (NSI)	
DURÉE DE L'ÉPREUVE : 02 h 00	
Niveaux visés (LV) : LVA LVB	
Axes de programme :	
CALCULATRICE AUTORISÉE : <input type="checkbox"/> Oui <input checked="" type="checkbox"/> Non	
DICTIONNAIRE AUTORISÉ : <input type="checkbox"/> Oui <input checked="" type="checkbox"/> Non	
<input checked="" type="checkbox"/> Ce sujet contient des parties à rendre par le candidat avec sa copie. De ce fait, il ne peut être dupliqué et doit être imprimé pour chaque candidat afin d'assurer ensuite sa bonne numérisation.	
<input type="checkbox"/> Ce sujet intègre des éléments en couleur. S'il est choisi par l'équipe pédagogique, il est nécessaire que chaque élève dispose d'une impression en couleur.	
<input type="checkbox"/> Ce sujet contient des pièces jointes de type audio ou vidéo qu'il faudra télécharger et jouer le jour de l'épreuve.	
Nombre total de pages : 18	

L'épreuve consiste en 42 questions, rangées en 7 thèmes.

Pour chaque question, le candidat gagne 3 points s'il choisit la bonne réponse, perd 1 point s'il choisit une réponse fautive. S'il ne répond pas ou choisit plusieurs réponses, il ne gagne ni ne perd aucun point.

Le total sur chacun des 7 thèmes est ramené à 0 s'il est négatif.

La note finale s'obtient en divisant le total des points par 6,3 et en arrondissant à l'entier supérieur.

Le candidat indique ses réponses aux questions en pages 2 et 3.

Seules les pages 1 à 4 sont rendues par le candidat à la fin de l'épreuve, pour être numérisées.

Les questions figurent sur les pages suivantes.



Thème A : types de base

Réponse à la question 1	A <input type="checkbox"/>	B <input type="checkbox"/>	C <input type="checkbox"/>	D <input type="checkbox"/>
Réponse à la question 2	A <input type="checkbox"/>	B <input type="checkbox"/>	C <input type="checkbox"/>	D <input type="checkbox"/>
Réponse à la question 3	A <input type="checkbox"/>	B <input type="checkbox"/>	C <input type="checkbox"/>	D <input type="checkbox"/>
Réponse à la question 4	A <input type="checkbox"/>	B <input type="checkbox"/>	C <input type="checkbox"/>	D <input type="checkbox"/>
Réponse à la question 5	A <input type="checkbox"/>	B <input type="checkbox"/>	C <input type="checkbox"/>	D <input type="checkbox"/>
Réponse à la question 6	A <input type="checkbox"/>	B <input type="checkbox"/>	C <input type="checkbox"/>	D <input type="checkbox"/>

Thème B : types construits

Réponse à la question 1	A <input type="checkbox"/>	B <input type="checkbox"/>	C <input type="checkbox"/>	D <input type="checkbox"/>
Réponse à la question 2	A <input type="checkbox"/>	B <input type="checkbox"/>	C <input type="checkbox"/>	D <input type="checkbox"/>
Réponse à la question 3	A <input type="checkbox"/>	B <input type="checkbox"/>	C <input type="checkbox"/>	D <input type="checkbox"/>
Réponse à la question 4	A <input type="checkbox"/>	B <input type="checkbox"/>	C <input type="checkbox"/>	D <input type="checkbox"/>
Réponse à la question 5	A <input type="checkbox"/>	B <input type="checkbox"/>	C <input type="checkbox"/>	D <input type="checkbox"/>
Réponse à la question 6	A <input type="checkbox"/>	B <input type="checkbox"/>	C <input type="checkbox"/>	D <input type="checkbox"/>

Thème C : traitement de données en tables

Réponse à la question 1	A <input type="checkbox"/>	B <input type="checkbox"/>	C <input type="checkbox"/>	D <input type="checkbox"/>
Réponse à la question 2	A <input type="checkbox"/>	B <input type="checkbox"/>	C <input type="checkbox"/>	D <input type="checkbox"/>
Réponse à la question 3	A <input type="checkbox"/>	B <input type="checkbox"/>	C <input type="checkbox"/>	D <input type="checkbox"/>
Réponse à la question 4	A <input type="checkbox"/>	B <input type="checkbox"/>	C <input type="checkbox"/>	D <input type="checkbox"/>
Réponse à la question 5	A <input type="checkbox"/>	B <input type="checkbox"/>	C <input type="checkbox"/>	D <input type="checkbox"/>
Réponse à la question 6	A <input type="checkbox"/>	B <input type="checkbox"/>	C <input type="checkbox"/>	D <input type="checkbox"/>

Thème D : interactions entre l'homme et la machine sur le Web

Réponse à la question 1	A <input type="checkbox"/>	B <input type="checkbox"/>	C <input type="checkbox"/>	D <input type="checkbox"/>
Réponse à la question 2	A <input type="checkbox"/>	B <input type="checkbox"/>	C <input type="checkbox"/>	D <input type="checkbox"/>
Réponse à la question 3	A <input type="checkbox"/>	B <input type="checkbox"/>	C <input type="checkbox"/>	D <input type="checkbox"/>
Réponse à la question 4	A <input type="checkbox"/>	B <input type="checkbox"/>	C <input type="checkbox"/>	D <input type="checkbox"/>
Réponse à la question 5	A <input type="checkbox"/>	B <input type="checkbox"/>	C <input type="checkbox"/>	D <input type="checkbox"/>
Réponse à la question 6	A <input type="checkbox"/>	B <input type="checkbox"/>	C <input type="checkbox"/>	D <input type="checkbox"/>

Modèle CCYC : ©DNE

Nom de famille (naissance) :
(Suivi s'il y a lieu, du nom d'usage)

--	--	--	--	--	--	--	--	--	--	--	--	--	--	--	--	--	--	--	--

Prénom(s) :

--	--	--	--	--	--	--	--	--	--	--	--	--	--	--	--	--	--	--	--

N° candidat :

--	--	--	--	--	--	--	--	--	--	--	--	--

N° d'inscription :

--	--	--



Né(e) le :

		/			/				
--	--	---	--	--	---	--	--	--	--

(Les numéros figurent sur la convocation.)

1.1

Thème E : architectures matérielles et systèmes d'exploitation

- | | | | | |
|-------------------------|---|---|---|---|
| Réponse à la question 1 | A | B | C | D |
| Réponse à la question 2 | A | B | C | D |
| Réponse à la question 3 | A | B | C | D |
| Réponse à la question 4 | A | B | C | D |
| Réponse à la question 5 | A | B | C | D |
| Réponse à la question 6 | A | B | C | D |

Thème F : langages et programmation

- | | | | | |
|-------------------------|---|---|---|---|
| Réponse à la question 1 | A | B | C | D |
| Réponse à la question 2 | A | B | C | D |
| Réponse à la question 3 | A | B | C | D |
| Réponse à la question 4 | A | B | C | D |
| Réponse à la question 5 | A | B | C | D |
| Réponse à la question 6 | A | B | C | D |

Thème G : algorithmique

- | | | | | |
|-------------------------|---|---|---|---|
| Réponse à la question 1 | A | B | C | D |
| Réponse à la question 2 | A | B | C | D |
| Réponse à la question 3 | A | B | C | D |
| Réponse à la question 4 | A | B | C | D |
| Réponse à la question 5 | A | B | C | D |
| Réponse à la question 6 | A | B | C | D |



Modèle CCYC : ©DNE

Nom de famille (naissance) :

(Suivi s'il y a lieu, du nom d'usage)

Prénom(s) :

N° candidat : N° d'inscription :

(Les numéros figurent sur la convocation.)

Né(e) le : / /



RÉPUBLIQUE FRANÇAISE

1.1

Thème A : types de base

Question A.1

Voici une table de vérité.

a	b	c	mux(a,b,c)
False	False	False	False
False	False	True	False
False	True	False	True
False	True	True	True
True	False	False	False
True	False	True	True
True	True	False	False
True	True	True	True

Laquelle des fonctions suivantes lui correspond-elle ?

Réponses

- A `def mux(a,b,c):
 return (not(a) and b) or (a and c)`
- B `def mux(a,b,c):
 return (a and b) or (not(a) and c)`
- C `def mux(a,b,c):
 return (not(a) or b) and (a or c)`
- D `def mux(a,b,c):
 return b or (a and c)`

Question A.2

Quelle est la valeur de x à la fin de l'exécution du script Python suivant ?

```
x = 1
for i in range(10):
    x = x * 2
```

Réponses

- A 2
- B 1024
- C 2048
- D 2000000000

Question A.3

Quel est un avantage du codage UTF8 par rapport au codage ASCII ?

Réponses

- A il permet de coder un caractère sur un octet au lieu de deux
- B il permet de coder les majuscules
- C il permet de coder tous les caractères
- D il permet de coder différentes polices de caractères



Question A.4

Un entier positif est représenté sur 8 bits par 0001 0110.

En utilisant le complément à 2, quelle est la représentation sur 8 bits de son opposé ?

Réponses

- A 1001 0110
- B 1110 1001
- C 1110 1010
- D 1001 0111

Question A.5

Quel est le plus grand entier positif (non signé) représentable en binaire sur 2 octets (c'est-à-dire 16 bits) ?

Réponses

- A $2^{15} - 1$
- B 2^{15}
- C $2^{16} - 1$
- D 2^{16}

Question A.6

Quelle est l'écriture hexadécimale de l'entier dont la représentation en binaire non signé est 1100 0011 ?

Réponses

- A BB
- B C3
- C CB
- D 7610

Modèle CCYC : ©DNE

Nom de famille (naissance) :

(Suivi s'il y a lieu, du nom d'usage)

Prénom(s) :

N° candidat :

N° d'inscription :



Liberté • Égalité • Fraternité
RÉPUBLIQUE FRANÇAISE

Né(e) le :

(Les numéros figurent sur la convocation.)

1.1

Thème B : types construits

Question B.1

On considère le dictionnaire

```
D = {1: 3, 2: 4, 3: 5, 4: 2, 5: 1}
```

Quelle est la valeur de `D[D[D[2]]]` ?

Réponses

- A 2
- B 3
- C 4
- D 5

Question B.2

On définit un dictionnaire : `d = { 'couleur': 'vert', 'taille': 42, 'marque': 'le coq sportif' }`

Quelle est la valeur de l'expression `d.keys()` ?

Réponses

- A `['couleur', 'taille', 'marque']`
- B `[('couleur', 'vert'), ('taille', 42), ('marque', 'le coq sportif')]`
- C `['vert', 42, 'le coq sportif']`
- D `['couleur': 'vert', 'taille': 42, 'marque': 'le coq sportif']`

Question B.3

Laquelle de ces expressions a pour valeur la liste `[[0,1,2], [3,4,5], [6,7,8]]` ?

Réponses

- A `[[i+j for i in range(3)] for j in range(3)]`
- B `[[i]*3 for i in range(3)]*3`
- C `[[i+j]*3 for i in range(3)] for j in range(3)]`
- D `[[i+j for i in range(3)] for j in range(3)]*3`

Question B.4

On considère le script suivant :

```
billes = {'vert': 6, 'rouge': 15, 'bleu': 11, 'jaune': 2, 'orange': 17 }  
total = 0  
for n in billes.XXXXXXX():  
    total = total + n
```

Par quoi faut-il remplacer XXXXXXXX dans ce script pour qu'à la fin de son exécution la variable `total` contienne le nombre total de billes ?

Réponses

- A `keys`
- B `values`
- C `items`
- D `numbers`



Question B.5

On définit : `matrice = [[1,2,3], [4,5,6], [7,8,9], [10,11,12]]`.
Quelle est la valeur de `matrice[1][2]` ?

Réponses

- A 2
- B 4
- C 6
- D 8

Question B.6

Quelle instruction permet d'affecter la liste `[0, 1, 4, 9, 16]` à la variable `tableau` ?

Réponses

- A `tableau = [i**2 for i in range(4)]`
- B `tableau = [i**2 for i in range(5)]`
- C `tableau = [i**2 for i in range(16)]`
- D `tableau = [i**2 for i in range(17)]`



Question C.4

L'entier positif dont l'écriture binaire est 0011 1011 se représente en hexadécimal (base 16) par :

Réponses

- A 32
- B 33
- C 3B
- D B3

Question C.5

Quel type de fichier est le plus adapté au traitement des données?

Réponses

- A PNG
- B PDF
- C CSV
- D DOC

Question C.6

On écrit la fonction suivante :

```
def extreme(t, test):
    m = t[0]
    for x in t:
        if test(x,m):
            m = x
    return m
```

On dispose d'une liste L dont les éléments sont des couples (nom, note).

Par exemple :

```
L = [ ('Alice', 17), ('Barnabé', 18),
       ('Casimir', 17), ('Doriane', 20),
       ('Emilien', 15), ('Fabienne', 16) ]
```

On aimerait que l'appel de fonction `extreme(L, test)` renvoie un couple présentant la note maximale.

Quelle définition de la fonction `test` peut-on utiliser ?

Réponses

- A

```
def test(a,b):
    return a[0] < b[0]
```
- A

```
def test(a,b):
    return a[0] > b[0]
```
- B

```
def test(a,b):
    return a[1] < b[1]
```
- D

```
def test(a,b):
    return a[1] > b[1]
```

Modèle CCYC : ©DNE

Nom de famille (naissance) :

(Suivi s'il y a lieu, du nom d'usage)

Prénom(s) :

N° candidat :

N° d'inscription :



Liberté • Égalité • Fraternité
RÉPUBLIQUE FRANÇAISE

Né(e) le :

(Les numéros figurent sur la convocation.)

1.1

Thème D : interactions entre l'homme et la machine sur le Web

Question D.1

Un navigateur affiche la page HTML suivante :

```
<html lang="fr">
<head>
  <meta charset="utf-8">
  <link rel="stylesheet" href="style.css">
  <title>Un bouton</title>
</head>
<body>
  <button onclick="maFonction()">Cliquer ici</button>
</body>
<script src="script.js"></script>
</html>
```

Lorsque l'on clique sur le bouton, l'action déclenchée `maFonction()` est définie :

Réponses

- A dans le fichier HTML seul
- B dans le fichier `style.css`
- C dans une bibliothèque prédéfinie du navigateur
- D dans le fichier `script.js`

Question D.2

Un élève a écrit une fonction javascript qui détermine la moyenne des valeurs entrées par l'utilisateur dans un formulaire de sa page HTML.

Il place sa fonction javascript :

Réponses

- A entre la balise `<js>` et la balise `</js>`
- B entre la balise `<code>` et la balise `</code>`
- C entre la balise `<script>` et la balise `</script>`
- D entre la balise `<javascript>` et la balise `</javascript>`

Question D.3

Quelle est la fonction principale d'un fichier CSS ?

Réponses

- A Définir le style d'une page web
- B Assurer l'interaction entre une page web et l'utilisateur
- C Créer une page web dynamique
- D Créer un bouton dans une page web

**Question D.4**

Quelle méthode d'envoi des paramètres est-il préférable d'utiliser, pour un formulaire d'une page web, destiné à demander à l'utilisateur un mot de passe pour se connecter (le protocole utilisé est HTTPS) ?

Réponses

- A la méthode PASSWORD
- B la méthode CRYPT
- C la méthode GET
- D la méthode POST

Question D.5

Après avoir tenté d'accéder à un site, le navigateur affiche : 403 Forbidden.

Cela signifie que :

Réponses

- A la connexion à Internet est défectueuse
- B le navigateur a refusé d'envoyer la requête
- C le serveur a répondu par un code d'erreur
- D le serveur n'a jamais répondu

Question D.6

Lors de la consultation d'une page HTML contenant un bouton auquel est associée la fonction suivante, que se passe-t-il quand on clique sur ce bouton ?

```
function action(event) {  
    this.style.color = "blue"  
}
```

Réponses

- A le texte de la page passe en bleu
- B le texte du bouton passe en bleu
- C le texte du bouton est changé et affiche maintenant le mot "bleu"
- D le pointeur de la souris devient bleu quand il arrive sur le bouton

Modèle CCYC : ©DNE

Nom de famille (naissance) :

(Suivi s'il y a lieu, du nom d'usage)

Prénom(s) :

N° candidat :

N° d'inscription :



Liberté • Égalité • Fraternité
RÉPUBLIQUE FRANÇAISE

Né(e) le :

(Les numéros figurent sur la convocation.)

1.1

Thème E : architectures matérielles et systèmes d'exploitation

Question E.1

Le shell Linux renvoie ce résultat à la commande `ls -al` :

```
lrwxr--r-- 2 toto toto 807 juin 26 14:06 eclipse
drwxr-xr-x 2 toto toto 4096 juin 26 15:00 Doc_1
-rw-r-xr-x 2 toto toto 4096 juin 26 14:06 QCM
-rwxr-xr-x 2 toto toto 4096 juin 26 14:06 Doc_Travail
```

Quel est le nom du fichier du répertoire courant, de taille 4096 octets, exécutable par son propriétaire ?

Réponses

- A eclipse
- B Doc_1
- C QCM
- D Doc_Travail

Question E.2

À partir du répertoire `~/Perso/DOC` quelle commande permet de rejoindre le répertoire `~/Public` ?

Réponses

- A `cd ./Public`
- B `cd ../Public`
- C `cd ../../Public`
- D `cd ../../Public`

Question E.3

Quel est l'effet de la commande shell suivante ?

```
cp NSI_ex1_Franck.txt NSI_ex1_Marie.txt
```

Réponses

- A Le fichier `NSI_ex1_Franck.txt` est copié sous le nom `NSI_ex1_Marie.txt`
- B Le fichier `NSI_ex1_Franck.txt` est renommé sous le nom `NSI_ex1_Marie.txt`
- C Le fichier `NSI_ex1_Marie.txt` est copié sous le nom `NSI_ex1_Franck.txt`
- D Le fichier `NSI_ex1_Marie.txt` est renommé sous le nom `NSI_ex1_Franck.txt`

Question E.4

Pour analyser les réponses saisies par l'utilisateur dans un formulaire d'une page Web personnelle, hébergée chez un fournisseur d'accès à internet, on dispose du code suivant :

```
<?php if ($_POST['choix']=='choix4')
    {echo 'Bravo,';}
    else
    {echo "Non, vous vous trompez !";}
?>
```

Où s'exécutera ce code ?

Réponses

- A dans le premier routeur permettant d'accéder au serveur
- B dans le dernier routeur permettant d'accéder au serveur
- C dans le serveur qui héberge la page personnelle
- D dans la machine de l'utilisateur qui consulte la page personnelle



Question E.5

Parmi les commandes suivantes, laquelle permet à n'importe quel utilisateur d'exécuter le fichier appelé `jeu` ?

Réponses

- A `chmod u+x jeu`
- B `chmod u+rwx jeu`
- C `chmod a+x jeu`
- D `chmod a-x jeu`

Question E.6

Dans une machine sous Linux, dans le répertoire `Documents` se trouvent un répertoire `Final` ainsi qu'un répertoire `Initial` contenant deux fichiers `fichier1.txt` et `fichier2.txt`.

En étant dans le répertoire `Initial`, quel est l'effet de la commande `cp * ../Final` ?

Réponses

- A se placer dans le répertoire `Final`
- B déplacer dans le répertoire `Initial` les fichiers du répertoire `Final`
- C copier dans le répertoire `Initial` les fichiers du répertoire `Final`
- D copier dans le répertoire `Final` les fichiers du répertoire `Initial`

Modèle CCYC : ©DNE

Nom de famille (naissance) :

(Suivi s'il y a lieu, du nom d'usage)

Prénom(s) :

N° candidat :

N° d'inscription :



Né(e) le :

(Les numéros figurent sur la convocation.)

1.1

Thème F : langages et programmation

Question F.1

On définit la fonction `f` suivante qui prend en argument une liste `t` d'entiers :

```
def f(t):
    n = len(t)
    for i in range(n-1):
        for j in range(i+1,n):
            if t[i] == t[j]:
                return True
    return False
```

Pour quelle valeur de `t`, `f(t)` vaut-elle `True` ?

Réponses

- A `[[2,3], [3,4], [4,5], [2,3]]`
- B `[[2,2], [3,4], [4,5], [2,3]]`
- C `[[2,3], [3,2], [4,5], [5,4]]`
- D `[[3,3], [4,4], [5,5], [6,6]]`

Question F.2

La documentation de la fonction `floor` de la bibliothèque `math` est :

```
floor(x)
Return the floor of x as an Integral. This is the largest integer <= x.
```

Que vaut `floor(-2.2)` ?

Réponses

- A `-2`
- B `-3`
- C on obtient une erreur, car `-2.2` n'est pas un entier
- D `2.2`

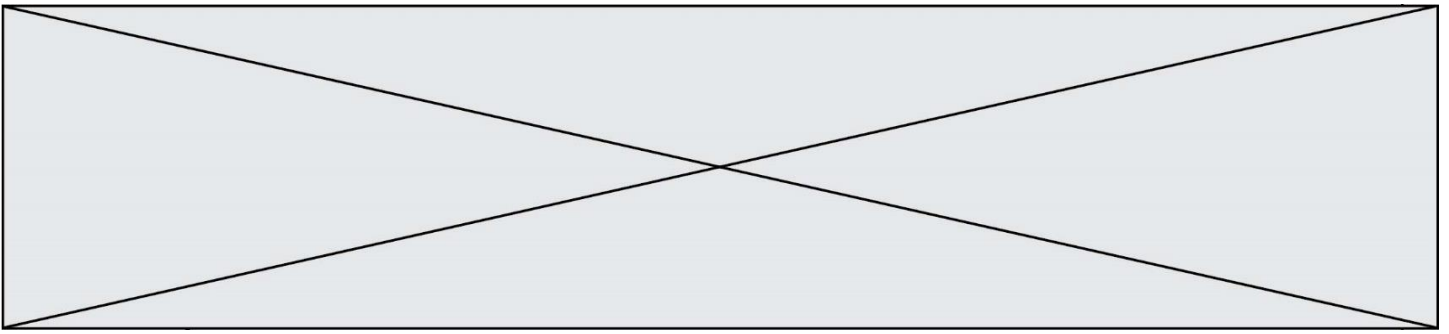
Question F.3

`T` est un tableau de nombres entiers non vide. Que représente la valeur de `S` renvoyée par cette fonction ?

```
def mystere(T):
    s = 0
    for k in T:
        if k % 2 == 0:
            s = s+k
    return s
```

Réponses

- A la somme des valeurs du tableau `T`
- B la somme des valeurs positives du tableau `T`
- C la somme des valeurs impaires du tableau `T`
- D la somme des valeurs paires du tableau `T`



Question F.4

La fonction suivante calcule la racine carrée du double d'un nombre flottant.

```
from math import sqrt

def racine_du_double(x):
    return sqrt(2*x)
```

Quelle est la précondition sur l'argument de cette fonction ?

Réponses

- A $x < 0$
- B $x \geq 0$
- C $2 * x > 0$
- D $\text{sqrt}(x) \geq 0$

Question F.5

On exécute le script Python suivant :

```
def cube(L):
    for i in range(len(L)):
        L[i] = L[i] * L[i] * L[i]
    return L

L = [2, 5]
b = cube(L)
```

Que vaut le couple (L, b) à la fin de l'exécution ?

Réponses

- A $([2, 5], [8, 125])$
- B $([8, 125], [8, 125])$
- C $([8, 125], [2, 5])$
- D $([2, 5], [2, 5])$

Question F.6

On exécute le script Python suivant :


```
def cube(a):
    a = a*a*a
    return a

a = 2
b = cube(a)
```

Que vaut le couple (a, b) à la fin de l'exécution ?

Réponses

- A $(8, 8)$
- B $(8, 2)$
- C $(2, 2)$
- D $(2, 8)$

Modèle CCYC : ©DNE	<input type="text"/>
Nom de famille (naissance) : <small>(Suivi s'il y a lieu, du nom d'usage)</small>	<input type="text"/>
Prénom(s) :	<input type="text"/>
N° candidat :	<input type="text"/>
 <small>RÉPUBLIQUE FRANÇAISE</small>	N° d'inscription : <input type="text"/>
Né(e) le :	(Les numéros figurent sur la convocation.) <input type="text"/> / <input type="text"/> / <input type="text"/>

1.1

Thème G : algorithmique

Question G.1

Quel est le coût d'un algorithme de recherche du maximum d'un tableau de nombres ?

Réponses

- A constant
- B logarithmique
- C linéaire
- D quadratique

Question G.2

On considère le code suivant de recherche d'une valeur dans une liste :

```
def search(x, y):  
    # x est la valeur à chercher  
    # y est une liste de valeurs  
    for i in range(len(y)):  
        if x == y[i]:  
            return i  
    return None
```

Quel est le coût de cet algorithme ?

Réponses

- A constant
- B logarithmique
- C linéaire
- D quadratique

Question G.3

À quelle catégorie appartient l'algorithme des k plus proches voisins ?

Réponses

- A algorithmes de tri
- B algorithmes gloutons
- C algorithmes de recherche de chemins
- D algorithmes de classification et d'apprentissage



Question G.4

Une seule des affirmations suivantes est vraie :

Réponses

- A L'algorithme des k plus proches voisins a pour but de déterminer les k plus proches voisins d'une observation dans un ensemble de données.
- B L'algorithme des k plus proches voisins a pour but de déterminer la classe d'une observation à partir des classes de ses k plus proches voisins.
- C L'algorithme des k plus proches voisins a pour but de déterminer dans un ensemble de données le sous-ensemble à k éléments qui sont les plus proches les uns des autres.
- D L'algorithme des k plus proches voisins a pour but de déterminer les éléments d'un ensemble de données appartenant à une même classe.

Question G.5

On dispose d'une table de données de villes européennes. On utilise ensuite l'algorithme des k-plus proches voisins pour compléter automatiquement cette base avec de nouvelles villes.

Ci-dessous, on a extrait les 7 villes connues de la base de données les plus proches de Davos.

Ville	Pays	Distance jusqu'à Davos
Berne	Suisse	180 km
Innsbruck	Autriche	130 km
Milan	Italie	150 km
Munich	Allemagne	200 km
Stuttgart	Allemagne	225 km
Turin	Italie	250 km
Zurich	Suisse	115 km

En appliquant l'algorithme des 4 plus proches voisins, quel sera le pays prédit pour la ville de Davos ?

Réponses

- A Allemagne
- B Autriche
- C Italie
- D Suisse

Question G.6

La fonction ci-dessous compte le nombre d'occurrences d'un élément x dans une liste L :

```
def compteur(L,x):  
    n = 0  
    for item in L:  
        if item == x:  
            n = n + 1  
    return n
```

Comment évolue le temps d'exécution d'un appel de cette fonction si on prend comme argument une liste deux fois plus grande ?

Réponses

- A c'est le même temps d'exécution
- B le temps d'exécution est à peu près doublé
- C le temps d'exécution est à peu près quadruplé
- D impossible de le prévoir, cela dépend aussi de l'argument x