

Modèle CCYC : ©DNE

Nom de famille (naissance) :

(Suivi s'il y a lieu, du nom d'usage)

Prénom(s) :

N° candidat : N° d'inscription :

(Les numéros figurent sur la convocation.)

Né(e) le : / /



Liberté • Égalité • Fraternité
RÉPUBLIQUE FRANÇAISE

1.1

ÉVALUATION COMMUNE

CLASSE : Première

VOIE : Générale Technologique Toutes voies (LV)

ENSEIGNEMENT : spécialité Numérique et Sciences Informatiques (NSI)

DURÉE DE L'ÉPREUVE : 02 h 00

Niveaux visés (LV) : LVA LVB

Axes de programme :

CALCULATRICE AUTORISÉE : Oui Non

DICTIONNAIRE AUTORISÉ : Oui Non

Ce sujet contient des parties à rendre par le candidat avec sa copie. De ce fait, il ne peut être dupliqué et doit être imprimé pour chaque candidat afin d'assurer ensuite sa bonne numérisation.

Ce sujet intègre des éléments en couleur. S'il est choisi par l'équipe pédagogique, il est nécessaire que chaque élève dispose d'une impression en couleur.

Ce sujet contient des pièces jointes de type audio ou vidéo qu'il faudra télécharger et jouer le jour de l'épreuve.

Nombre total de pages : 20

L'épreuve consiste en 42 questions, rangées en 7 thèmes.

Pour chaque question, le candidat gagne 3 points s'il choisit la bonne réponse, perd 1 point s'il choisit une réponse fautive. S'il ne répond pas ou choisit plusieurs réponses, il ne gagne ni ne perd aucun point.

Le total sur chacun des 7 thèmes est ramené à 0 s'il est négatif.

La note finale s'obtient en divisant le total des points par 6,3 et en arrondissant à l'entier supérieur.

Le candidat indique ses réponses aux questions en pages 2 et 3.

Seules les pages 1 à 4 sont rendues par le candidat à la fin de l'épreuve, pour être numérisées.

Les questions figurent sur les pages suivantes.



Thème A : types de base

Réponse à la question 1	A <input type="checkbox"/>	B <input type="checkbox"/>	C <input type="checkbox"/>	D <input type="checkbox"/>
Réponse à la question 2	A <input type="checkbox"/>	B <input type="checkbox"/>	C <input type="checkbox"/>	D <input type="checkbox"/>
Réponse à la question 3	A <input type="checkbox"/>	B <input type="checkbox"/>	C <input type="checkbox"/>	D <input type="checkbox"/>
Réponse à la question 4	A <input type="checkbox"/>	B <input type="checkbox"/>	C <input type="checkbox"/>	D <input type="checkbox"/>
Réponse à la question 5	A <input type="checkbox"/>	B <input type="checkbox"/>	C <input type="checkbox"/>	D <input type="checkbox"/>
Réponse à la question 6	A <input type="checkbox"/>	B <input type="checkbox"/>	C <input type="checkbox"/>	D <input type="checkbox"/>

Thème B : types construits

Réponse à la question 1	A <input type="checkbox"/>	B <input type="checkbox"/>	C <input type="checkbox"/>	D <input type="checkbox"/>
Réponse à la question 2	A <input type="checkbox"/>	B <input type="checkbox"/>	C <input type="checkbox"/>	D <input type="checkbox"/>
Réponse à la question 3	A <input type="checkbox"/>	B <input type="checkbox"/>	C <input type="checkbox"/>	D <input type="checkbox"/>
Réponse à la question 4	A <input type="checkbox"/>	B <input type="checkbox"/>	C <input type="checkbox"/>	D <input type="checkbox"/>
Réponse à la question 5	A <input type="checkbox"/>	B <input type="checkbox"/>	C <input type="checkbox"/>	D <input type="checkbox"/>
Réponse à la question 6	A <input type="checkbox"/>	B <input type="checkbox"/>	C <input type="checkbox"/>	D <input type="checkbox"/>

Thème C : traitement de données en tables

Réponse à la question 1	A <input type="checkbox"/>	B <input type="checkbox"/>	C <input type="checkbox"/>	D <input type="checkbox"/>
Réponse à la question 2	A <input type="checkbox"/>	B <input type="checkbox"/>	C <input type="checkbox"/>	D <input type="checkbox"/>
Réponse à la question 3	A <input type="checkbox"/>	B <input type="checkbox"/>	C <input type="checkbox"/>	D <input type="checkbox"/>
Réponse à la question 4	A <input type="checkbox"/>	B <input type="checkbox"/>	C <input type="checkbox"/>	D <input type="checkbox"/>
Réponse à la question 5	A <input type="checkbox"/>	B <input type="checkbox"/>	C <input type="checkbox"/>	D <input type="checkbox"/>
Réponse à la question 6	A <input type="checkbox"/>	B <input type="checkbox"/>	C <input type="checkbox"/>	D <input type="checkbox"/>

Thème D : interactions entre l'homme et la machine sur le Web

Réponse à la question 1	A <input type="checkbox"/>	B <input type="checkbox"/>	C <input type="checkbox"/>	D <input type="checkbox"/>
Réponse à la question 2	A <input type="checkbox"/>	B <input type="checkbox"/>	C <input type="checkbox"/>	D <input type="checkbox"/>
Réponse à la question 3	A <input type="checkbox"/>	B <input type="checkbox"/>	C <input type="checkbox"/>	D <input type="checkbox"/>
Réponse à la question 4	A <input type="checkbox"/>	B <input type="checkbox"/>	C <input type="checkbox"/>	D <input type="checkbox"/>
Réponse à la question 5	A <input type="checkbox"/>	B <input type="checkbox"/>	C <input type="checkbox"/>	D <input type="checkbox"/>
Réponse à la question 6	A <input type="checkbox"/>	B <input type="checkbox"/>	C <input type="checkbox"/>	D <input type="checkbox"/>

Modèle CCYC : ©DNE

Nom de famille (naissance) :
(Suivi s'il y a lieu, du nom d'usage)

Prénom(s) :

N° candidat :

N° d'inscription :



Né(e) le :

(Les numéros figurent sur la convocation.)

Thème E : architectures matérielles et systèmes d'exploitation

- Réponse à la question 1 A B C D
- Réponse à la question 2 A B C D
- Réponse à la question 3 A B C D
- Réponse à la question 4 A B C D
- Réponse à la question 5 A B C D
- Réponse à la question 6 A B C D

Thème F : langages et programmation

- Réponse à la question 1 A B C D
- Réponse à la question 2 A B C D
- Réponse à la question 3 A B C D
- Réponse à la question 4 A B C D
- Réponse à la question 5 A B C D
- Réponse à la question 6 A B C D

Thème G : algorithmique

- Réponse à la question 1 A B C D
- Réponse à la question 2 A B C D
- Réponse à la question 3 A B C D
- Réponse à la question 4 A B C D
- Réponse à la question 5 A B C D
- Réponse à la question 6 A B C D



Modèle CCYC : ©DNE

Nom de famille (naissance) :

(Suivi s'il y a lieu, du nom d'usage)

Prénom(s) :

N° candidat : N° d'inscription :

(Les numéros figurent sur la convocation.)

Né(e) le : / /



1.1

Thème A : types de base

Question A.1

Parmi les propositions suivantes, laquelle est la représentation binaire de 761 ?

Réponses

- A 11 1100 1101
- B 11 1110 0101
- C 10 0111 1001
- D 10 1111 0001

Question A.2

Parmi les caractères ci-dessous, lequel ne fait pas partie du code ASCII ?

Réponses

- A a
- B B
- C @
- D é

Question A.3

Dans quel système de numération 3F5 représente-t-il un nombre entier ?

Réponses

- A binaire (base 2)
- B octal (base 8)
- C décimal (base 10)
- D hexadécimal (base 16)

Question A.4

Quelle est l'écriture binaire, en complément à deux sur 8 bits, de l'entier négatif -7 ?

Réponses

- A - 0000 0111
- B 1000 0111
- C 1111 1000
- D 1111 1001

Question A.5

Le résultat de la multiplication en binaire $1011 * 101$ est égal au nombre binaire :

Réponses

- A 102111
- B 101110
- C 110111
- D 110011




Question A.6

Quelle est la valeur de x à la fin de l'exécution du script Python suivant ?

```
x = 1
for i in range(10):
    x = x * 2
```

Réponses

- A 2
- B 1024
- C 2048
- D 20000000000

Modèle CCYC : ©DNE																						
Nom de famille (naissance) : <small>(Suivi s'il y a lieu, du nom d'usage)</small>																						
Prénom(s) :																						
N° candidat :											N° d'inscription :											
 <small>Liberté • Égalité • Fraternité RÉPUBLIQUE FRANÇAISE</small>	<small>(Les numéros figurent sur la convocation.)</small>																					
Né(e) le :			/			/																
1.1																						

Thème B : types construits

Question B.1

On exécute l'instruction suivante :

```
T = [ [12,13,14,15],
      [24,25,26,27],
      [35,36,49,33],
      [61,53,55,58] ]
```

Quelle expression parmi les quatre suivantes a pour valeur 26 ?

Réponses

- A T[1][2]
- B T[2][1]
- C T[2][3]
- D T[3][2]

Question B.2

On définit `tableau = [[1, 2, 3], [4, 5, 6], [7, 8, 9]]`. Quelle est la valeur de `tableau[2][1]` ?

Réponses

- A 2
- B 4
- C 6
- D 8

Question B.3

Laquelle des expressions suivantes a-t-elle pour valeur la liste des carrés des premiers entiers qui ne sont **pas** multiples de 5 ?

Réponses

- A `[x*x for x in range (11) if x//5 != 0]`
- B `[x*x if x%5 != 0 for x in range (11)]`
- C `[x*x if x//5 != 0 for x in range (11)]`
- D `[x*x for x in range (11) if x%5 != 0]`

Question B.4

Quelle est la valeur de l'expression `[2**i for i in range(5)]` ?

Réponses

- A `[0,1,4,9,16]`
- B `[1,4,9,16,25]`
- C `[0,2,4,6,8]`
- D `[1,2,4,8,16]`



Question B.5

Quelle affectation permet de donner à L la valeur [1, 9, 25, 49, 81] ?

Réponses

- A L = [i*2 for i in range(9) if i%2 == 0]
- B L = [i**2 for i in range(10) if i%2 == 0]
- C L = [i**2 for i in range(10) if i%2 == 1]
- D L = [i**2 for i in range(10) if i//2 == 1]

Question B.6

On considère le code suivant :

```
def feed(t):  
    for i in range(len(t)):  
        t[i] = 0  
    return t
```

Que renvoie feed([12, 24, 32]) ?

Réponses

- A [120, 240, 320]
- B [0, 0, 0]
- C []
- D [0]

Modèle CCYC : ©DNE

Nom de famille (naissance) :

(Suivi s'il y a lieu, du nom d'usage)

Prénom(s) :

N° candidat :

N° d'inscription :



Liberté • Égalité • Fraternité
RÉPUBLIQUE FRANÇAISE

Né(e) le :

(Les numéros figurent sur la convocation.)

1.1

Thème C : traitement de données en tables

Question C.1

On définit :

```
contacts = { 'Toto': 'toto@nsi.fr', 'Chloé': 'chloe@nsi.com',  
            'Paul': 'paul@nsi.net', 'Clémence': 'clemence@nsi.org' }
```

Parmi les propositions suivantes, laquelle est exacte ?

Réponses

- A 'Chloé' est une **valeur** de la variable contacts
- B 'Chloé' est une **clé** de la variable contacts
- C 'Chloé' est un **attribut** de la variable contacts
- D 'Chloé' est un **champ** de la variable contacts

Question C.2

Par quoi faut-il remplacer les pointillés dans le script suivant :

```
relevé = [ {'matière':'EPS','moyenne':11},  
          {'matière':'Sciences','moyenne':6},  
          {'matière':'LV1','moyenne':14},          {'matière':'Histoire','moyenne':9},  
          {'matière':'LV2','moyenne':15} ]  
  
a = .....  
b = .....  
for i in relevé :  
    if i[a] > 10:  
        print(i[b])
```

pour qu'il affiche

```
EPS  
LV1  
LV2
```

Réponses

- A a = 'moyenne'
b = 'matière'
- B a = 'matière'
b = 'moyenne'
- C a = 0
b = 1
- D a = 1
b = 0



Question C.3

On exécute le code suivant :

```
dict = { "alexandre" : 17, "mehdi" : 18, "jeanne" : 16,  
        "charlotte" : 19, "celina" : 18, "noé" : 19 }
```

```
def f(dic):  
    for cle, valeur in dic.items() :  
        if valeur > 18:  
            return cle
```

Que renvoie l'appel f(dict) ?

Réponses

- A 19
- B 19,19
- C "charlotte"
- D "charlotte","noé"

Question C.4

On définit :

```
T = [ {'fruit': 'banane', 'nombre': 25}, {'fruit': 'orange', 'nombre':  
124}, {'fruit': 'pomme', 'nombre': 75}, {'fruit': 'kiwi', 'nombre': 51}  
]
```

Quelle expression a-t-elle pour valeur le nombre de pommes ?

Réponses

- A T[2]['nombre']
- B T[2,'nombre']
- C T[3]['nombre']
- D T[3,'nombre']

Question C.5

Quel type de fichier est le plus adapté au traitement des données?

Réponses

- A PNG
- B PDF
- C CSV
- D DOC

Modèle CCYC : ©DNE

Nom de famille (naissance) :


(Suivi s'il y a lieu, du nom d'usage)

Prénom(s) :

N° candidat : N° d'inscription :

(Les numéros figurent sur la convocation.)

Né(e) le : / /



1.1

Question C.6

On a défini deux tables de données :

```

data1 = [('Bruce', 'Wayne'), ('Chuck', 'Norris'), ('Bruce', 'Lee'),
         ('Clark', 'Kent')]
data2 = [('Diana', 'Prince'), ('Chuck', 'Norris'), ('Peter', 'Parker')]

```

Quelle instruction permet de construire une table data regroupant l'ensemble des informations de data1 et data2 ?

Réponses

- A data = data1 + data2
- B data == data1 + data2
- C data = [element for element in data1 or data2]
- D data = [data1] + [data2]



Thème D : interactions entre l'homme et la machine sur le Web

Question D.1

On considère cet extrait de fichier HTML représentant les onglets d'une barre de navigation :

```
function BoutonGris() {  
    var btn = document.createElement("BUTTON");  
    btn.innerHTML = "Annulation";  
    document.getElementById("DIV").appendChild(btn);  
}
```

Réponses

- A elle remplace un élément DIV par un bouton
- B elle annule l'élément BUTTON
- C elle crée un bouton comportant le texte "Annulation"
- D elle recherche le bouton "BUTTON" et crée une copie appelée "btn"

Question D.2

Quel est le protocole utilisé pour accéder à la page <https://www.domaine.gouv.fr/qcm.php?nom=Martin?>

Réponses

- A HTTPS
- B HTTP
- C WWW
- D FTP

Question D.3

Lequel des termes suivants ne désigne pas un protocole de transmission par un réseau :

Réponses

- A HTTP
- B WWW
- C TCP
- D IP

Question D.4

Dans quels langages les balises `` et `<form>` sont-elles utilisées ?

Réponses

- A Python
- B HTML
- C Javascript
- D PHP

Modèle CCYC : ©DNE

Nom de famille (naissance) :

(Suivi s'il y a lieu, du nom d'usage)

Prénom(s) :

N° candidat : **N° d'inscription** :

(Les numéros figurent sur la convocation.)

Né(e) le : / /



1.1

Question D.5

Quel est le code HTML correct pour créer un hyperlien vers le site Eduscol ?

Réponses

- A ` site Eduscol `
- B ` site Eduscol `
- C ` site Eduscol `
- D `<a> https://www.eduscol.education.fr/ site Eduscol`

Question D.6

Les pages HTML sont affichées par ...

Réponses

- A le compilateur
- B le serveur
- C l'interpréteur
- D le navigateur Web



Thème E : architectures matérielles et systèmes d'exploitation

Question E.1

Quelle commande du shell Linux permet de renommer un fichier ?

Réponses

- A cp
- B rm
- C mv
- D touch

Question E.2

Quel est le rôle de l'unité arithmétique et logique dans un processeur ?

Réponses

- A réaliser les branchements
- B définir la base des opérations arithmétiques : binaire, octale ou hexadécimale
- C effectuer les calculs
- D gérer le contrôle interne du processeur

Question E.3

Lorsque, en ligne de commande, on saisit la commande

```
rm *
```

ceci a pour effet :

Réponses

- A d'activer une télécommande
- B d'accéder au répertoire parent du répertoire courant
- C d'effacer tous les fichiers du répertoire courant et ses sous-répertoires
- D d'effacer tous les fichiers du répertoire courant

Question E.4

Lequel de ces périphériques n'est pas un périphérique d'entrée ?

Réponses

- A le moniteur
- B le clavier
- C la souris
- D le scanner

Question E.5

Comment s'appelle l'ensemble des règles qui régissent les échanges sur Internet ?

Réponses

- A les couches
- B le wifi
- C les protocoles
- D les commutateurs

Modèle CCYC : ©DNE

Nom de famille (naissance) :


(Suivi s'il y a lieu, du nom d'usage)

Prénom(s) :

N° candidat : N° d'inscription :

(Les numéros figurent sur la convocation.)

Né(e) le : / /


Liberté • Égalité • Fraternité
RÉPUBLIQUE FRANÇAISE

1.1

Question E.6

Que permet d'effectuer la commande `mkdir` dans le shell d'Unix (interpréteur de commandes) ?

Réponses

- A créer un répertoire vide
- B créer un fichier vide
- C supprimer un répertoire cible
- D supprimer un fichier cible



Thème F : langages et programmation

Question F.1

On exécute le script suivant :

```
def calcul(a,b):  
    a = a + 2  
    b = b + 5  
    c = a + b  
    return c  
  
a,b = 3,5  
calcul(a,b)
```

À la fin de cette exécution :

Réponses

- A a vaut 3, b vaut 5 et c vaut 15
- B a vaut 3, b vaut 5 et c n'est pas défini
- C a vaut 5, b vaut 10 et c vaut 15
- D a vaut 5, b vaut 10 et c n'est pas défini

Question F.2

Ce programme ne renvoie pas toujours ses trois arguments dans l'ordre croissant. Parmi les tests suivants, lequel va permettre de détecter l'erreur ?

```
def ranger(a, b, c):  
    if a > b :  
        a, b = b, a  
    if b > c :  
        b, c = c, b  
    return a, b, c
```

Réponses

- A ranger(1,2,3)
- B ranger(3,4,1)
- C ranger(1,3,2)
- D ranger(4,2,3)

Modèle CCYC : ©DNE

Nom de famille (naissance) :

(Suivi s'il y a lieu, du nom d'usage)

Prénom(s) :

N° candidat : N° d'inscription :

(Les numéros figurent sur la convocation.)

Né(e) le : / /



1.1

Question F.3

On définit la fonction suivante :

```
def rey(n):
    i = 0
    while i <= n:
        i = 2*i
    return i
```

Quelle valeur renvoie l'appel `rey(100)` ?

Réponses

- A 0
- B 64
- C 100
- D 128

Question F.4

n étant un entier strictement positif, la fonction suivante calcule sa factorielle, c'est-à-dire le produit $1 \times 2 \times 3 \times \dots \times (n-1) \times n$. Comment faut-il écrire la ligne en pointillée ci-dessous pour ce faire ?

```
def factorielle(n):
    f = 1
    .....
    f = f * i
    return f
```

Réponses

- A `for i in range(1,n):`
- B `for i in range(n+1):`
- C `for i in range(0,n):`
- D `for i in range(1,n+1):`

Question F.5

On exécute le code suivant :

```
def f(t):
    n = len(t)
    for i in range(n-1):
        if t[i] > t[i+1]:
            t[i],t[i+1] = t[i+1],t[i]
```

```
L = [4, 8, -7, 0, 1]
f(L)
```

Quelle est la valeur de `L` après l'exécution de ce code ?

Réponses

- A `[4, -7, 8, 0, 1]`
- B `[-7, 0, 1, 4, 8]`
- C `[4, 8, -7, 0, 1]`
- D `[4, -7, 0, 1, 8]`



Question F.6

La fonction Python suivante ne calcule pas toujours correctement le résultat de x^y pour des arguments entiers.
Parmi les tests suivants, lequel va permettre de détecter l'erreur ?

```
def puissance (x,y):  
    p = x  
    for i in range (y - 1):  
        p = p * x  
    return p
```

Réponses

- A puissance(2,0)
- B puissance(2,1)
- C puissance(2,2)
- D puissance(2,10)



Question G.4

Un algorithme de recherche dichotomique sur un tableau trié de mille entiers s'exécute en 50 millisecondes. Quelle est la durée approximative de son exécution sur un tableau trié d'un million d'entiers ?

Réponses

- A la même durée : environ 50 millisecondes
- B une durée environ dix fois plus longue : environ une demi-seconde
- C une durée environ mille fois plus longue : environ 50 secondes
- D une durée qui dépasserait l'année, car la complexité de l'algorithme est exponentielle

Question G.5

On considère le code suivant de recherche d'une valeur dans une liste :

```
def search(x, y):  
    # x est la valeur à chercher  
    # y est une liste de valeurs  
    for i in range(len(y)):  
        if x == y[i]:  
            return i  
    return None
```

Quel est le coût de cet algorithme ?

Réponses

- A constant
- B logarithmique
- C linéaire
- D quadratique

Question G.6

La fonction `mystere` suivante prend en argument un tableau d'entiers.

```
def mystere(t):  
    for i in range(len(t) - 1):  
        if t[i] + 1 != t[i+1]:  
            return False  
    return True
```

À quelle condition la valeur renvoyée par la fonction est-elle `True` ?

Réponses

- A si le tableau passé en argument est une suite d'entiers consécutifs
- B si le tableau passé en argument est trié en ordre croissant
- C si le tableau passé en argument est trié en ordre décroissant
- D si le tableau passé en argument contient des entiers tous identiques