

EXERCICE 1 DE LA RADIUMTHÉRAPIE À LA CURIETHÉRAPIE

En décembre 1898, Marie et Pierre Curie découvrent un nouvel élément chimique qu'ils appellent « radium ». Pierre Curie et Henri Becquerel publient en 1901 un article relatant les effets physiologiques du rayonnement du radium.

Dans les années 1910, Marie Curie, qui dirige alors l'Institut du Radium développe, avec le Dr. Regaud qui dirige l'Institut Pasteur, la « curiethérapie ». C'est une méthode qui consistait à irradier localement une tumeur cancéreuse en introduisant de fines aiguilles contenant du radium.

L'objectif de l'exercice est de comprendre le principe d'une radiothérapie, la curiethérapie.

Document 1. Les débuts de la curiethérapie

Les médecins avaient très vite compris que les rayonnements ionisants tuaient plus facilement les cellules cancéreuses que les cellules saines, bien qu'ils n'aient pas su pourquoi. Mais il y eut un long chemin à parcourir avant qu'ils ne parviennent à optimiser les doses de ces rayonnements tout en minimisant les risques pour les patients et les opérateurs. À l'âge héroïque, il n'était pas possible de calculer la dose de rayonnement émise et les médecins recouraient le plus souvent à une irradiation massive aux rayons X d'une grande partie du corps pour détruire la tumeur d'un seul coup. Cela entraînait fréquemment la nécrose des tissus sains environnants sans garantir l'absence de récurrence de la tumeur. Pour les tumeurs traitées par radioactivité, on employait des sels de radium, d'abord contenus dans des tubes en verre puis dans des aiguilles en platine, placés contre les tumeurs (ou à l'intérieur) ce qui limitait leur usage aux cancers accessibles de l'extérieur et de petite taille (cancers du sein, de la peau, du col de l'utérus).

D'après www.futura-sciences.com : Dossier - Radioactivité : les pionniers

Modèle CCYC : ©DNE

Nom de famille (naissance) :

(Suivi s'il y a lieu, du nom d'usage)

Prénom(s) :

N° candidat :

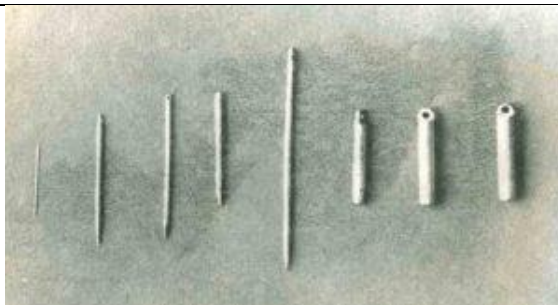
N° d'inscription :



Né(e) le :

(Les numéros figurent sur la convocation.)

1.1



Aiguilles contenant les sels de radium, utilisées en curietherapie dans les années 1910 (<http://www.jeanboudou.fr/blog/la-grande-decouverte-des-curie/>)

Le radium est un élément radioactif. On estime aujourd'hui sa demi-vie à 1622 ans.

1. À partir de vos connaissances, expliquer ce qu'est un élément radioactif.
2. Donner la définition de la demi-vie d'un élément radioactif.
3. À partir de l'exploitation du document 1, indiquer la bonne réponse sur votre copie :

La curietherapie a été utilisée dès le début du XX^{ème} siècle pour soigner des cancers, car :

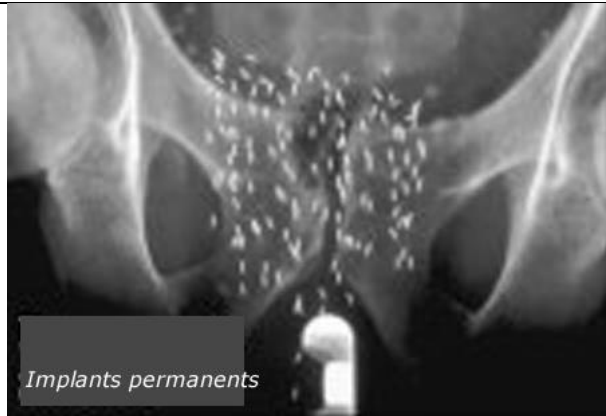
- 3a. Les rayonnements produits empêchent les récives de la tumeur.
- 3b. Les rayonnements produits détruisent les cellules des tumeurs.
- 3c. Les rayonnements produits pouvaient être facilement dosés et localisés avec précision sur la tumeur.
- 3d. Les rayonnements produits provoquent uniquement une nécrose des cellules cancéreuses.

Document 2. La méthode actuelle de curietherapie de la prostate

La curietherapie de la prostate consiste à installer directement dans l'organe des implants radioactifs constitués d'une source radioactive enrobée dans une capsule de titane. Un radioélément utilisé est l'iode-125. De 40 à 130 implants sont installés dans la prostate, le nombre étant déterminé par le volume de la prostate à traiter. Ces implants restent à demeure.



Implants contenant de l'iode-125 utilisés en curiethérapie de la prostate



Radiographie du bassin d'un patient traité par curiethérapie. Les implants apparaissent sous forme de bâtonnets blancs.

Évolution de la radioactivité des implants en fonction du temps

Pourcentage de radioactivité restante (%)	100	73	53	38	20	11	5
Temps (semaines)	0	4	8	12	20	28	36

D'après http://www.laradioactivite.com/site/pages/Projet_Curietherapie.htm

Document 3. Radioprotection après la pose des implants radioactifs lors d'une curiethérapie de la prostate

La plupart des rayonnements émis par l'iode-125 ont beau être essentiellement absorbés dans l'organe à traiter, une fraction touche néanmoins des structures proches, comme le rectum ou la vessie par exemple. À cette inquiétude légitime pour le patient, s'ajoute un risque pour l'entourage tant que la radioactivité n'a pas décru suffisamment : le patient est lui-même radioactif. Quelques précautions permettent de réduire le risque. Voici les conseils donnés par l'Institut National du Cancer :

« En cas de curiethérapie par implants permanents (iode-125), la radioactivité des sources implantées diminue progressivement dans le temps. Les risques pour l'entourage sont jugés inexistantes, les rayonnements émis étant très peu

Modèle CCYC : ©DNE

Nom de famille (naissance) :


(Suivi s'il y a lieu, du nom d'usage)

Prénom(s) :

N° candidat : N° d'inscription :

(Les numéros figurent sur la convocation.)

Né(e) le : / /



RÉPUBLIQUE FRANÇAISE

1.1

pénétrants et donc arrêtés presque totalement par le corps lui-même.

Les contacts avec les autres personnes sont autorisés. Quelques précautions sont cependant nécessaires pendant les 6 mois qui suivent l'implantation. En pratique, vous devez notamment éviter les contacts directs et prolongés avec les jeunes enfants (par exemple, les prendre sur vos genoux) et les femmes enceintes. »

D'après <https://www.e-cancer.fr/Patients-et-proches/Les-cancers/Cancer-de-la-prostate/Curietherapie/Quel-deroulement>

4. À partir de l'exploitation des documents 2 et 3 et de vos connaissances :

4a- Réaliser sur le document en annexe la courbe de décroissance radioactive de l'iode-125 représentant le pourcentage de l'activité restante en fonction du temps.

4b- Déterminer le temps de demi-vie de l'iode-125.

4c- L'activité des implants utilisés en curiethérapie est considérée comme faible lorsque l'activité restante est inférieure à 15 % de l'activité initiale. Déterminer au bout de combien de temps les implants auront une activité faible.

4d- Justifier la durée des précautions à prendre par le patient concernant son entourage.

5. À l'aide de l'ensemble des documents, donner un intérêt d'utiliser l'iode-125 plutôt que le radium pour la curiethérapie. Une réponse argumentée est attendue.



EXERCICE 2 LE SOLEIL, SOURCE DE VIE SUR TERRE ?

Le Soleil émet un rayonnement électromagnétique dans toutes les directions ; une partie de ce rayonnement est reçue par la Terre et constitue une source d'énergie essentielle à la vie. De même, l'atmosphère terrestre contribue à créer des conditions propices à la vie sur Terre.

Partie 1. Le rayonnement solaire

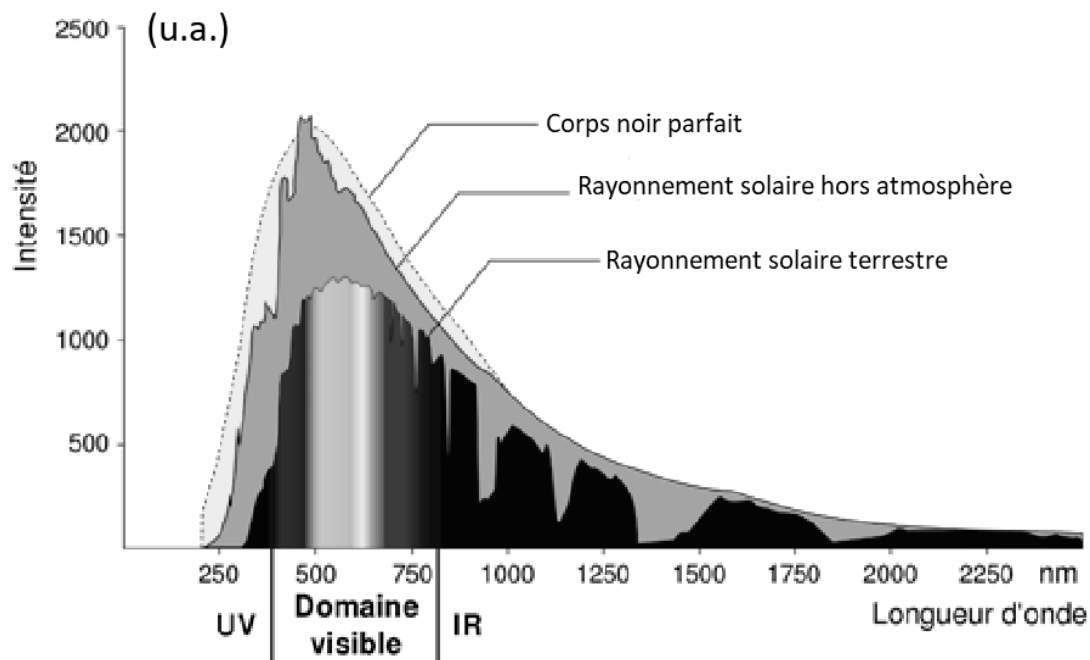
La relation entre la température en degré Celsius θ ($^{\circ}\text{C}$) et la température absolue T en Kelvin (K) est : $T(\text{K}) = 273 + \theta(^{\circ}\text{C})$

Le Soleil peut être modélisé par un corps noir, qui émet un rayonnement thermique correspondant à une température d'environ 5800 K.

La loi de Wien est la relation entre la température de surface T d'un corps et la longueur d'onde λ_{max} au maximum d'émission :

$$\lambda_{\text{max}} \times T = 2,90 \times 10^{-3} \text{ m.K} \quad \text{avec } T \text{ en Kelvin et } \lambda_{\text{max}} \text{ en m}$$

Document 1 : spectre du rayonnement émis par le Soleil en fonction de la longueur d'onde



D'après

https://www.ilephysique.net/img/forum_img/0258/forum_258713_1.jpg

Modèle CCYC : ©DNE

Nom de famille (naissance) :

(Suivi s'il y a lieu, du nom d'usage)

Prénom(s) :

N° candidat :

N° d'inscription :



Né(e) le :

(Les numéros figurent sur la convocation.)

1.1

1- Déterminer approximativement, à partir du document 1, la valeur de la longueur d'onde correspondant au maximum d'intensité du rayonnement solaire hors atmosphère ?

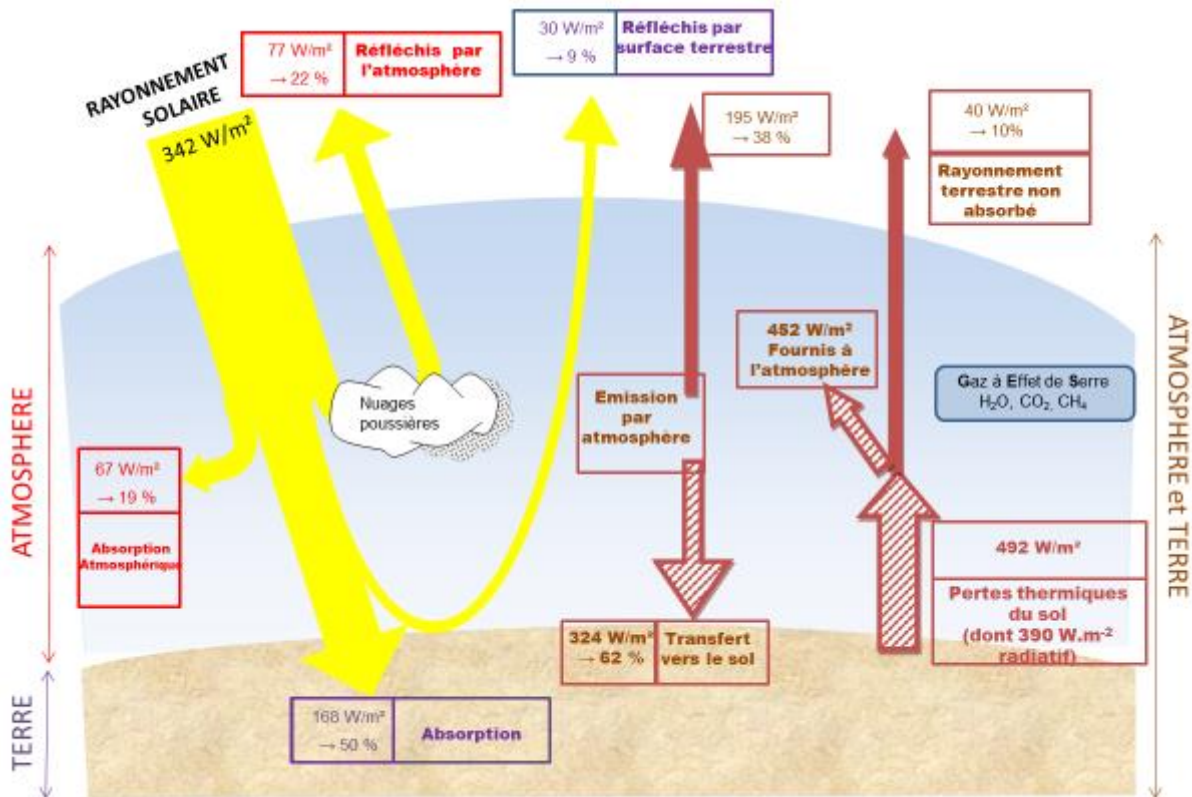
2- Justifier par un calcul que dans l'hypothèse où le soleil est modélisé par un corps noir, sa température de surface est voisine de 5800 K.

Document 2 : schéma du bilan énergétique terrestre

Le schéma ci-dessus présente les flux énergétiques émis, diffusés et réfléchis par les différentes parties de l'atmosphère. L'albédo terrestre moyen est de 30 %.

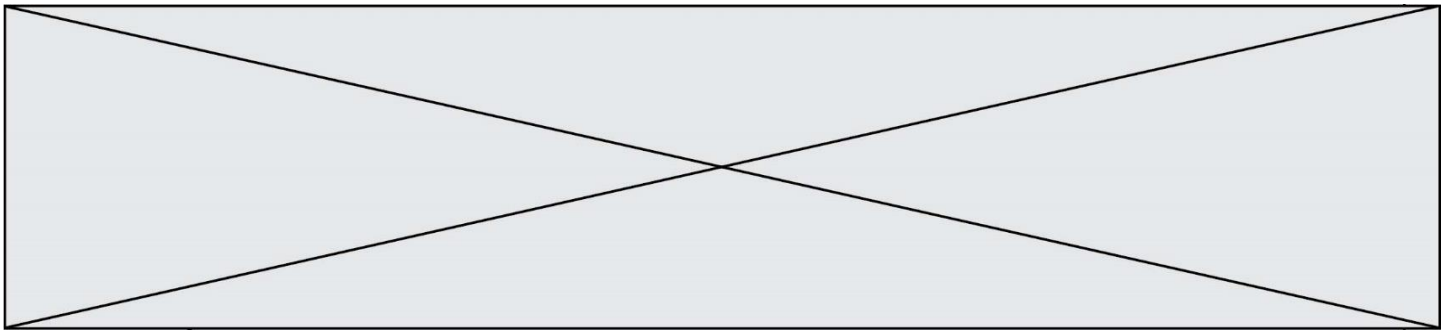
Les flèches pleines correspondent à des transferts radiatifs. Les flèches hachurées correspondent à des transferts mixtes- radiatifs et non radiatifs.

Sont précisés : les puissances par unité de surface associées à chaque transfert et le pourcentage qu'elles représentent relativement à la puissance solaire incidente ($342 \text{ W}\cdot\text{m}^{-2}$)



TITRE : Bilan énergétique terrestre

Document créé par l'auteur



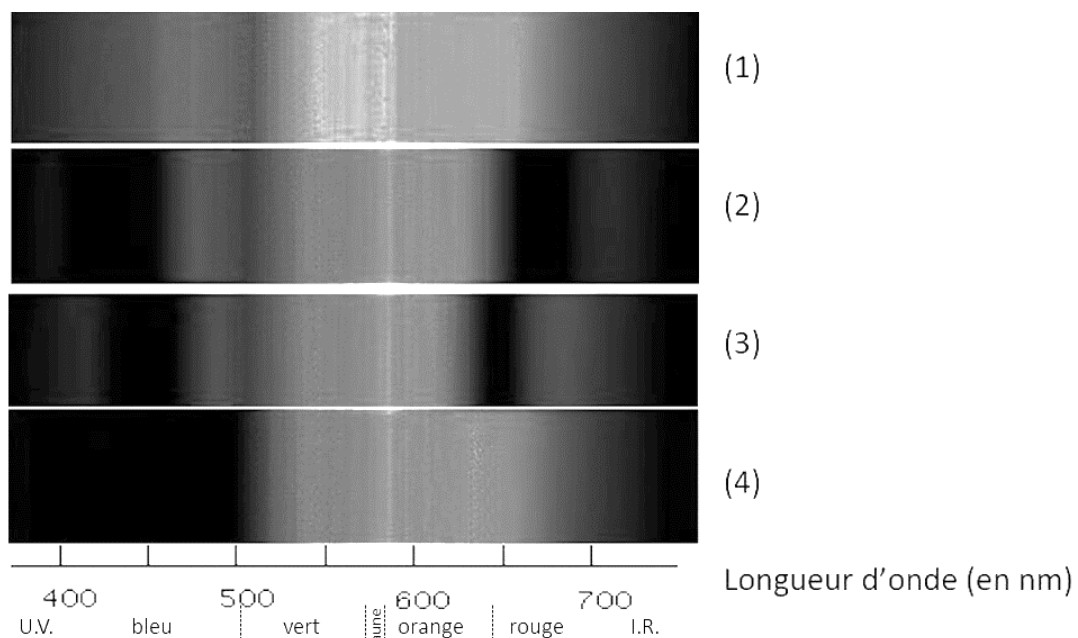
3- Définir, l'albédo terrestre à l'aide de vos connaissances.

4- À partir des valeurs indiquées dans le document 2, montrer que le bilan énergétique à la surface de la Terre est équilibré, autrement dit que la puissance que la Terre reçoit est égale à celle qu'elle fournit à l'extérieur. Montrer que cela est également le cas pour le système global Terre-atmosphère.


Partie 2. La conversion de l'énergie solaire

Document 4 : spectre des chlorophylles

Les organismes chlorophylliens renferment de nombreux pigments photosynthétiques comme les chlorophylles a et b, et les caroténoïdes. En faisant traverser par de la lumière blanche (spectre 1), des solutions contenant chacune un seul de de ces pigments, on obtient les spectres suivants : chlorophylle a (spectre 2), chlorophylle b (spectre 3) et caroténoïdes (spectre 4).



D'après <http://www.snv.jussieu.fr/bmedia/Photosynthese/exp233.html>

Modèle CCYC : ©DNE																				
Nom de famille (naissance) : <small>(Suivi s'il y a lieu, du nom d'usage)</small>																				
Prénom(s) :																				
N° candidat :											N° d'inscription :									
 <small>Liberté • Égalité • Fraternité</small> <small>RÉPUBLIQUE FRANÇAISE</small>	<small>(Les numéros figurent sur la convocation.)</small>																			
	Né(e) le :			/			/													

1.1

5- Pour chacune des propositions suivantes (5.1 à 5.3), indiquer la bonne réponse.

5-1- Ces différents spectres nous permettent alors :

- a- de déterminer la température de la plante.
- b- d'en déduire la composition chimique des pigments.
- c- d'en déduire les longueurs d'ondes absorbées par chaque pigment photosynthétique.
- d- d'en déduire la quantité de chaque pigment.

5-2- Dans la cellule, l'énergie solaire captée par les pigments photosynthétiques :

- a- permet la synthèse de la matière minérale.
- b- permet la synthèse de la matière organique.
- c- permet la consommation de matière organique.
- d- permet la consommation de dioxygène.

5-3- L'être humain est dépendant de l'énergie solaire utilisée par les plantes pour son fonctionnement car, en présence de lumière et lors de la photosynthèse, les plantes produisent :

- a- matière organique et O₂ .
- b- matière organique et CO₂ .
- c- matière minérale et O₂ .
- d- matière minérale et CO₂.

