

Modèle CCYC : ©DNE

Nom de famille (naissance) :

(Suivi s'il y a lieu, du nom d'usage)

Prénom(s) :

N° candidat :

N° d'inscription :

(Les numéros figurent sur la convocation.)

Né(e) le :



1.1

ÉVALUATION COMMUNE

CLASSE : Première

EC : EC1 EC2 EC3

VOIE : Générale Technologique Toutes voies (LV)

ENSEIGNEMENT : Enseignement scientifique

DURÉE DE L'ÉPREUVE : 2h

Niveaux visés (LV) : LVA LVB

Axes de programme :

CALCULATRICE AUTORISÉE : Oui Non

DICTIONNAIRE AUTORISÉ : Oui Non

Ce sujet contient des parties à rendre par le candidat avec sa copie. De ce fait, il ne peut être dupliqué et doit être imprimé pour chaque candidat afin d'assurer ensuite sa bonne numérisation.

Ce sujet intègre des éléments en couleur. S'il est choisi par l'équipe pédagogique, il est nécessaire que chaque élève dispose d'une impression en couleur.

Ce sujet contient des pièces jointes de type audio ou vidéo qu'il faudra télécharger et jouer le jour de l'épreuve.

Nombre total de pages : 7

EXERCICE 1

GÉODE DE GALÈNE

Le plomb est présent à l'état naturel sous diverses formes dans la croûte terrestre. On le trouve principalement dans la galène, qui en contient 86,6 % en masse. Cet élément a permis de donner une estimation précise de l'âge de la Terre.

Géode de galène



Partie 1 : la galène

- 1- La galène est un solide minéral composé en majorité de sulfure de plomb qui possède une structure cristalline de type chlorure de sodium constituée des ions plomb Pb^{2+} et des ions sulfure S^{2-} .

Modèle CCYC : ©DNE

Nom de famille (naissance) :

(Suivi s'il y a lieu, du nom d'usage)

Prénom(s) :

N° candidat :

N° d'inscription :

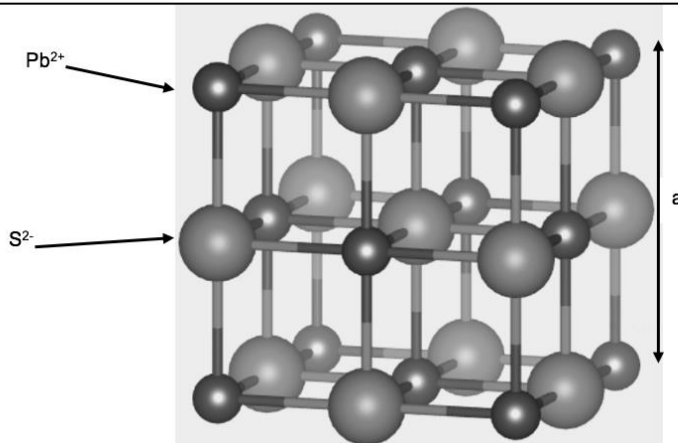


Né(e) le :

(Les numéros figurent sur la convocation.)

1.1

Document 1 : Une maille de la structure cristalline de sulfure de plomb.



1-a- Déterminer le type de réseau cristallin formé par les ions plomb Pb^{2+} .

1-b- Préciser les différentes positions occupées par les ions sulfure S^{2-} dans la maille.

2-a- Justifier qu'il y a quatre ions plomb Pb^{2+} et quatre ions sulfure S^{2-} dans la maille.

2-b- Choisir la formule chimique du sulfure de plomb parmi les quatre proposées ci-dessous et la recopier sur la copie.

A : Pb_2S

B : PbS_2

C : PbS

D : PbS_4

3- La forme géométrique de la maille et la nature des ions qui la constituent sont à l'origine des propriétés macroscopiques du cristal, notamment de sa masse volumique.

En utilisant les données ci-dessous, calculer la masse et le volume d'une maille.

En déduire la masse volumique du sulfure de plomb.

Données :

Masse d'un ion plomb Pb^{2+} : $m_{Pb^{2+}} = 3,44 \times 10^{-22}$ g.

Masse d'un ion sulfure S^{2-} : $m_{S^{2-}} = 5,33 \times 10^{-23}$ g.

Longueur d'une arête de la maille : $a = 5,94 \times 10^{-8}$ cm.

4- Outre ses utilisations industrielles, la galène peut servir d'objet de décoration. Elle est alors vendue sous forme de géode (cavité rocheuse tapissée de cristaux).

Un vendeur de géodes de galène veut estimer la qualité de son stock de géodes.

Pour cela, il effectue le prélèvement d'un lot de cinquante géodes dans son stock et détermine la masse volumique de chacune d'elle. Par souci de simplification, il se limite à étudier ce seul critère.



Il obtient les résultats suivants :

Masse volumique (en g.cm ⁻³)	7,30	7,35	7,40	7,45	7,50	7,55	7,60
Effectif	1	1	9	10	11	13	5

Pour être conforme, un lot de géodes doit contenir au moins 95% de géodes dont la masse volumique est comprise entre 7,40 g.cm⁻³ et 7,60 g.cm⁻³.

Le lot précédent est-il conforme ? Justifier la réponse.

Partie 2 : détermination de l'âge de la Terre

Dès le XVI^e siècle, les scientifiques ont cherché à déterminer l'âge de roches. C'est la découverte de la radioactivité à la fin du XIX^e siècle qui leur a permis de dater avec une plus grande fiabilité de nombreux échantillons de roches prélevés dans la croûte terrestre.

Principe de la datation uranium-plomb

On fait l'hypothèse suivante : on considère qu'il n'y a pas de plomb 206 dans la roche au moment de sa formation, mais qu'elle contient des noyaux d'uranium 238 radioactifs.

On sait qu'un noyau d'uranium 238 radioactif se transforme en un noyau plomb 206 stable à la suite d'une série de désintégrations successives.

L'équation globale est : ${}_{92}^{238}\text{U} \rightarrow {}_{82}^{206}\text{Pb} + 6 {}_{-1}^0e + 8 {}_2^4\text{He}$

En mesurant la quantité de plomb 206 dans un échantillon de roche ancienne, on peut déterminer l'âge de l'échantillon de roche à partir de la courbe de décroissance radioactive du nombre de noyaux d'uranium 238.

Modèle CCYC : ©DNE

Nom de famille (naissance) :

(Suivi s'il y a lieu, du nom d'usage)

Prénom(s) :

N° candidat :

N° d'inscription :

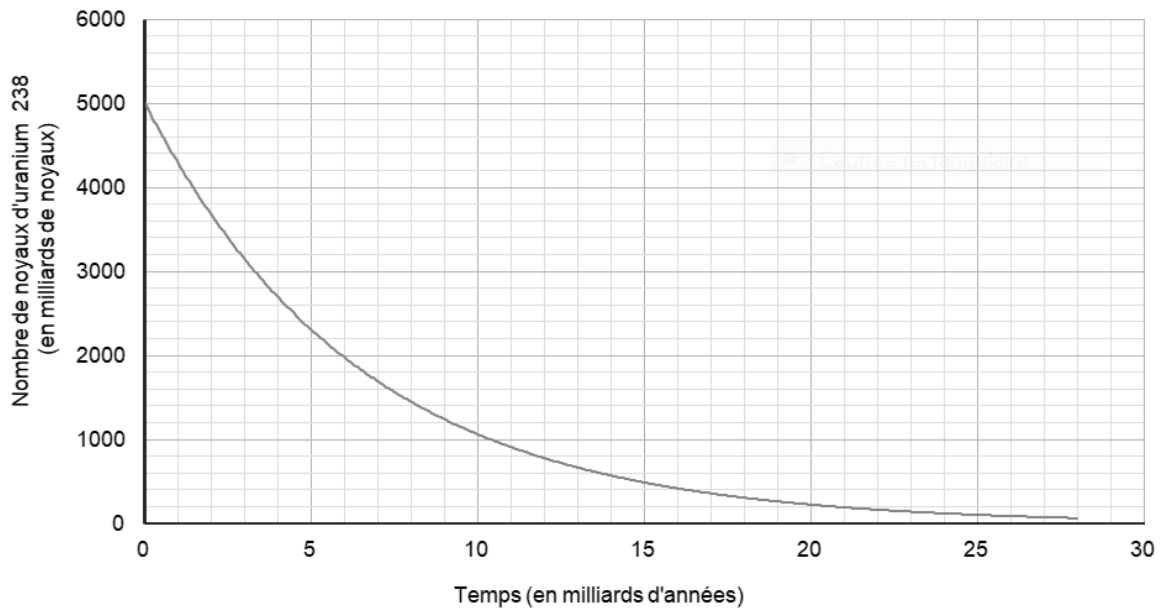
(Les numéros figurent sur la convocation.)

Né(e) le :



Liberté • Égalité • Fraternité
RÉPUBLIQUE FRANÇAISE

1.1



Ainsi, si on considère qu'un échantillon de roche contenant à la fois du plomb 206 et de l'uranium 238 a le même âge que la Terre, il est possible d'utiliser la datation uranium-plomb pour donner une estimation de l'âge de la Terre.

5- Donner la composition d'un noyau de plomb 206.

6- On note $N_U(t)$ et $N_{Pb}(t)$ les nombres de noyaux d'uranium 238 et de plomb 206 présents dans l'échantillon à la date t à laquelle la mesure est réalisée et $N_U(0)$ le nombre de noyaux d'uranium 238 que contenait la roche au moment de sa formation.

6-a : Justifier la relation : $N_U(0) = N_U(t) + N_{Pb}(t)$.

6-b- Déterminer graphiquement $N_U(0)$.

6-c- Le nombre de noyaux de plomb 206 mesuré dans la roche à la date t est égal à $N_{Pb}(t) = 2,5 \cdot 10^{12}$ noyaux.

Calculer le nombre $N_U(t)$ de noyaux d'uranium présents à la date t .

7- En déduire une estimation de l'âge de la Terre. Expliquer la démarche employée.



EXERCICE 2

ENREGISTREMENT DE FICHIERS SONORES

On s'interroge sur la pertinence d'utiliser un smartphone pour télécharger et stocker de la musique. Pour cela, on étudie le lien entre la qualité de la numérisation d'un signal audio et la taille des fichiers numériques correspondants.

Partie A : échantillonnage et quantification d'un signal audio

Le document 1 donné en annexe et à rendre avec la copie représente une portion de signal enregistré et l'échantillonnage effectué avant la conversion en signal numérique.

1- Préciser la fréquence d'échantillonnage, choisie parmi les valeurs proposées ci-dessous :

2000 Hz ; 12 500 Hz ; 26 000 Hz ; 44 100 Hz

2- Après l'échantillonnage du signal audio, on procède à sa quantification. On admet que la tension quantifiée ne prend que des valeurs entières ; la valeur quantifiée d'une tension est l'entier le plus proche de cette tension.

Sur le document 1 en annexe, à rendre avec la copie, représenter la courbe des tensions après quantification.

3- Une plateforme de service de musique en ligne propose de la musique en qualité « 16-Bits / 44.1 kHz ».

Expliquer ce que représentent ces deux valeurs.

4- Combien de niveaux de quantification différents peut-on obtenir lorsque le codage s'effectue sur 16 bits ? Choisir la bonne réponse parmi les propositions suivantes :

16 $2 \times 16 = 32$ $16^2 = 256$ $2^{16} = 65\,536$

Partie B : taille d'un fichier en haute définition

Dans un studio d'enregistrement, on enregistre un morceau de musique en stéréo haute définition en choisissant un encodage sur 24 bits et une fréquence d'échantillonnage de 192 kHz.

5- La taille T (en bit) d'un fichier audio numérique s'exprime en fonction de la fréquence d'échantillonnage f_e (en Hertz), du nombre n de bits utilisés pour la quantification, de la durée Δt de l'enregistrement et du nombre k de voies d'enregistrement (une en mono, deux en stéréo) selon la relation

$$T = f_e \times n \times \Delta t \times k$$

Modèle CCYC : ©DNE

Nom de famille (naissance) :


(Suivi s'il y a lieu, du nom d'usage)

Prénom(s) :

N° candidat : **N° d'inscription** :

(Les numéros figurent sur la convocation.)

Né(e) le : / /



1.1

Vérifier que l'espace de stockage nécessaire pour enregistrer en stéréo haute définition une seconde de musique est de 1,152 Mo. On rappelle qu'un octet est égal à 8 bits.

- 6- Avec 200 Mo de stockage, dispose-t-on de suffisamment d'espace pour enregistrer cinq minutes de musique en stéréo haute définition ?
- 7- Le dispositif d'encodage et de compression FLAC (Free Lossless Audio Codec) permet, par compression sans perte, de réduire de 55 % la taille des fichiers.

Son taux de compression, défini comme le rapport de la taille du fichier compressé sur la taille du fichier initial, est donc de 45%.

Avec 200 Mo de stockage, dispose-t-on de suffisamment d'espace pour enregistrer cinq minutes de musique en stéréo haute définition compressées par FLAC ?