

Modèle CCYC : ©DNE
Nom de famille (naissance) :


(Suivi s'il y a lieu, du nom d'usage)

Prénom(s) :

N° candidat : N° d'inscription :

(Les numéros figurent sur la convocation.)

Né(e) le : / /



1.1

ÉVALUATION COMMUNE

CLASSE : Première

EC : EC1 EC2 EC3

VOIE : Générale Technologique Toutes voies (LV)

ENSEIGNEMENT : Enseignement scientifique

DURÉE DE L'ÉPREUVE : 2h

Niveaux visés (LV) : LVA LVB

Axes de programme :

CALCULATRICE AUTORISÉE : Oui Non

DICTIONNAIRE AUTORISÉ : Oui Non

Ce sujet contient des parties à rendre par le candidat avec sa copie. De ce fait, il ne peut être dupliqué et doit être imprimé pour chaque candidat afin d'assurer ensuite sa bonne numérisation.

Ce sujet intègre des éléments en couleur. S'il est choisi par l'équipe pédagogique, il est nécessaire que chaque élève dispose d'une impression en couleur.

Ce sujet contient des pièces jointes de type audio ou vidéo qu'il faudra télécharger et jouer le jour de l'épreuve.

Nombre total de pages : 9

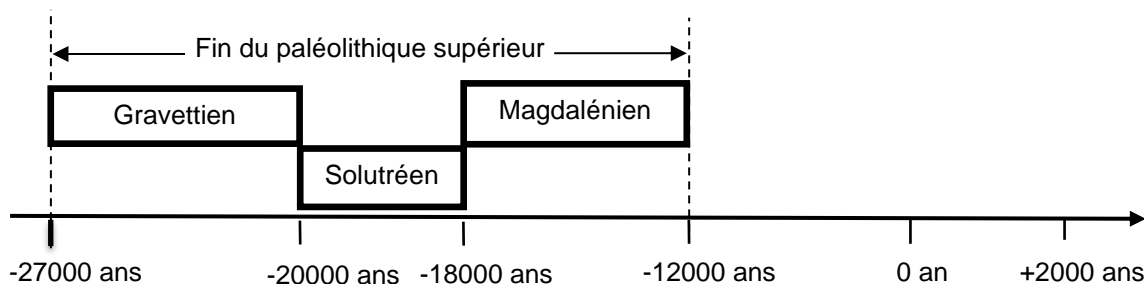
EXERCICE 1

LA DATATION DE L'OCCUPATION D'UNE GROTTTE PAR *HOMO SAPIENS*

Les analyses stylistiques des peintures et des objets ornant une grotte d'Europe de l'ouest ont permis aux paléoanthropologues de dater son occupation par *Homo sapiens* à la fin du Paléolithique supérieur.

Un désaccord persiste cependant entre les scientifiques lorsqu'il s'agit de préciser si les peintures et objets ont été réalisés au Gravettien, au Solutréen ou au Magdalénien, les trois dernières périodes géologiques du Paléolithique supérieur comme l'indique le document ci-dessous.

Les périodes géologiques de la fin du Paléolithique supérieur



D'après <https://multimedia.inrap.fr/archeologie-preventive/chronologie-generale>

Remarque : la proportionnalité sur l'échelle des temps n'est pas respectée.

1. Préciser ce qui distingue un noyau stable d'un noyau radioactif. Définir la demi-vie d'un isotope radioactif. Préciser si, pour un échantillon macroscopique contenant cet isotope, la demi-vie dépend de la quantité d'isotopes présente initialement.
2. L'élément carbone présent dans le bois d'un végétal provient de l'air et a été assimilé dans le végétal grâce à la photosynthèse au niveau des feuilles. En analysant le document ci-dessous, justifier l'utilisation de la méthode de datation au carbone 14 pour dater les peintures ornant la paroi de cette grotte.
3. Compléter la courbe en annexe représentant la décroissance radioactive du nombre d'atomes de ^{14}C au cours du temps (*annexe à rendre avec la copie – les coordonnées des points calculés doivent être précisées*).

Modèle CCYC : ©DNE

Nom de famille (naissance) :

(Suivi s'il y a lieu, du nom d'usage)

Prénom(s) :

N° candidat : N° d'inscription :

(Les numéros figurent sur la convocation.)

Né(e) le : / /



1.1

4. En s'appuyant sur les documents ci-dessous, expliquer, sous la forme d'une courte rédaction argumentée, comment la datation au ^{14}C permet de faire évoluer le désaccord entre les scientifiques sur la période de réalisation des peintures.

Document.

Principe de la datation au carbone 14

Le carbone 14 (^{14}C) est un noyau radioactif en proportion constante dans l'atmosphère.

Les êtres vivants, formant la biosphère, échangent entre eux ainsi qu'avec l'atmosphère du dioxyde de carbone (CO_2) dont une fraction connue comprend du carbone 14. Tout être vivant contient donc dans son organisme du ^{14}C en même proportion que l'atmosphère..

À sa mort, un être vivant cesse d'absorber du dioxyde de carbone, par contre le carbone 14 qu'il contient continue à se désintégrer.

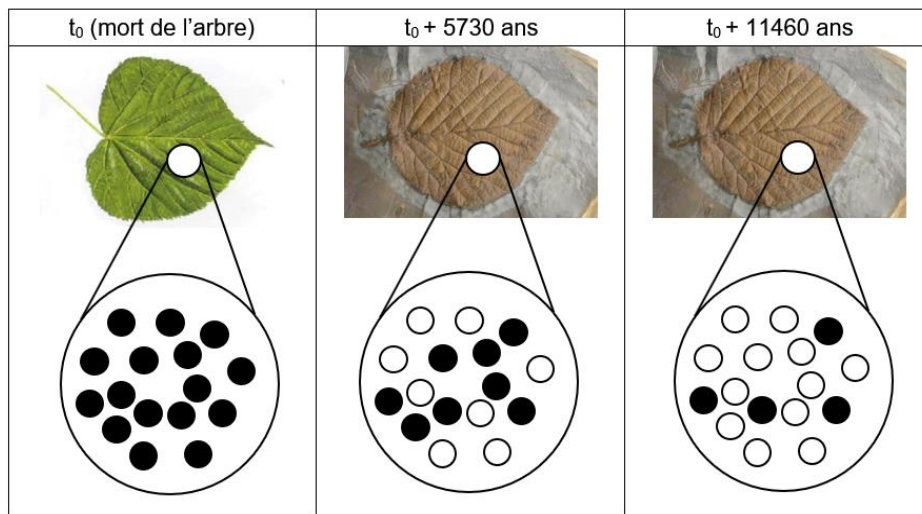
En 5730 ans la moitié des atomes de carbone 14 aura disparu d'un échantillon macroscopique de cet être vivant. C'est la demi-vie ($t_{1/2}$) de ce noyau radioactif. Au-delà de 8 demi-vie, la quantité de ^{14}C présente dans l'échantillon, inférieure à 1 %, est trop faible pour que la méthode puisse être utilisée pour dater un évènement.

Voir fin du document au verso.



Document.

Décroissance du nombre d'atomes de ^{14}C dans une feuille fossilisée après sa mort.



- Grand nombre d'atomes de ^{14}C
- Grand nombre d'atomes de ^{14}N

Source : illustration de l'auteur

Résultats des mesures effectuées sur un fragment de charbon de bois prélevé dans la grotte

Pour réaliser les peintures ornant les parois de la grotte, les êtres humains du Paléolithique supérieur ont utilisé du charbon de bois.

Les mesures, réalisées sur un prélèvement de ce charbon de bois par les scientifiques, montrent que la quantité de ^{14}C mesurée en l'an 2000 n'est plus égale qu'à 8,0 % de la quantité du ^{14}C initialement présent dans l'échantillon.

Modèle CCYC : ©DNE
Nom de famille (naissance) :


(Suivi s'il y a lieu, du nom d'usage)

Prénom(s) :

N° candidat : **N° d'inscription** :

(Les numéros figurent sur la convocation.)

Né(e) le : / /



1.1

EXERCICE 2

La lumière cendrée de la Lune

Périodiquement la Lune nous présente un aspect des plus surprenants. En plus d'une partie fortement lumineuse correspondante à la phase lunaire, il est possible d'apercevoir l'autre partie de la Lune. La lumière qui nous parvient de cette partie plus sombre est appelée « lumière cendrée de la Lune » (voir la photographie).



1- Les observations de Galilée (document 1)

1-a- Pour les deux situations (notées Situation 1 et Situation 2) dessinées par Galilée sur la figure 1, représenter sur un schéma les positions de la Terre, de la Lune et du Soleil.

1-b- Dessiner ce que Galilée aurait observé dans les deux situations de la figure 1 si la surface de la Lune était parfaitement lisse.

1-c- Galilée a pu aisément comparer les observations qu'il a réalisées à différents moments de l'année parce que la Lune présente toujours la même face à la Terre.

Voici plusieurs propositions pour expliquer ce phénomène :

- (a) la Lune tourne sur elle-même avec la même période que celle de son mouvement de rotation autour du Soleil ;
- (b) la Lune tourne sur elle-même avec la même période que celle de son mouvement de rotation autour de la Terre ;
- (c) la Lune ne tourne pas sur elle-même tout en tournant autour de la Terre,
- (d) la Lune reste fixe dans le ciel pour un observateur terrestre.

Recopier sur votre copie la bonne explication ; justifier votre réponse en vous appuyant sur un schéma clair.



Document 1. Observations de Galilée

« Je veux noter aussi un fait que j'ai observé, non sans un certain émerveillement : presque au centre de la Lune se trouve une cavité plus grande que toute autre et parfaitement circulaire [...] : dans son obscurcissement et dans son illumination, elle présenterait le même aspect que celui de la Terre dans une région comparable à la Bohème, si cette région était de tous côtés entourés de hautes montagnes et disposée en cercle parfait. Dans la lune, en effet, la cavité est entourée de cimes si élevées que la région extrême, attenante à la partie ténébreuse, se voit illuminée par les rayons solaires, avant que la ligne de partage entre la lumière et l'ombre atteigne le diamètre de la figure elle-même [...] ».

Galilée, Sidereus Nuncius, trad. de E. Namer, Paris : Gauthier-Villars, p. 73 sq.

« Chacun peut se rendre compte avec la certitude des sens, que la Lune est dotée d'une surface non point lisse et polie, mais faite d'aspérités et de rugosités, et que tout comme la face de la Terre elle-même, elle est toute en gros renflements, gouffres profonds et courbures. »

Galilée, Sidereus Nuncius , trad. de E. Namer, Paris : Gauthier-Villars, 1964, p. 116

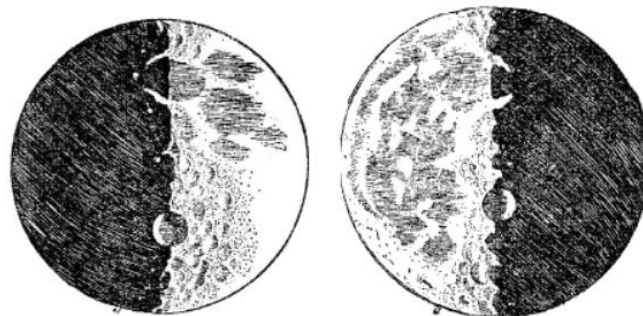


Figure 1 : dessins de la Lune extraits du livre "Sidereus nuncius" de Galilée.

Situation 1

Situation 2

D'après : <https://media4.obspm.fr>

2- Les observations de Léonard de Vinci

2-a- Schématiser, sans souci d'échelle, les positions relatives de la Lune, du Soleil et de la Terre dans la situation décrite par Léonard de Vinci dans le document 2.

Modèle CCYC : ©DNE

Nom de famille (naissance) :

(Suivi s'il y a lieu, du nom d'usage)

Prénom(s) :

N° candidat :

N° d'inscription :



Né(e) le :

(Les numéros figurent sur la convocation.)

1.1

2-b- À partir du document 2 et du schéma réalisé dans la question précédente, expliquer comment un individu, sur Terre, peut observer la lumière cendrée de la Lune.

2-c- Expliquer en quoi l'observation de la lumière cendrée montre que l'albedo de la Terre n'est pas nul.

Document 2. Observations de Léonard de Vinci

Il y a 500 ans de cela, Léonard de Vinci résolut une très ancienne énigme astronomique : l'origine de la lumière cendrée, cette douce lueur qui baigne la partie non éclairée de la Lune.

Peu de gens le savent, mais une des plus grandes manifestations du génie de Léonard de Vinci n'a rien à voir avec la peinture ou l'ingénierie. Il s'agit en fait d'astronomie : il a compris l'origine de la lumière cendrée.



On peut observer la lumière cendrée chaque nuit où la Lune est en croissant au-dessus de l'horizon, au coucher du soleil. Entre les pointes du croissant, vous devinez comme une image fantomatique de la Lune. C'est la lumière cendrée, le reflet sur la partie non éclairée de la Lune de la lumière renvoyée par la Terre.

Pendant des milliers d'années, les hommes se sont émerveillés devant cette splendeur sans en comprendre la cause. Et il fallut attendre le 16^e siècle pour que Léonard de Vinci la comprenne.

Aujourd'hui, la réponse nous paraît évidente. Quand le Soleil se couche sur la Lune, il se produit exactement la même chose que sur Terre : c'est la nuit. Mais pas une nuit noire... Même quand le Soleil est couché, il y a encore une source de lumière dans la nuit lunaire : la Terre bien sûr !

D'après https://www.cidehom.com/science_at_nasa.php?_a_id=224



3- Période favorable à l'observation de la lumière cendrée

3-a- À partir des données figurant sur le calendrier du document 3, calculer la durée moyenne, en jour, de l'intervalle de temps qui sépare deux pleines lunes successives.

3-b- En décrivant avec précision le raisonnement utilisé, déterminer une période de 10 jours a priori favorables à l'observation de la lumière cendrée pendant le mois de juin 2021.

Document 3. Calendrier du premier semestre 2021

Les disques noirs représentent les dates de nouvelle Lune et les disques blancs la pleine Lune. Ces dates ont été effacées pour le mois de juin.

Janvier	Février	Mars	Avril	Mai	Juin
1 V Jour de l'An	1 L Ella 05	1 L Aubin 09	1 J Hugues	1 S Fête du Travail	1 M Justin
2 S Basile	2 M Chandeleur	2 M Charles le B.	2 V Sandrine	2 D Boris	2 M Blandine
3 D Épiphanie	3 M Blaise	3 M Guénolé	3 S Richard	3 L Phil., Jacq. 18	3 J Kévin
4 L Odilon 01	4 J Véronique	4 J Casimir	4 D Pâques	4 M Sylvain	4 V Clotilde
5 M Edouard	5 V Agathe	5 V Olive	5 L Lundi de Pâques 14	5 M Judith	5 S Igor
6 M Balthazar	6 S Gaston	6 S Colette	6 M Marcellin	6 J Prudence	6 D Norbert
7 J Raymond	7 D Eugénie	7 D Félicité	7 M Jean-B. de la Salle	7 V Gisèle	7 L Gilbert 23
8 V Lucien	8 L Jacqueline 06	8 L Jean de Dieu 10	8 J Julie	8 S Victoire 1945	8 M Médard
9 S Alb	9 M Apolline	9 M Françoise	9 V Gautier	9 D Pacôme	9 M Diane
10 D Guillaume	10 M Arnaud	10 M Vivien	10 S Fulbert	10 L Solange 19	10 J Landry
11 L Paulin 02	11 J N.-D. Lourdes	11 J Rosine	11 D Stanislas	11 M Estelle	11 V Barnabé
12 M Tatiana	12 V Félix	12 V Justine	12 L Jules 15	12 M Achille	12 S Guy
13 M Yvette	13 S Béatrice	13 S Rodrigue	13 M Ida	13 J Ascension	13 D Antoine de P.
14 J Nina	14 D Valentin	14 D Mathilde	14 M Maxime	14 V Matthias	14 L Elisée 24
15 V Rémi	15 L Claude 07	15 L Louise 11	15 J Paternite	15 S Denise	15 M Germaine
16 S Marcel	16 M Mardi gras	16 M Bénédicte	16 V Benoît-Joseph	16 D Honoré	16 M Aurélien
17 D Roseline	17 M Alexis	17 M Patrice	17 S Anicet	17 L Pascal 20	17 J Hervé
18 L Prisca 03	18 J Bernadette	18 J Cyrille	18 D Parfait	18 M Éric	18 V Léonce
19 M Marius	19 V Gabin	19 V Joseph	19 L Emma 16	19 M Yves	19 S Romuald
20 M Sébastien	20 S Aimée	20 S Alessandra	20 M Odette	20 J Bernardin	20 D Fête des Pères
21 J Agnès	21 D P. Damien	21 D Clémence	21 M Anselme	21 V Constantin	21 L Rodolphe 25
22 V Vincent	22 L Isabelle 08	22 L Léa 12	22 J Alexandre	22 S Emile	22 M Alban
23 S Barnard	23 M Lazare	23 M Victorien	23 V Georges	23 D Pentecôte	23 M Audrey
24 D Fr. de Sales	24 M Modeste	24 M Cath. de Suède	24 S Fidèle	24 L Lundi de Pentecôte 21	24 J Jean-Baptiste
25 L Conv. S. Paul 04	25 J Roméo	25 J Humbert	25 D Marc	25 M Sophie	25 V Prosper
26 M Paule	26 V Nestor	26 V Larissa	26 L Alda 17	26 M Bérenger	26 S Anthelme
27 M Angèle	27 S Honorine	27 S Habô	27 M Zita	27 J Augustin	27 D Fernand
28 J Th. d'Aquin, Maureen	28 D Romain	28 D Rameaux	28 M Jour du Souv.	28 V Germain	28 L Irénée 26
29 V Gildas		29 L Gwladys 13	29 J Cath. de St.	29 S Aymar	29 M Pierre, Paul
30 S Martine		30 M Amédée	30 V Robert	30 D Fête des Mères	30 M Martial
31 D Marcelle		31 M Benjamin		31 L Visitation 22	

Source : <https://www.lecalendrier.fr/>

Modèle CCYC : ©DNE

Nom de famille (naissance) :

(Suivi s'il y a lieu, du nom d'usage)

Prénom(s) :

N° candidat :

N° d'inscription :



Né(e) le :

(Les numéros figurent sur la convocation.)

1.1

ANNEXE A RENDRE AVEC LA COPIE

EXERCICE 1

LA DATATION DE L'OCCUPATION D'UNE GROTTES PAR *HOMO SAPIENS*

QUESTION 3

