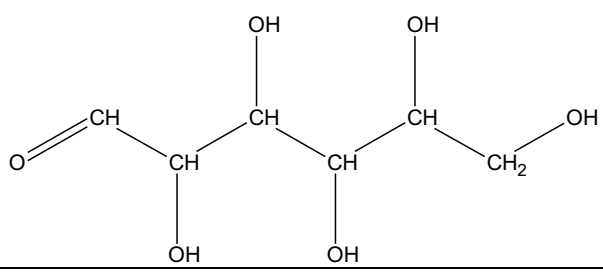




Exercice 1 : Diagnostic d'un diabète gestationnel (5 points)

La femme enceinte doit subir différents examens au cours de sa grossesse, elle doit notamment surveiller sa glycémie (taux de glucose dans le sang) et sa glycosurie (taux de glucose dans les urines).

Document 1 : Représentation de quelques molécules d'intérêt biologique

Glucose	
Acide oléique	$\text{CH}_3-(\text{CH}_2)_7-\text{CH}=\text{CH}-(\text{CH}_2)_7-\text{COOH}$
Acide palmitique	$\text{CH}_3-(\text{CH}_2)_{14}-\text{COOH}$

Document 2 : Glycosurie et grossesse

Habituellement, on ne trouve pas ou très peu de glucose dans les urines. On considère que le taux de glucose dans les urines est normal s'il se situe en dessous de $150 \text{ mg}\cdot\text{L}^{-1}$.

Si la glycosurie se situe au dessus des normes, cela peut notamment être le signe d'un diabète gestationnel chez la femme enceinte qui se confirmera par une hyperglycémie (glycémie supérieure à la normale).

Quelques modifications du régime alimentaire sont souvent suffisantes pour maintenir la glycémie à des taux acceptables, et pour que la mère et l'enfant se portent bien.

Par exemple, il faut surveiller les apports quotidiens en glucides (sucres contenus en particulier dans les sodas, les sirops, les bonbons, les confitures, les compotes) et manger moins d'aliments riches en acides gras saturés (crème, gras contenu dans les viandes grasses, les charcuteries, huile de palme, etc...).

L'alimentation doit bien sûr respecter les besoins nutritionnels de la femme enceinte et un suivi par un médecin nutritionniste ou un diététicien est recommandé.

En respectant ces recommandations, cela permet la diminution des malformations comme la macrosomie (enfant de poids trop élevé) et des complications périnatales (autour de la période d'accouchement).

d'après <https://www.passeportsante.net/>


Modèle CCYC : ©DNE

Nom de famille (naissance) : (S'inscrit s'il y a lieu, du nom d'usage)

Prénom(s) :

N° candidat : (Les numéros figurent sur la convocation.) N° d'inscription :

Né(e) le :



1.1

Document 3 : Extrait d'une analyse biochimique chez une femme enceinte au cours de son quatrième mois de grossesse		
BIOCHIMIE SANGUINE		
Glycémie à jeun	1,34 g·L ⁻¹	Valeurs de référence (0,70-1,10)
BIOCHIMIE URINAIRE		
Protéinurie	0,21 g·L ⁻¹	
Glycosurie	0,29 g·L ⁻¹	
	1,6 × 10 ⁻³ mol·L ⁻¹	

Données :

$$1 \text{ g} = 1 \times 10^3 \text{ mg}$$

$$\text{Masse molaire moléculaire du glucose} : M(\text{glucose}) = 180,0 \text{ g}\cdot\text{mol}^{-1}$$

Une solution aqueuse de glucose réagit avec la liqueur de Fehling de couleur bleue.

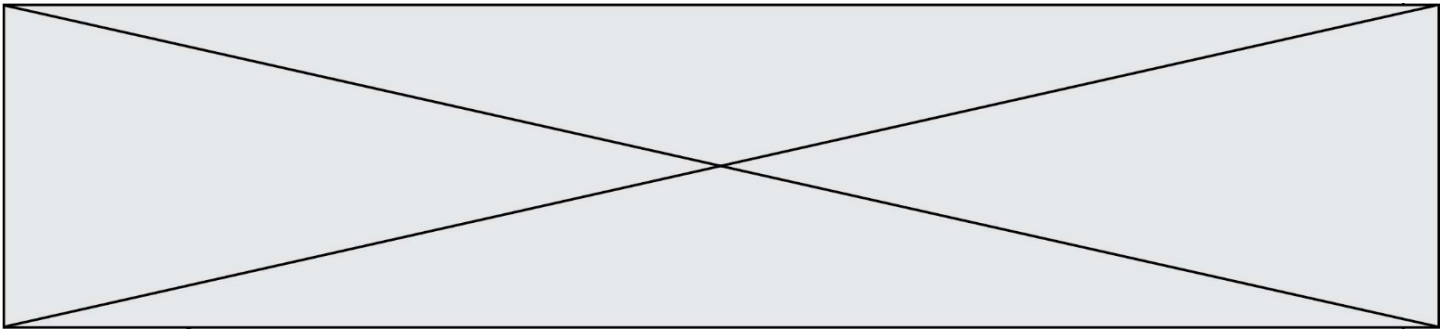
1. Recopier la formule semi-développée de la molécule de glucose représentée dans le **document 1**, encadrer et nommer la fonction responsable du résultat positif avec la liqueur de Fehling.
2. Schématiser l'expérience à réaliser pour mettre en évidence le glucose, préciser le résultat obtenu.

On présente dans le **document 2** quelques informations sur la glycosurie chez la femme enceinte et dans le **document 3** un extrait d'analyses effectuées par une femme enceinte au cours de son quatrième mois de grossesse.

3. Montrer, à l'aide du **document 2** que le taux de glucose dans les urines relevé dans le **document 3** n'est pas convenable.
4. Vérifier, par un calcul, la valeur de la glycosurie donnée en mol·L⁻¹ dans le **document 3**.
5. Montrer, à l'aide des **documents 2 et 3**, que la patiente souffre d'un diabète gestationnel.

Suite aux résultats de l'analyse, la jeune femme consulte un médecin nutritionniste. Celui-ci lui explique, que, synthétisée à partir d'acide oléique, l'oléine est le triglycéride majoritairement présent dans l'huile d'olive et que, synthétisée à partir d'acide palmitique, la palmitine est le triglycéride majoritairement présent dans le beurre.

6. Donner la définition d'un triglycéride.
7. Lequel des deux acides présentés dans le document 1 est saturé ? Justifier votre réponse.



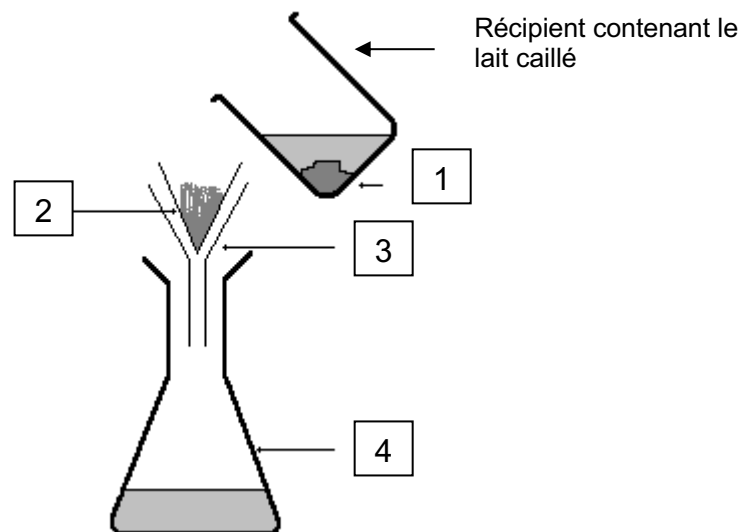
8. En déduire si le médecin va recommander à la femme enceinte de privilégier la cuisine au beurre ou la cuisine à l'huile d'olive. Expliciter la réponse.

Exercice 2 : Le lait de soja, une alternative au lait de vache (5 points)

Le lait de soja est une boisson végétale produite à base de graines de soja et d'eau. Son aspect et sa texture sont proches de celle d'un lait d'origine animale. Il est utilisé comme substitut du lait de vache dans certains régimes alimentaires. Il est notamment très apprécié des végétariens et des végétaliens, comme source de protéines.

Afin de valider la substitution du lait de vache par le lait de soja dans un régime alimentaire, on réalise une étude comparative de la composition d'un lait de vache entier et d'un lait de soja. Pour cela, on effectue quelques tests de reconnaissance d'espèces chimiques sur ces deux laits.

Document 1 : Séparation du caillé et du petit lait



Modèle CCYC : ©DNE

Nom de famille (naissance) :

(Suivi s'il y a lieu, du nom d'usage)

Prénom(s) :

N° candidat :

N° d'inscription :



Né(e) le :

(Les numéros figurent sur la convocation.)

1.1

Document 2 : Résultats des tests de reconnaissance de quelques espèces chimiques dans le lait de vache et le lait de soja

Espèce chimique	Lactose*	Protéines	Lipides	Ions calcium* Ca ²⁺
Réactif	Liquueur de Fehling (solution bleue)	Test du Biuret : sulfate de cuivre (solution bleue) + soude	Rouge Soudan	Oxalate d'ammonium (solution incolore)
Résultat avec le lait de vache	Test positif	Test positif	Test positif	Test positif
Résultat avec le lait de soja	Test négatif	Test positif	Test positif	Test négatif

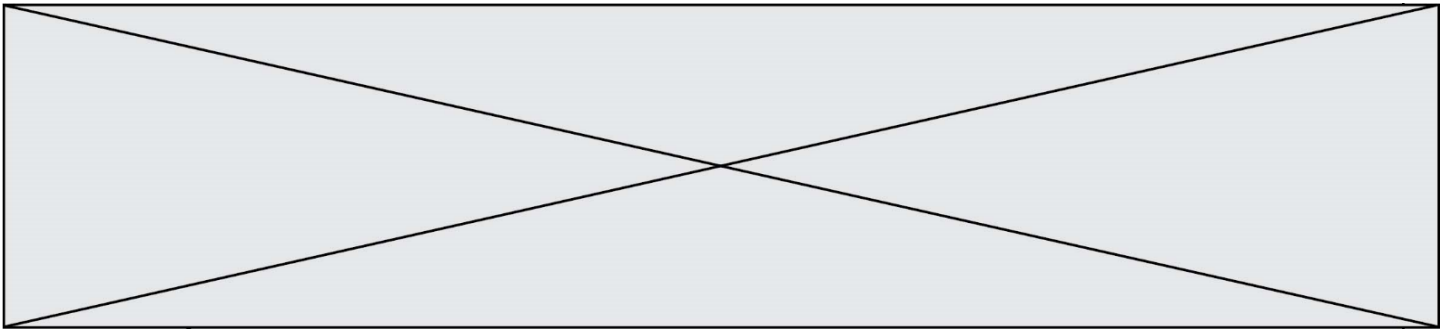
* Les tests de reconnaissance du lactose et des ions calcium sont effectués sur le petit lait, solution aqueuse de couleur jaunâtre.

Document 3 : Informations extraites d'étiquettes concernant deux laits différents

Etiquette 1		Etiquette 2	
Valeurs nutritionnelles moyennes (pour 100 mL)		Valeurs nutritionnelles moyennes (pour 100 mL)	
Energie	269 kJ (64 kcal)	Energie	155 kJ (37 kcal)
Protides	3,2 g	Protides	3,7 g
Glucides	4,8 g	Glucides	0,4 g
Lactose	4,5 g – 5 g	Lactose	0
Lipides	3,6 g	Lipides	2,2 g
Calcium	120 mg	Calcium	0
Fer	0,028 mg	Fer	0,72 mg

Après avoir fait cailler le lait, on sépare le caillé du petit lait selon une technique schématisée dans le **document 1**.

- Nommer la technique utilisée et préciser le nom de chacun des quatre éléments numérotés indiqués sur le schéma du **document 1**, en portant à côté de chaque nom le numéro correspondant.
- Expliquer pourquoi le test des ions calcium doit être effectué sur le petit lait et non sur le lait.
- À l'aide **du document 2**, indiquer à quelle étiquette correspond le lait de soja. Justifier soigneusement la réponse grâce à deux arguments au moins.



4. À l'aide d'informations extraites des étiquettes de deux laits différents, donner les arguments permettant de comprendre pourquoi le lait auquel correspond l'étiquette n°1 est plus énergétique.

5. Les apports journaliers de fer recommandés pour l'homme adulte correspondent à une masse de fer de 10 mg. Calculer le volume de lait de soja nécessaire pour couvrir ce besoin.

Le lactose est un glucide naturellement présent dans un lait d'origine animale. Lorsqu'il est consommé, le lactose $C_{12}H_{22}O_{11}$ réagit avec l'eau pour donner du glucose et du galactose, deux oses assimilés par l'organisme et de même formule brute $C_6H_{12}O_6$. Cette transformation n'est possible qu'en présence d'une quantité suffisante de lactase, enzyme présente dans les intestins. Si le lactose circule dans l'intestin sans être digéré, il engendre des symptômes comme une sensation de gonflement, des maux de ventre, des nausées et de la diarrhée.

6. Écrire l'équation de la réaction du lactose avec l'eau et nommer ce type de réaction.

7. Indiquer la raison pour laquelle certaines personnes digèrent mal le lactose.

8. Expliquer pourquoi le lait de soja peut constituer une alternative au lait de vache pour ces personnes.

Exercice 3 : Perfusion (5 points)

Un patient hospitalisé est examiné par un médecin qui prescrit un bilan sanguin. En attendant les résultats de l'analyse sanguine, une perfusion d'une solution de chlorure de sodium à 0,9 g pour 100 mL est mise en place. Le dispositif est schématisé sur le **document 1** ; il comporte une chambre compte-gouttes avec prise d'air.

Modèle CCYC : ©DNE

Nom de famille (naissance) :

(Suivi s'il y a lieu, du nom d'usage)

Prénom(s) :

N° candidat :

N° d'inscription :



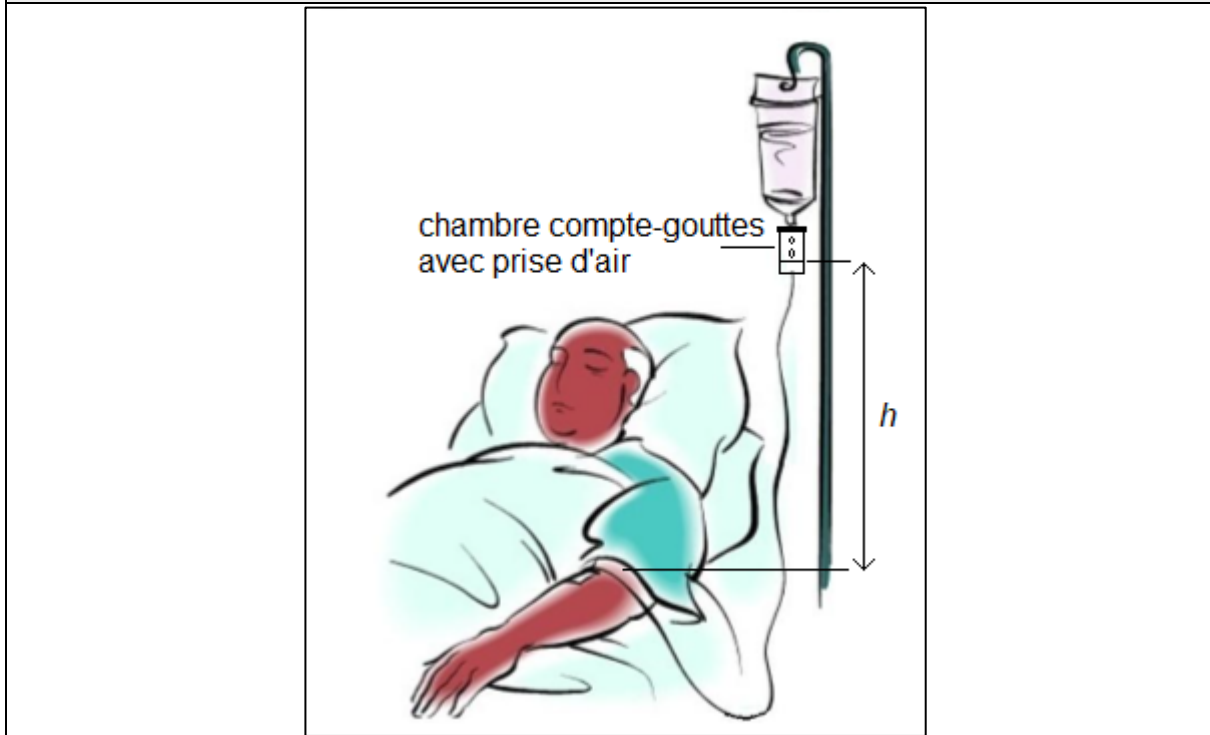
Liberté • Égalité • Fraternité
RÉPUBLIQUE FRANÇAISE

Né(e) le :

(Les numéros figurent sur la convocation.)

1.1

Document 1 : schéma de positionnement de la chambre compte-gouttes



La solution perfusée est décrite dans le **document 2**. Le **document 3** est un graphe montrant l'évolution de la masse volumique d'une solution de chlorure de sodium en fonction de sa concentration massique.

Document 2 : extrait de la notice de la solution perfusée

Substance active : chlorure de sodium 0,9 g pour 100 mL de solution pour perfusion.

Une ampoule de 10 mL contient 0,09 g de chlorure de sodium.

Un flacon de 500 mL contient 4,5 g de chlorure de sodium.

Un flacon de 1000 mL contient 9 g de chlorure de sodium.

Sodium (Na^+) : 154 mmol/L, soit 0,154 mmol/mL

Chlorure (Cl^-) : 154 mmol/L, soit 0,154 mmol/mL

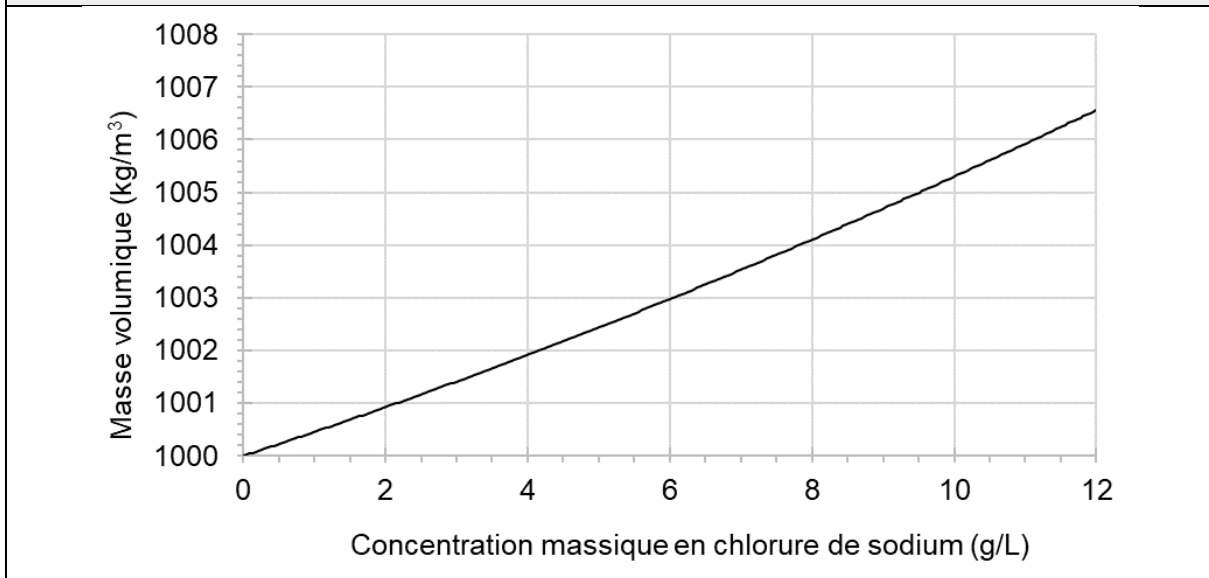
Osmolarité : 308 mOsm/L

pH compris entre 4,5 et 7

L'autre composant est : l'eau pour préparations injectables.



Document 3 : masse volumique d'une solution de chlorure de sodium en fonction de la concentration massique



Données :

- Pression atmosphérique : $p_{atm} = 1,013 \times 10^5 \text{ Pa} = 76,0 \text{ cm Hg}$
- Loi fondamentale de la statique des fluides : $p_2 - p_1 = \rho \times g \times h$
- Intensité de la pesanteur : $g = 9,81 \text{ N} \cdot \text{kg}^{-1}$

Lors de l'examen, le médecin mesure la tension artérielle du patient. En centimètre de mercure (cm Hg), elle s'exprime par deux valeurs : 10 ; 6.


1. Donner la définition de la tension artérielle.

2. Nommer les deux grandeurs représentées par les valeurs 10 et 6.

La perfusion est réalisée de telle manière que le niveau de la surface libre du liquide dans la chambre compte-gouttes soit placé à la hauteur h égale à 70 cm par rapport au niveau de l'aiguille entrant dans la veine du patient, ainsi que le montre le **document 1**.

3. Expliquer pourquoi la pression dans la chambre compte-gouttes est égale à la pression atmosphérique.

4. Dans l'expression de la loi fondamentale de la statique des fluides, fournie dans les données, indiquer ce que représentent $p_2 - p_1$ et ρ , ainsi que les unités internationales à employer.

Modèle CCYC : ©DNE																				
Nom de famille (naissance) : <small>(Suivi s'il y a lieu, du nom d'usage)</small>																				
Prénom(s) :																				
N° candidat :									N° d'inscription :											
 <small>Liberté • Égalité • Fraternité</small> RÉPUBLIQUE FRANÇAISE	<small>(Les numéros figurent sur la convocation.)</small>																			
Né(e) le :			/			/														

1.1

5. En utilisant les données fournies dans les **documents 2 et 3** et en expliquant chaque étape de la résolution, calculer la valeur de la pression de la solution perfusée au niveau du bras du patient.

6. Comparer cette valeur avec la pression du sang dans la veine du patient égale à $1,04 \times 10^5$ Pa. Proposer un commentaire.

Exercice 4 : Observation d'une chenille à travers une lentille (5 points)

MATERIEL ELEVE NECESSAIRE : règle graduée, crayon de bois, gomme et calculatrice

Une chenille, matérialisée par un objet AB est observée à travers une lentille convergente, ainsi que le représente le **schéma 1** de l'**annexe à rendre avec la copie**. Le rayon issu de B, parallèle à l'axe optique, a été tracé.

1. Mesurer, en mm, la distance focale de la lentille symbolisée sur le schéma 1 de l'**annexe à rendre avec la copie**.

2. Sur le **schéma 1** de l'**annexe à rendre avec la copie**, tracer le rayon issu de B passant par le centre optique de la lentille.

3. Sur le **schéma 1** de l'**annexe à rendre avec la copie**, tracer l'image A'B' de la chenille qui sera symbolisée par une flèche.

4. Choisir la bonne proposition qui caractérise l'image A'B' parmi les suivantes et expliquer le choix du mot « réelle » ou du mot « virtuelle » dans la bonne proposition. Cette image A'B' est :

- virtuelle, droite
- virtuelle, renversée
- réelle, renversée
- réelle, droit

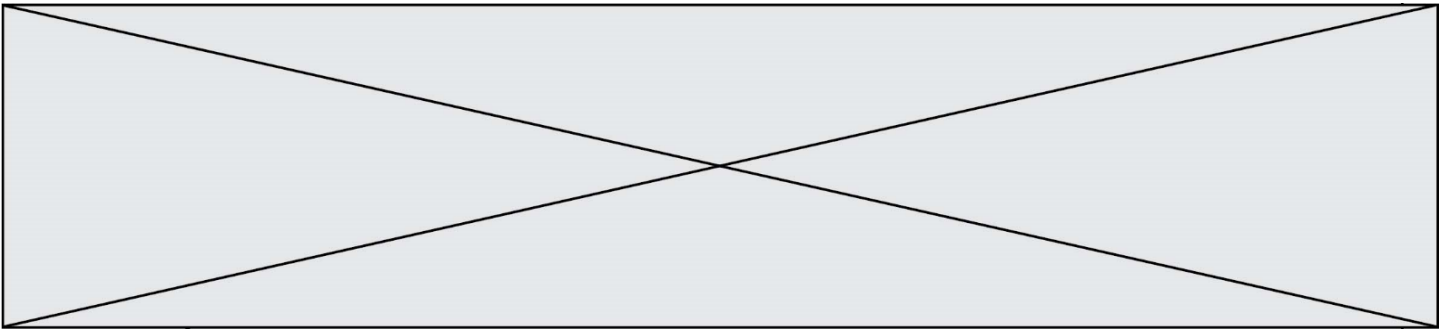
5. Définir et évaluer le grandissement γ à partir de la construction réalisée sur le **schéma 1** de l'**annexe à rendre avec la copie**.

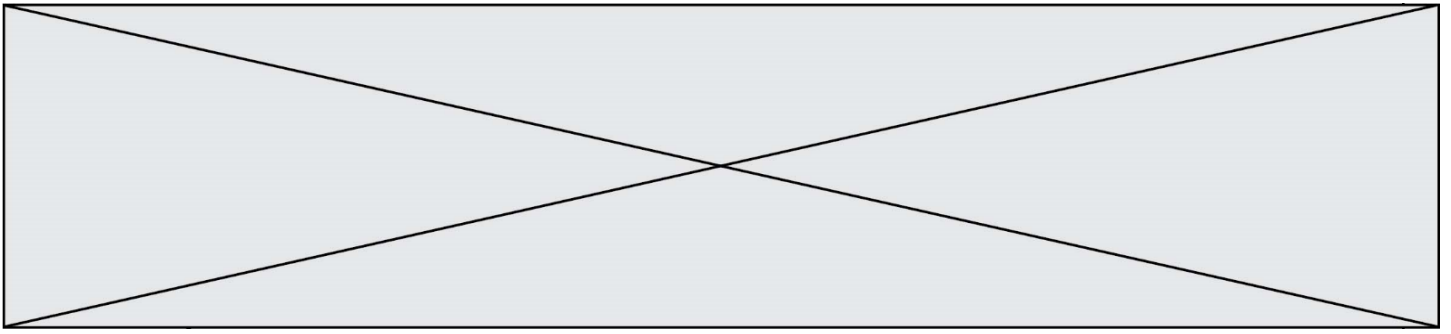
6. En déduire une utilisation pratique de cette lentille dans cette configuration.

7. On rapproche la lentille de la chenille, ainsi que le montre le **schéma 2** de l'**annexe à rendre avec la copie**.

a. Sur ce **schéma 2**, construire la nouvelle image de la chenille, notée A''B''.

b. Déduire de cette construction l'effet de ce rapprochement sur la taille de l'image.





Exercice 4 (schéma 2) : annexe à rendre avec la copie

