



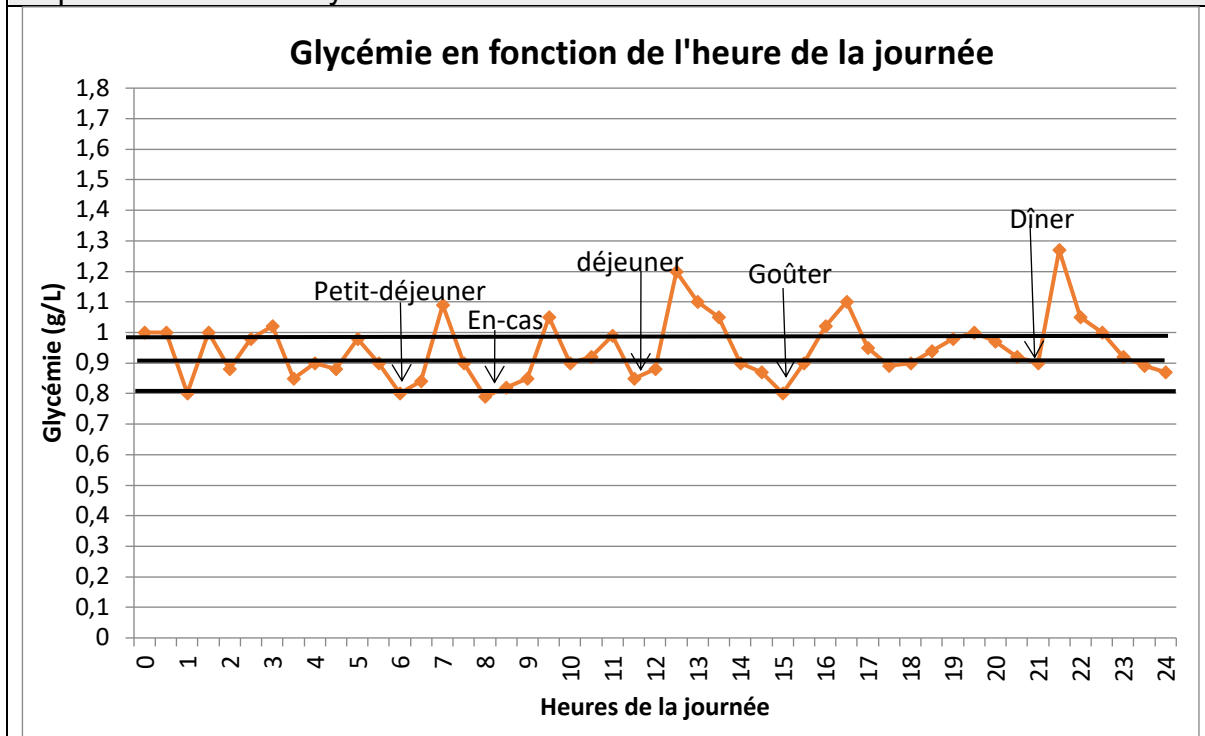
Exercice 1 : Glycémie et stockage du glucose dans l'organisme (5 points)

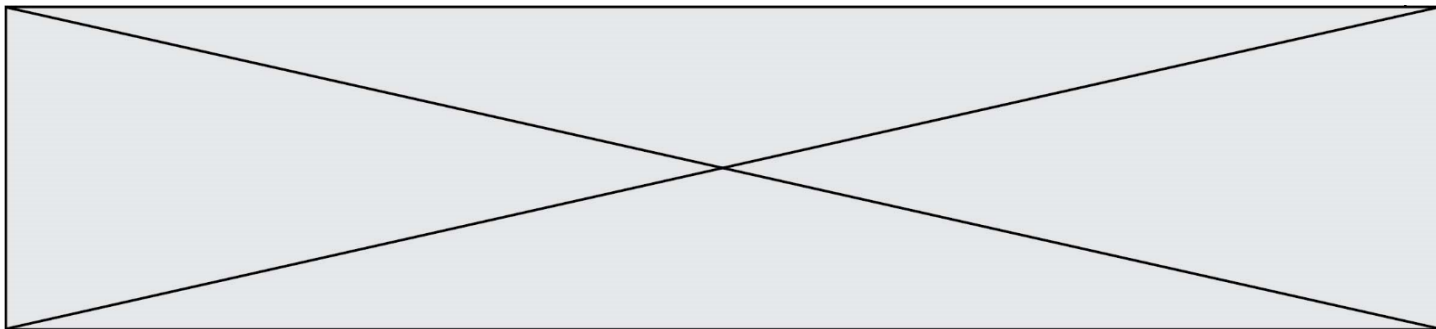
Le glycogène est un polymère du glucose. Il est utilisé pour le stockage dans l'organisme (essentiellement dans les muscles squelettiques et le foie) des glucides apportés par l'alimentation. La quantité de sucre dans le sang peut être mesurée lors d'un examen de biologie médicale : elle est exprimée par la concentration en glucose dans le sang appelée glycémie. L'alimentation, l'activité physique, les émotions fortes peuvent faire varier la glycémie.

Document 1 : Extrait des résultats du bilan sanguin de madame X

LABORATOIRE D'ANALYSES DE BIOLOGIE MEDICALE		
Docteur P : Pharmacien biologiste		
		Madame X
BIOCHIMIE DU SANG		
Glycémie	0.75 g/L	N: 0.70 – 1.10
	4.16 mmol/L	

Document 2 : Glycémie en fonction de l'heure de la journée, d'après <https://www4.ac-nancy-metz.fr>





Exercice 2 : Bon usage d'antiseptiques (5 points)

Un patient a une plaie à laver pour éviter une infection. Compte-tenu d'une allergie de ce patient, le médecin lui a spécifié qu'il ne devait pas utiliser du Dakin[®] et il lui a prescrit de la Bétadine[®] 10 %. Le **document 1** et le **document 2** sont des extraits des notices de ces deux antiseptiques.

Données :

Couple oxydant/réducteur	Demi-équation d'oxydoréduction
Diode / ion iodure : $I_{2(aq)} / I^-_{(aq)}$	$I_{2(aq)} + 2 e^- = 2 I^-_{(aq)}$
Ion hypochlorite / dichlore : $ClO^-_{(aq)} / Cl_{2(g)}$	$2 ClO^-_{(aq)} + 4 H^+_{(aq)} + 2 e^- = Cl_{2(g)} + 2 H_2O_{(l)}$
Ion tétrathionate / ion thiosulfate : $S_4O_6^{2-} / S_2O_3^{2-}$	$S_4O_6^{2-}{}_{(aq)} + 2 e^- = 2 S_2O_3^{2-}{}_{(aq)}$

Document 1 : extrait de la notice d'une solution antiseptique Bétadine[®] 10 %
(d'après base-donnees-publique.medicaments.gouv.fr)

Composition : Ce médicament est un antiseptique dont le principe actif (la povidone iodée) libère du diode I_2 .

Indications :

Antisepsie des plaies ou brûlures superficielles et peu étendues. Traitement local d'appoint des affections de la peau et des muqueuses infectées ou risquant de s'infecter. Antisepsie de la peau du champ opératoire.

Mode d'administration et posologie : Voie cutanée.

À utiliser pure ou diluée.

Utilisation pure : en badigeonnage sur la peau.

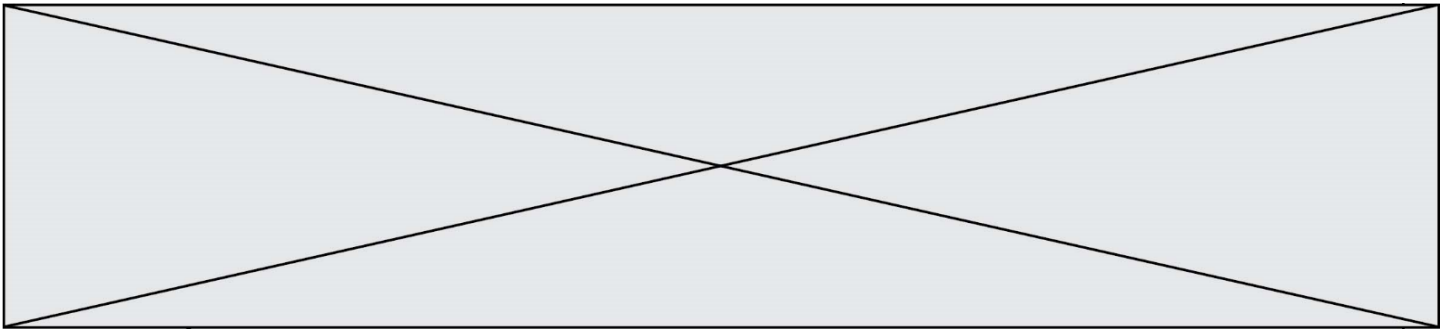
Utilisation diluée :

- lavage des plaies : diluer au 1/10^{ème} avec de l'eau.

- irrigations des plaies : diluer à 2 % dans du sérum physiologique stérile.

Contre-indication : allergie au diode.

Incompatibilités : L'association iode/mercuriels est à proscrire, risque de composés caustiques. Chaleur, lumière et pH alcalin (instabilité).



5. Expliquer en quoi le thiosulfate de sodium peut être considéré comme un antidote de la Bétadine®.

6. À l'aide de l'équation établie à la question 4, déterminer le volume de solution de thiosulfate de sodium à $5,0 \times 10^{-2} \text{ mol} \cdot \text{L}^{-1}$ nécessaire pour inactiver $2,0 \times 10^{-3} \text{ mol}$ de diiode.

Exercice 3 : les risques encourus par l'usage d'un appareil électrique défectueux (5 points)

L'électricien des services techniques de l'hôpital est en intervention dans une pièce du sous-sol. Afin d'éclairer les lieux, il tient dans une main une baladeuse c'est-à-dire une lampe électrique portative puis il saisit avec l'autre main la porte d'un autoclave dédié à la stérilisation du matériel médical. Dès qu'il touche cette porte, il est très rapidement projeté en arrière et perd connaissance. Le disjoncteur coupe alors le circuit électrique au bout de 200 ms.

Un médecin réanime la victime après avoir débranché la baladeuse et écarté la main crispée de l'électricien de cette dernière. L'enquête permet d'établir que cette lampe baladeuse n'est pas conforme aux normes électriques NF C15-100. L'isolation des conducteurs d'alimentation de cette dernière est détériorée au niveau de leur entrée dans le manche de la lampe.

L'objectif de cet exercice est de comprendre les constatations du médecin ayant secouru l'électricien.

Modèle CCYC : ©DNE

Nom de famille (naissance) :

(Suivi s'il y a lieu, du nom d'usage)

Prénom(s) :

N° candidat :

N° d'inscription :



Né(e) le :

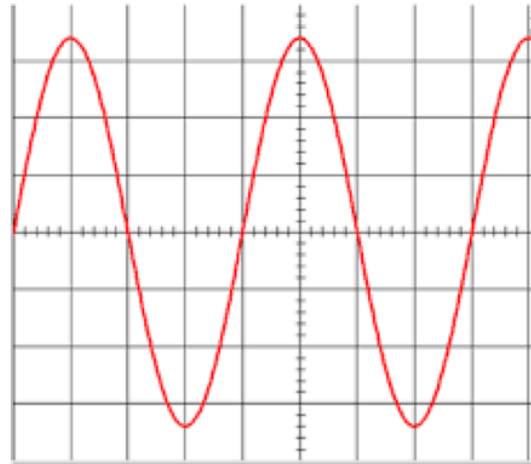
(Les numéros figurent sur la convocation.)

1.1

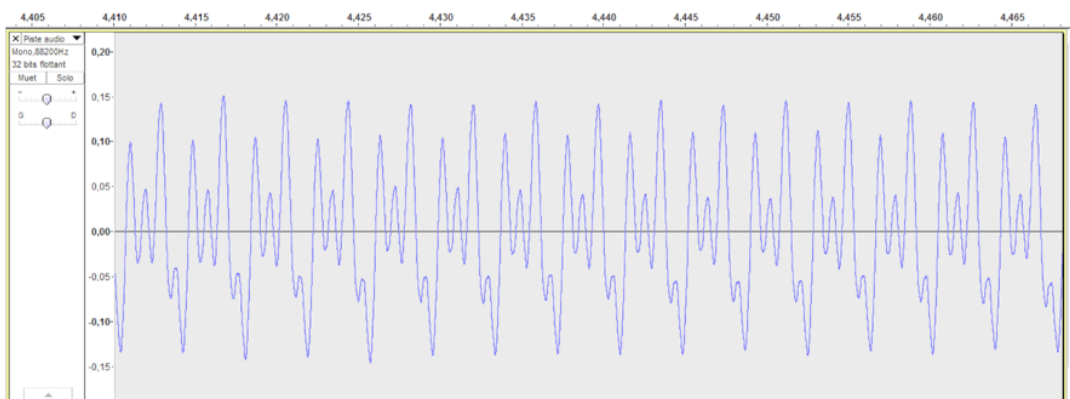
Document 1 : Enregistrements de signaux de la vie quotidienne



1 : Enregistrement d'un électrocardiogramme



2 : Oscillogramme d'un signal inconnu



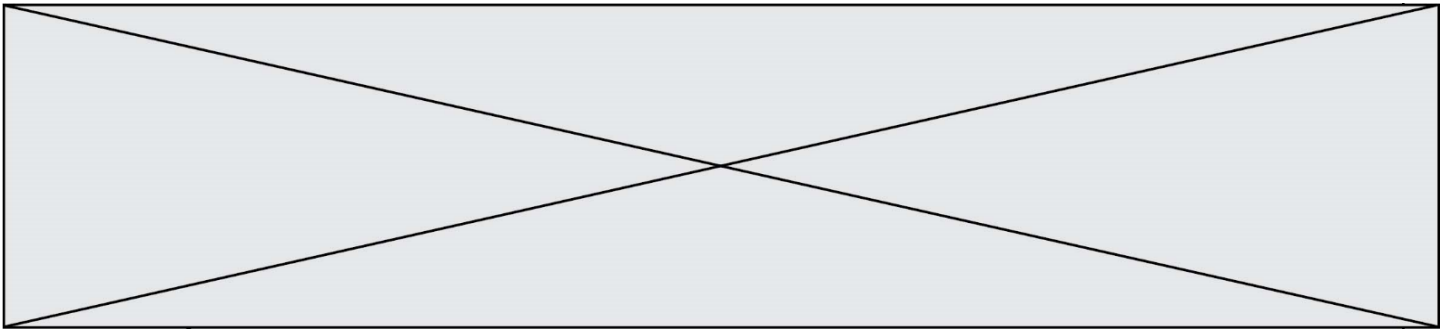
3 : Enregistrement de la note Do3 d'un orgue

Réglages réalisés sur l'oscilloscope de la figure 2 :

- sensibilité verticale : 100 V / div
- base de temps : 5 ms / div

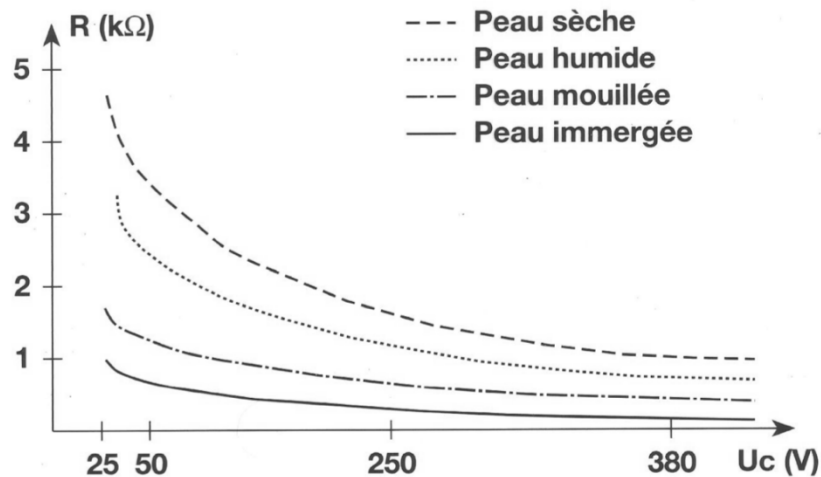
Document 2 : La résistance du corps humain en fonction de la tension de contact U_c et de l'état de la peau (d'après <http://www.ac-poitiers.fr>)

Le corps humain, est conducteur du courant électrique. Si une personne est soumise à une tension électrique, par exemple entre sa main droite et sa main gauche, ou entre sa main et le sol, un courant électrique va traverser son corps. La résistance électrique du corps humain varie et dépend de plusieurs paramètres : type de courant, intensité du courant, durée du passage du courant, état de la peau (sèche, humide, mouillée), nature du sol, capacité d'isolation des chaussures portées, etc. On peut considérer que la résistance moyenne du corps humain est de l'ordre de 2 k Ω . Le graphique suivant indique les variations de la résistance du



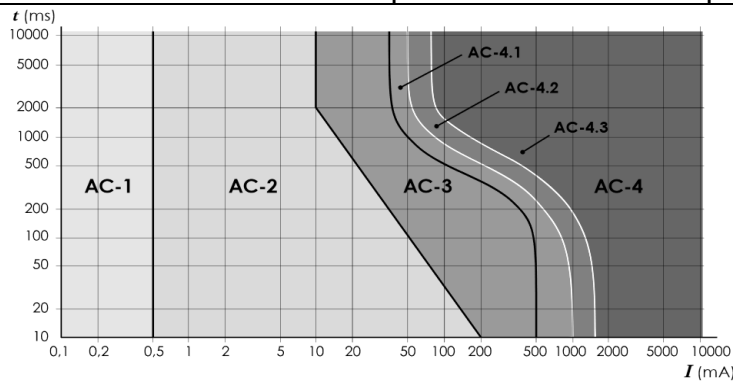
corps humain en fonction de la tension de contact et de l'état de la peau.

RÉSISTANCE DU CORPS HUMAIN



Document 3 : Effets physiologiques du courant sur le corps humain

Les données ci-dessous explicitent les effets physiologiques du courant alternatif en fonction de l'intensité du courant électrique et de la durée d'exposition



Zone	Principaux effets physiologiques constatés
AC-1	Aucune réaction
AC-2	Sensations désagréables mais pas d'effets physiologiques dangereux
AC-3	Tétanisation musculaire avec risque de paralysie respiratoire mais sans fibrillation ventriculaire
AC-4	Fibrillation ventriculaire, possibilités d'arrêt respiratoire, d'arrêt cardiaque, de brûlures graves, etc

Modèle CCYC : ©DNE

Nom de famille (naissance) :

(Suivi s'il y a lieu, du nom d'usage)

Prénom(s) :

N° candidat :

N° d'inscription :



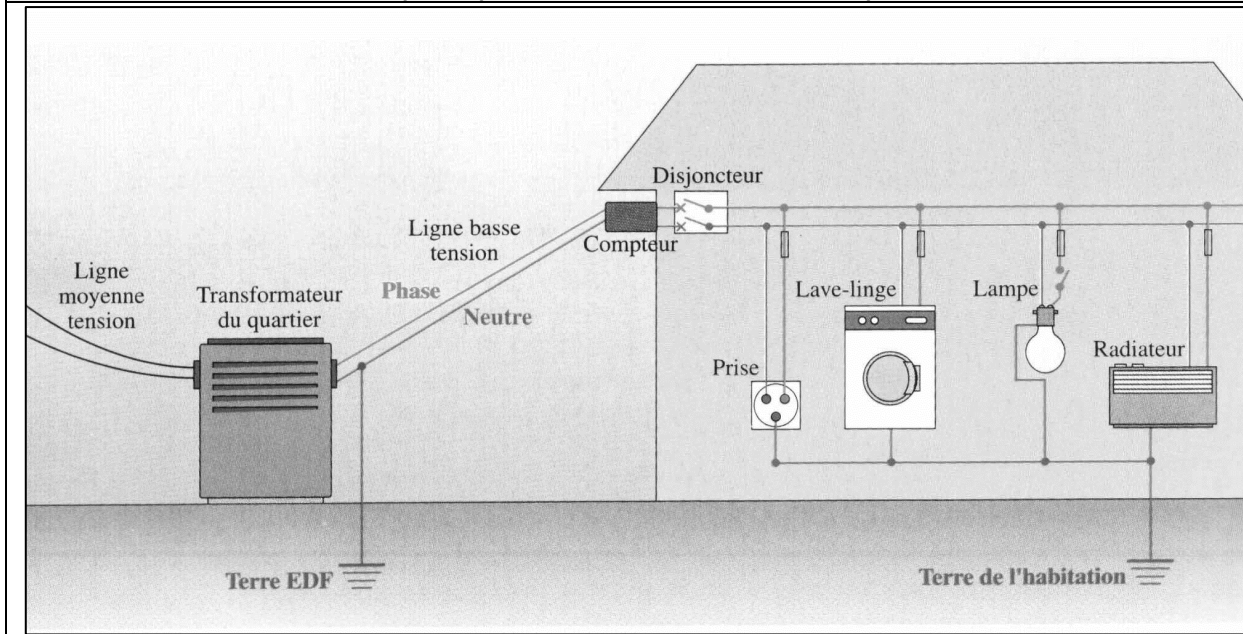
Liberté • Égalité • Fraternité
RÉPUBLIQUE FRANÇAISE

Né(e) le :

(Les numéros figurent sur la convocation.)

1.1

Document 4 : Schéma de principe d'une installation électrique



Donnée :

Loi d'Ohm reliant la tension U exprimée en volt (V) aux bornes d'un dipôle, l'intensité I exprimée en ampère (A) du courant qui le traverse et la résistance R exprimée en ohm (Ω) du dipôle étudié : $U = R \times I$.

1. Citer une propriété commune aux trois signaux représentés sur le **document 1**, relativement à l'allure de ces signaux.
2. Expliciter les calculs de la fréquence et de la tension efficace du signal inconnu à partir de son oscillogramme figurant dans le **document 1**, et conclure qu'il peut s'agir de l'oscillogramme de la tension du secteur.

Le risque électrique est lié à la résistance du corps humain qui peut varier en fonction de l'individu et de l'état de la peau. Lors de son accident, l'électricien se trouvait dans un local parfaitement sec et sa peau était sèche lorsqu'il est entré en contact avec la phase du secteur.

3. Évaluer, en exploitant le **document 2**, la valeur approchée de l'intensité du courant (exprimée en milliampère) ayant traversé le corps de l'électricien.
4. À l'aide de l'étude précédente et du **document 3**, déduire la nature des constatations effectuées par le médecin lors de l'accident de l'électricien.
5. Citer deux règles de sécurité, dans la vie quotidienne à la maison, à respecter afin d'éviter les risques d'électrisation.

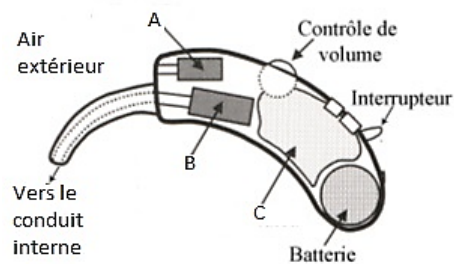


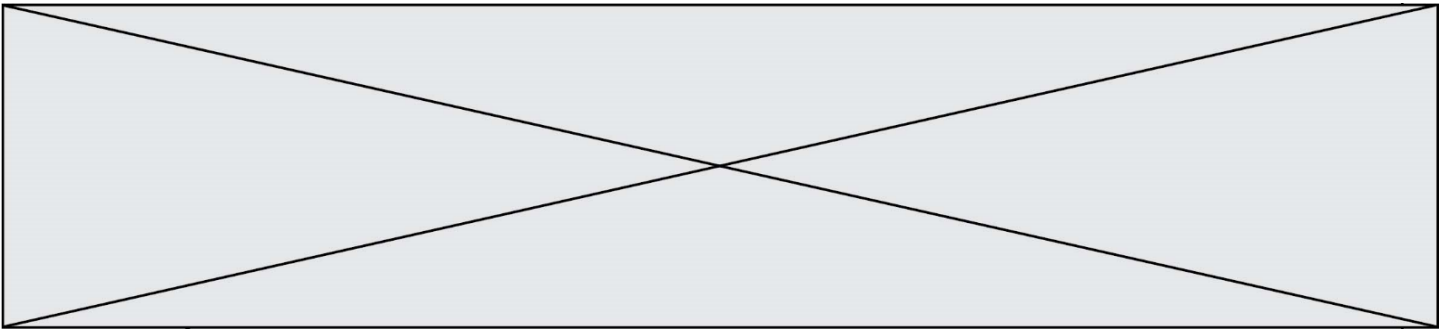
6. Identifier, sur le schéma de l'installation électrique figurée sur le **document 4**, les éléments utilisés afin de protéger les usagers du réseau électrique.

Exercice 4 : L'appareillage auditif (5 points)

À la fois puissantes et discrètes, les prothèses auditives sont aujourd'hui efficaces et faciles d'utilisation. Elles ont évolué au même rythme que les avancées technologiques. De l'appareil d'entrée de gamme à des modèles plus sophistiqués, les prothèses auditives actuelles ont une excellente qualité de restitution sonore.

Document 1 : Schéma simplifié d'une prothèse auditive





4. Indiquer le nom de l'unité dont le symbole est dB.
5. Calculer la période temporelle d'un son dont la fréquence est égale à 440Hz.
6. Déterminer graphiquement, en expliquant la démarche, le gain de la prothèse pour le son dont la fréquence est égale à 440 Hz.
7. Déterminer graphiquement, en expliquant la démarche, la fréquence pour laquelle la prothèse auditive est la plus efficace.