

### Exercice 1 : Traitement des eaux d'une savonnerie (5 points)

L'un des enjeux primordiaux du développement durable est la préservation des ressources en eau de la planète. L'objectif de cet exercice est de mieux comprendre comment sont traitées les eaux usagées de certaines industries avant leur rejet dans le milieu naturel.

#### Document 1 : Les étapes de fabrication d'un savon

La fabrication du savon de Marseille repose sur un procédé comportant de multiples étapes. Dans un premier temps, il s'agit de transformer des huiles végétales en savon sous l'action à chaud de la soude concentrée dont la valeur du pH est comprise entre 12 et 13. La pâte de savon obtenue est ensuite lavée plusieurs fois à l'eau salée afin d'éliminer la soude en excès. Le savon doit alors cuire pendant dix jours à une température de 120 °C. À l'issue de cette étape, plusieurs lavages à l'eau pure permettent d'obtenir un savon débarrassé de toutes les impuretés. La pâte de savon est alors coulée dans des moules, puis mise à sécher pendant 48 h à l'air libre avant d'être découpée en savonnettes de tailles variées.

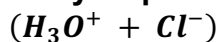
#### Document 2 : Les dangers des solutions aqueuses basiques

Les dangers des solutions aqueuses acides sont bien connus, les substances basiques peuvent être tout aussi corrosives et, si elles ne sont pas traitées, peuvent endommager la faune, la flore et l'écosystème environnants. Les normes de rejets dans les eaux contrôlées, tels que les cours d'eau de surface et les eaux souterraines, exigent un pH compris entre 5,5 et 8,5.

#### Document 3 : Carte d'identité de l'acide chlorhydrique

(source <http://www.inrs.fr>)

##### Acide chlorhydrique concentré



H331 – Toxique par inhalation

H314 – Provoque des brûlures de la peau et des lésions oculaires graves

Les conseils de prudence P sont sélectionnés selon les critères de l'annexe 1 du règlement CE n° 1272/2008.

231-595-7

Modèle CCYC : ©DNE

Nom de famille (naissance) :


(Suivi s'il y a lieu, du nom d'usage)

Prénom(s) :

N° candidat :  N° d'inscription :

(Les numéros figurent sur la convocation.)

Né(e) le :  /  /



RÉPUBLIQUE FRANÇAISE

1.1

**Document 4 : informations sur le dioxyde de carbone**

Dioxyde de carbone ou gaz carbonique  
 Formule brute :  $CO_2$   
 Masse molaire :  $44 \text{ g.mol}^{-1}$   
 Température de sublimation :  $-78,5 \text{ }^\circ\text{C}$   
 à la pression atmosphérique

Le principe de la valorisation du dioxyde de carbone consiste à le considérer comme une matière première, que l'on capte à la sortie des fumées industrielles et que l'on exploite pour réaliser un certain nombre de produits ou d'opérations commercialement rentables. La neutralisation au gaz carbonique provenant des gaz de fumée est un procédé écologique et peu onéreux.

**Données utiles :**

- $1 \text{ m}^3 = 1000 \text{ L}$
- Volume moyen : baignoire,  $V_b = 0,4 \text{ m}^3$  ; piscine olympique,  $V_p = 2500 \text{ m}^3$

1. Préciser, d'après le **document 1**, le caractère des eaux de lavage d'une savonnerie. Citer une méthode rapide permettant de le vérifier expérimentalement.

2. Expliquer, à l'aide du **document 2**, pourquoi il est nécessaire de traiter ces eaux avant leur rejet dans le milieu naturel.

La dilution est l'une des méthodes de traitement des eaux alcalines.

3. Sachant que la valeur de la concentration des ions hydroxyde dans certaines eaux usées dont le pH vaut 13 est égale à  $1,0 \times 10^{-1} \text{ mol.L}^{-1}$ , calculer la valeur de la quantité de matière en ions hydroxyde,  $n_{\text{hydroxyde}}$ , présente dans un volume égal à un litre d'une telle eau usée.

4. On rappelle qu'une solution aqueuse est neutre si son pH vaut 7. On admet que l'intervalle de pH entre 6 et 8 est acceptable pour une neutralité approchée, sans danger. En admettant que le pH diminue de 1 unité de pH, dans l'intervalle compris entre 8 et 14, lorsqu'il y a dilution d'un facteur 10 d'une eau usée chargée en ions hydroxyde, prévoir le volume minimal d'eau à ajouter à un volume d'eau usée de 1L pour amener son pH de 13 à 8.

5. Commenter ce résultat en le comparant aux ordres de grandeurs fournis dans les données et expliquer pourquoi cette méthode n'est pas utilisée dans l'industrie.

Une autre méthode pour traiter les eaux usées consiste à les neutraliser par ajout de dioxyde de carbone ou par ajout d'acide minéraux tel que l'acide chlorhydrique. Les couples acide/base mis en jeu dans la réaction de neutralisation de l'eau de lavage par la solution d'acide chlorhydrique sont  $H_3O^+/H_2O$  et  $H_2O/HO^-$ .



6. Écrire l'équation acido-basique ajustée de la réaction de neutralisation de l'eau de lavage.

7. En s'appuyant sur les **documents 3 à 4**, expliquer pourquoi les industriels préfèrent neutraliser les eaux usagées à l'aide de dioxyde de carbone plutôt qu'à l'aide d'acide chlorhydrique.

### Exercice 2 : Glycémie et diabète (5 points)

Afin de vérifier si monsieur D. souffre de diabète, son médecin lui prescrit une analyse de sang pour vérifier sa glycémie à jeun. Le diabète est une pathologie au cours de laquelle la glycémie est supérieure à la valeur normale, de manière permanente. La glycémie est la concentration sanguine en glucose. Les valeurs normales de glycémie à jeun sont comprises entre 0,70 et 1,10 g·L<sup>-1</sup>.

Le glucose libre est rare dans notre alimentation ; il est obtenu grâce à une réaction d'hydrolyse, sous l'action d'enzymes, dans le tube digestif. Ainsi, le saccharose, de formule brute C<sub>12</sub>H<sub>22</sub>O<sub>11</sub>, présent dans les confiseries, les sodas, les fruits... est hydrolysé en glucose et en fructose. Le glucose en surplus est transformé en glycogène puis stocké dans le foie. Il pourra être libéré en fonction des besoins énergétiques de l'individu.

#### Données :

- Représentation des molécules de glucose et de fructose

$  \begin{array}{c}  \text{H} \\    \\  \text{C}=\text{O} \\    \\  \text{HO}-\text{HC} \\    \\  \text{CH}-\text{OH} \\    \\  \text{HO}-\text{HC} \\    \\  \text{CH}-\text{OH} \\    \\  \text{H}_2\text{C} \\    \\  \text{OH}  \end{array}  $	$  \begin{array}{c}  \text{HO} \\    \\  \text{CH}_2 \\    \\  \text{O}=\text{C} \\    \\  \text{CH}-\text{OH} \\    \\  \text{HO}-\text{HC} \\    \\  \text{CH}-\text{OH} \\    \\  \text{H}_2\text{C} \\    \\  \text{OH}  \end{array}  $
Glucose	Fructose

- Données atomiques

Nom et symbole de l'élément chimique	Hydrogène H	Oxygène O	Carbone C
Masse molaire atomique (g.mol <sup>-1</sup> )	1,0	16,0	12,0

1. Donner la définition d'un glucide simple et citer un exemple.

Modèle CCYC : ©DNE

Nom de famille (naissance) :  
*(Suivi s'il y a lieu, du nom d'usage)*

--	--	--	--	--	--	--	--	--	--	--	--	--	--	--	--	--	--	--	--	--	--	--

Prénom(s) :

--	--	--	--	--	--	--	--	--	--	--	--	--	--	--	--	--	--	--	--	--	--	--

N° candidat :

--	--	--	--	--	--	--	--	--	--

N° d'inscription :

--	--	--



Né(e) le :

		/			/			
--	--	---	--	--	---	--	--	--

*(Les numéros figurent sur la convocation.)*

1.1

2. Recopier la formule du glucose puis entourer et nommer les fonctions chimiques présentes dans cette molécule.

3. Expliquer pourquoi il est exact de dire que les molécules de glucose et de fructose sont des isomères.

4. Écrire l'équation de la réaction d'hydrolyse du saccharose, en utilisant les formules brutes des molécules intervenant dans cette réaction.

Les résultats de l'analyse de sang de monsieur D. indiquent une glycémie à jeun de  $7,75 \text{ mmol}\cdot\text{L}^{-1}$ .

5. Calculer la valeur numérique de la masse molaire du glucose.

6. Indiquer à monsieur D. s'il est susceptible de souffrir de diabète. Expliquer la réponse.

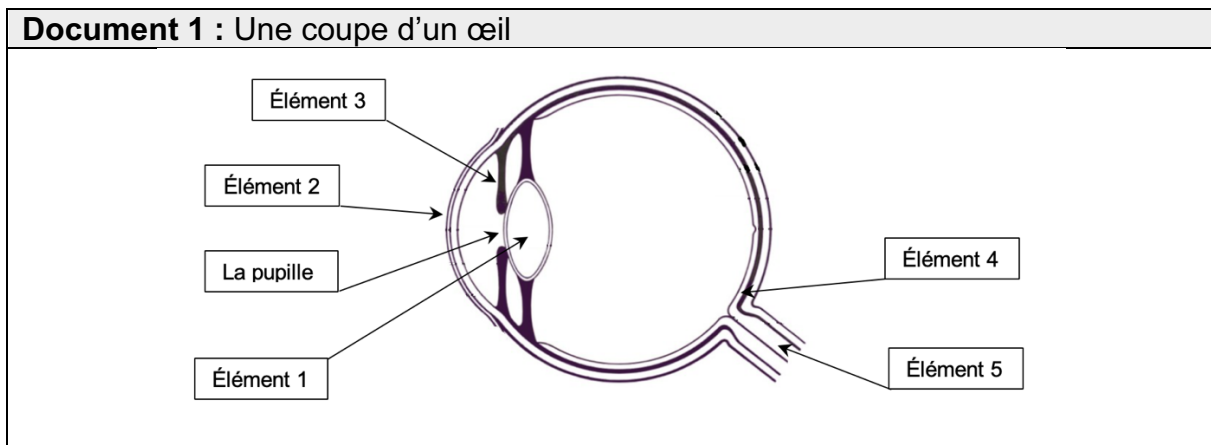
Le glycogène est un polysaccharide pouvant contenir jusqu'à 50000 molécules de glucose ; il a pour formule générale  $(\text{C}_6\text{H}_{10}\text{O}_5)_n$ , où  $n$  peut prendre une valeur allant jusqu'à 50000.

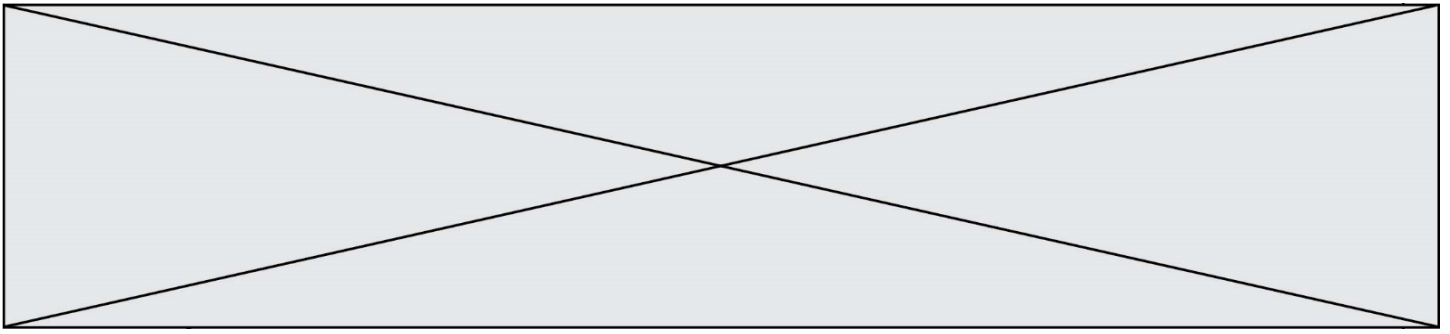
7. Expliquer la différence entre une molécule de glucose et une molécule de glycogène en utilisant les termes suivants : polymère, condensation, hydrolyse.

### Exercice 3 : Une consultation ophtalmologique (5 points)

L'ophtalmologie est la branche de la médecine chargée, entre autres, du traitement des maladies de l'œil, l'un des organes les plus complexes et perfectionnés de notre corps.

#### Document 1 : Une coupe d'un œil





**Document 2 : Les lentilles minces**

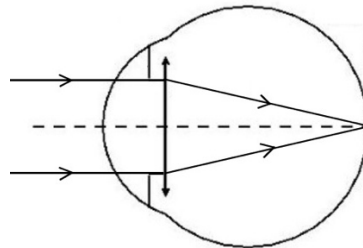
Il existe deux catégories de lentilles minces : les lentilles convergentes et divergentes. Le simple fait d'observer l'action sur des rayons lumineux permet de les différencier. Celles qui transforment un faisceau de rayons parallèles en un faisceau de rayons convergents sont les lentilles convergentes. Les lentilles divergentes transformeront un faisceau de rayons parallèles en un faisceau de rayons divergents.

Chaque lentille est caractérisée par sa vergence,  $V$ , qui correspond à l'inverse de sa distance focale,  $f'$ . Ainsi, la relation liant ces deux grandeurs est :

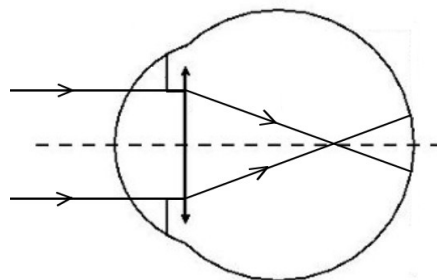
$$V = \frac{1}{f'}$$

avec la vergence  $V$  exprimée en dioptries ( $\delta$ ) et la distance focale  $f'$  en mètres (m).

**Document 3 : Vision à l'infini d'un œil emmétrope au repos**



**Document 4 : Vision à l'infini de l'œil du patient au repos**



1. Faire correspondre à chaque élément numéroté de 1 à 5, du **document 1**, le terme correct parmi la liste suivante :

la rétine	l'iris	le cristallin	la cornée	le nerf optique
-----------	--------	---------------	-----------	-----------------

Modèle CCYC : ©DNE

Nom de famille (naissance) :


(Suivi s'il y a lieu, du nom d'usage)

Prénom(s) :

N° candidat :  N° d'inscription :

(Les numéros figurent sur la convocation.)

Né(e) le :  /  /



RÉPUBLIQUE FRANÇAISE

1.1

2. Associer à chaque élément de l'œil, cité précédemment, son rôle parmi les suivants :

Endroit où l'image se forme	Fait converger les rayons lumineux	Transmet les informations de l'œil au cerveau	Paroi transparente qui se trouve à l'avant de l'œil et le protège	Partie colorée qui permet de régler la quantité de lumière entrant dans l'œil
-----------------------------	------------------------------------	---	---	---

3. Décrire comment varie le diamètre de la pupille lorsque la luminosité augmente.

On appelle œil emmétrope, un œil « normal », ne nécessitant aucune correction. Pour simplifier sa représentation, on peut modéliser l'ensemble des milieux transparents de l'œil par une unique lentille équivalente convergente. Pour un œil emmétrope au repos, les rayons issus d'un objet à l'infini sont déviés et forment l'image sur la rétine, la distance focale  $f'$  de la lentille équivalente est, alors, égale à  $1,67 \times 10^{-2}$  m.

4. À l'appui des **documents 2 et 3**, calculer la vergence, notée  $V_E$ , d'un œil emmétrope au repos.

Un patient qui a des difficultés à voir les objets lointains se rend chez son ophtalmologiste. L'examen du patient révèle que, pour une vision à l'infini, son œil droit a une vergence  $V_P$  égale à  $62,0 \delta$ . Le **document 4** schématise la progression des rayons lumineux issus d'un objet à l'infini pour cet œil au repos.

5. Écrire les phrases suivantes en choisissant le mot qui convient parmi les propositions en italique.

L'œil droit de ce patient est trop *divergent/convergent*. Ce patient souffre de *myopie/d'hypermétropie* pour cet œil.

6. Indiquer quel type de lentille (convergente ou divergente), l'ophtalmologiste devra prescrire au patient pour améliorer sa vision.

On note :  $V_E$  la vergence d'un œil emmétrope,  
 $V_C$  la vergence de la lentille correctrice,  
 $V_P$  la vergence de l'œil du patient.



7. Donner la relation liant  $V_E$ ,  $V_C$  et  $V_P$ .

8. Calculer la vergence de la lentille correctrice  $V_C$  prescrite par l'ophtalmologiste pour l'œil droit du patient.

**Exercice 4 : Signalisation en agglomération pour la sécurité des enfants (5 points)**

En agglomération, plusieurs panneaux de signalisation font référence à la vitesse du véhicule.

A l'entrée d'une petite agglomération, on trouve le panneau 1, indiquant la vitesse maximale autorisée, en  $\text{km}\cdot\text{h}^{-1}$  :

Panneau 1



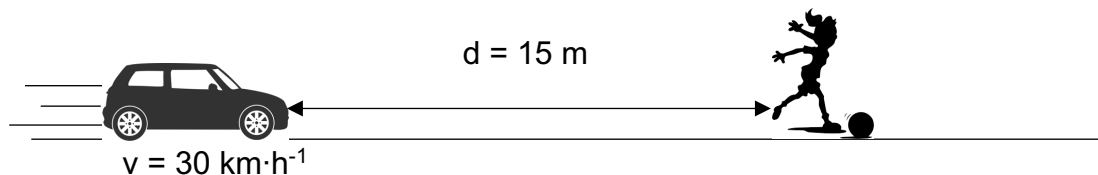
Dans le centre du village, aux abords d'un groupe scolaire, on trouve également le panneau 2 :

Panneau 2



Un automobiliste traverse ce village à la vitesse de  $50 \text{ km}\cdot\text{h}^{-1}$  et réduit sa vitesse à  $30 \text{ km}\cdot\text{h}^{-1}$  à l'approche de l'école primaire, lorsqu'il aperçoit le panneau 2.

Soudain, une fillette bondit brusquement sur la route, devant la voiture, pour récupérer son ballon, comme l'indique le schéma ci-dessous :



La voiture pourra-t-elle s'arrêter avant de percuter l'enfant ?

**Données :**

$$50 \text{ km}\cdot\text{h}^{-1} = 14 \text{ m}\cdot\text{s}^{-1}$$



Modèle CCYC : ©DNE

Nom de famille (naissance) :


(Suivi s'il y a lieu, du nom d'usage)

Prénom(s) :

N° candidat :  N° d'inscription :

(Les numéros figurent sur la convocation.)

Né(e) le :  /  /



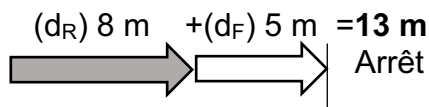
RÉPUBLIQUE FRANÇAISE

1.1

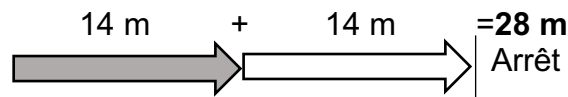
**Document 1** : Distances d'arrêt incompressibles avec un temps de réaction normal d'une seconde à différentes vitesses

Distance d'arrêt = distance  $d_R$  parcourue pendant le temps de réaction + distance de freinage  $d_F$

A 30 km/h :



A 50 km/h :



Source : d'après <http://www.securite-routiere.gouv.fr>

1. A partir du document 1, nommer et définir les deux distances qui composent la distance d'arrêt.

2. Distance  $d_R$  parcourue pendant le temps de réaction

2.1. Convertir la vitesse indiquée sur le panneau 2 dans l'unité du système international.

2.2. Exprimer la distance  $d_R$ , parcourue par la voiture, en fonction de la vitesse  $v$  de la voiture et du temps de réaction  $\Delta t$ . Préciser l'unité de chaque grandeur dans le système international d'unités.

2.3. Vérifier par le calcul que cette distance  $d_R$  correspond à celle donnée dans le document 1, si l'on considère que le conducteur a un temps de réaction normal d'1 s.

2.4. Citer un facteur qui pourrait augmenter le temps de réaction de l'automobiliste.

3. Citer un facteur qui pourrait augmenter la distance de freinage  $d_F$ .

4. Distance d'arrêt du véhicule

4.1. D'après le document 1, le conducteur pourra-t-il arrêter sa voiture assez tôt pour ne pas percuter l'enfant à la vitesse de  $30 \text{ km}\cdot\text{h}^{-1}$  ? Justifier la réponse.

4.2. La réponse serait-elle la même si le conducteur n'avait pas réduit sa vitesse et roulait à  $50 \text{ km}\cdot\text{h}^{-1}$  quand il aperçoit la fillette ? La réponse doit être argumentée par des valeurs numériques.

5. Préciser en quoi l'utilisation du panneau 2 à côté de l'école semble justifiée ?