







### Exercice 1 : Le match acide sulfamique / acide lactique pour le détartrage des bouilloires électriques (5 points)

Le tartre est l'ennemi des bouilloires électriques. Ce dépôt peut entraver rapidement leur bon fonctionnement si des opérations de détartrage ne sont pas, comme préconisé par les fabricants, menées régulièrement et avec précaution. Les produits plébiscités par ces derniers sont des acides comme l'acide sulfamique, l'acide citrique, l'acide malique, l'acide acétique, l'acide phosphorique, ...

Le consommateur recherche aujourd'hui des produits ménagers plus sûrs et plus sains, respectueux de l'environnement. À choisir entre un détartrant à base d'acide lactique ou d'acide sulfamique, lequel doit-il alors privilégier ?

Document 1 : les deux détartrants à disposition	
	<p><u>Composition</u> : acide lactique (<math>pH_{pur} = 2,50</math>), agents de surface non ioniques, parfum</p> <p><u>Mode d'emploi</u> : Formule concentrée à diluer 4 fois : verser 125 mL de produit dans de l'eau froide. Verser la solution obtenue dans la bouilloire, ne pas la mettre sous tension électrique du secteur et laisser agir 40 minutes. Après traitement, rincer 3 fois à l'eau claire et chaude. Recommencer les opérations précédentes tous les mois.</p>
	<p><u>Composition</u> : acide sulfamique</p> <p><u>Mode d'emploi</u> : Procéder à un détartrage hebdomadaire. Verser le contenu du sachet dans la bouilloire, verser 500 mL d'eau et mélanger jusqu'à dissolution complète. Mettre la bouilloire sous tension électrique du secteur, chauffer légèrement puis laisser agir 10 minutes. Après traitement, rincer 2 fois à l'eau claire.</p>

Modèle CCYC : ©DNE

Nom de famille (naissance) :

(Suivi s'il y a lieu, du nom d'usage)

Prénom(s) :

N° candidat :

N° d'inscription :



Né(e) le :

(Les numéros figurent sur la convocation.)

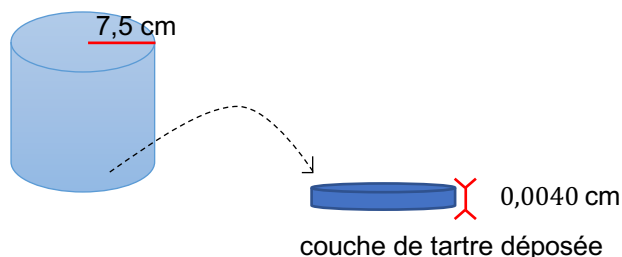
1.1

**Document 2 : données sur les molécules d'acide lactique et d'acide sulfamique**

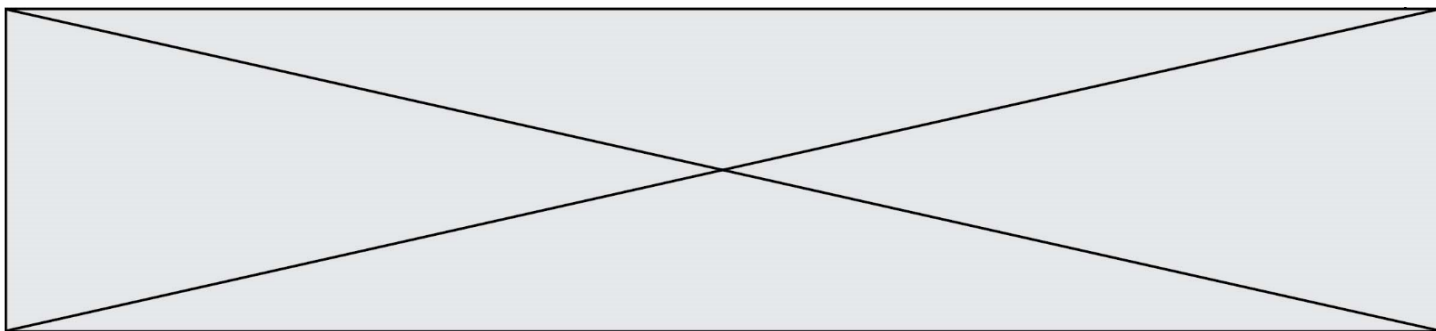
	Acide lactique	Acide sulfamique
Formule de la molécule		
Masse volumique $\rho$ ( $g \cdot mL^{-1}$ )	1,25	2,15
Utilisation	Agent biocide, excellent détartrant, biodégradable, dissolvant du savon. Utilisation à bannir sur les surfaces en émail, en marbre et synthétiques.	Acide fort, agent de nettoyage et de détartrage néanmoins moins corrosif que les autres acides minéraux. Utilisation possible sur les surfaces en acier inox, cuivre, laiton et à l'occasion en aluminium.
Mention de danger (CLP)	H315 - Provoque une irritation cutanée. H318 - Provoque des lésions oculaires graves.	H315 - Provoque une irritation cutanée. H319 - Provoque une sévère irritation des yeux. H412 - Nocif pour les organismes aquatiques, entraîne des effets néfastes à long terme.

**Document 3 : caractéristiques de la bouilloire à détartrer**

La bouilloire utilisée est de forme cylindrique (voir figure qui suit).

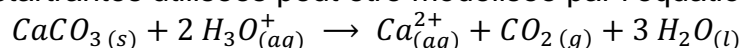


Le propriétaire de la bouilloire ne l'a jamais détartrée et le fond est entièrement recouvert de tartre. On assimile la couche de tarte déposée à un cylindre de rayon  $R$  et d'épaisseur  $e$  de volume  $V = \pi \times R^2 \times e$ .



**Document 4** : la réaction chimique mise en jeu lors du détartrage avec les solutions détartrantes utilisées

Le tartre est assimilé à un dépôt de carbonate de calcium  $CaCO_3$  solide. La réaction chimique entre le carbonate de calcium et les ions oxonium présents dans les solutions détartrantes utilisées peut être modélisée par l'équation :



La quantité de matière d'ions oxonium est alors liée à la quantité de matière de carbonate de calcium par la relation :  $n(CaCO_3) = \frac{n(H_3O^+)}{2}$ .

**Document 5** : obtention d'acide lactique biosourcé

La production industrielle de l'acide lactique utilise déjà un procédé basé sur l'emploi des ressources végétales (amidon). Néanmoins, l'utilisation de l'amidon pour cette production entre en compétition avec son usage alimentaire. Ce procédé pose aujourd'hui un problème éthique dans un monde où 868 millions de personnes ont un apport énergétique insuffisant (Food and Agriculture Organization (FAO, 2013)). Par conséquent, le développement d'un procédé utilisant la biomasse lignocellulosique\* comme matière première permettrait une production plus respectueuse de notre environnement. [...] Au préalable, la biomasse lignocellulosique doit être prétraitée afin de déstructurer et d'hydrolyser la paroi végétale. Cette étape est nécessaire car elle permet la libération des sucres fermentescibles nécessaires aux microorganismes pour produire l'acide lactique. Ensuite vient la fermentation en elle-même. Elle nécessite la sélection de biomasse, des microorganismes et la mise en place de différentes stratégies de fermentation. L'acide lactique produit est ensuite extrait et purifié. [...] Les techniques utilisées dans chaque étape ont été choisies afin de répondre aux critères d'un procédé engagé dans le développement durable.

\* son de blé, rafles de maïs, bagasse de canne à sucre, ...

D'après la thèse soutenue en mars 2015 par F. Prévot « Valorisation de déchets végétaux pour la production (poly)acide lactique »

**Données :**

- masses molaires atomiques en  $g \cdot mol^{-1}$  :

$$M(S) = 32,1 ; M(H) = 1,0 ; M(O) = 16,0 ; M(N) = 14,0$$

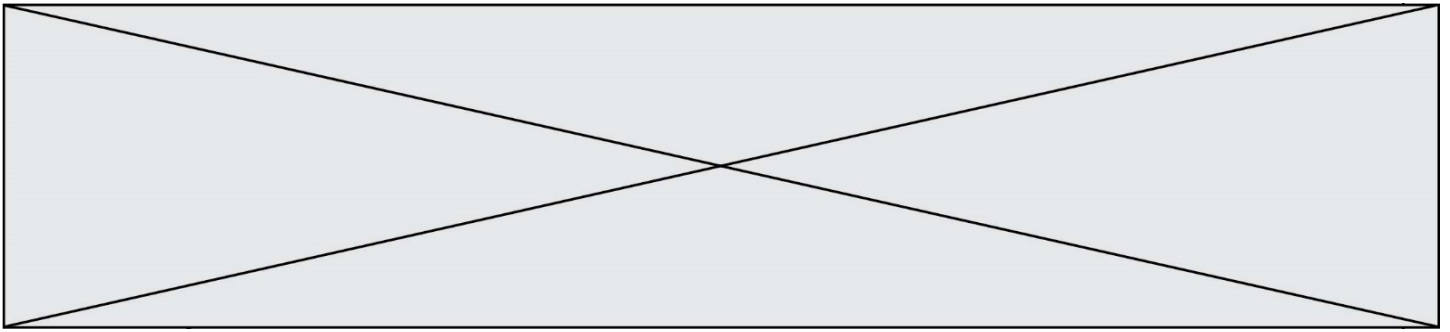
- masse volumique du carbonate de calcium :  $\rho = 2,65 g \cdot cm^{-3}$

- masse molaire du carbonate de calcium  $M(CaCO_3) = 100,1 g \cdot mol^{-1}$

1. Définir un acide selon la théorie de Brönsted.

2. À l'aide des **documents 1 et 2**, calculer la valeur de la concentration molaire en soluté apporté en acide sulfamique dans la solution de détartrant préparée.





7. En s'appuyant sur les deux histogrammes, conclure sur la précision des deux méthodes de mesure du pH.

8. À l'aide des **documents 2 et 5**, construire en quelques lignes un argumentaire permettant d'éclairer le choix d'un consommateur hésitant entre un détartrant à base d'acide lactique et un détartrant à base d'acide sulfamique.

### Exercice 2 : Les traitements pour fraisiers (5 points)

Un jardinier amateur souhaite apporter de l'engrais à ses fraisiers pour avoir une bonne récolte au printemps. Il recherche des informations dans un ouvrage de jardinage.

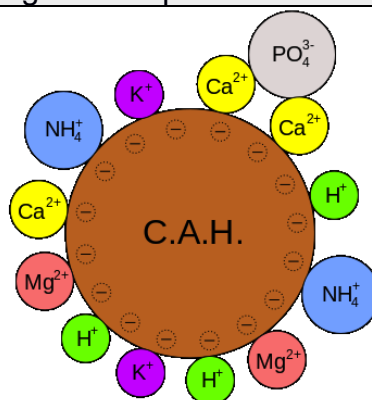
#### Document 1 : ce qu'il faut savoir sur les engrais

Quand un engrais est apporté au sol, il libère, selon sa composition :

- de l'azote sous forme d'ions nitrate  $\text{NO}_3^-$  et/ou ammonium  $\text{NH}_4^+$  et à ce titre il permet de densifier et renforcer le feuillage,
- du phosphore sous forme d'ions  $\text{H}_2\text{PO}_4^-$  ou  $\text{HPO}_4^{2-}$  ou  $\text{PO}_4^{3-}$  et à ce titre il régule la croissance des plantes au niveau des racines, des tiges et des fleurs,
- du potassium sous forme d'ions  $\text{K}^+$  et à ce titre il est essentiel à la floraison et à la maturation des fruits.

Ces éléments nutritifs sont absorbés par les racines des plantes, ou s'accumulent dans le sol, ou sont perdus en étant entraînés par ruissellement.

#### Document 2 : le complexe argilo-humique







Le jardinier observe sur ses fraisiers un duvet blanc qui commence à recouvrir les feuilles. Dans son ouvrage de jardinage, il peut lire que « les fraisiers peuvent être attaqués par plusieurs maladies notamment l'oïdium. L'oïdium est provoqué par le champignon *Podosphaera macularis* et se manifeste par l'apparition d'une sorte de duvet blanc qui recouvre progressivement tout le plant en commençant par les feuilles puis les hampes florales et même les fruits ». Il se rend donc à la jardinerie pour acheter un produit phytosanitaire.

5. Donner la fonction d'un herbicide, d'un fongicide et d'un insecticide.
6. Expliquer lequel de ces trois produits phytosanitaires le jardinier devra choisir.
7. En s'appuyant sur l'analyse du **document 3**, justifier le meilleur traitement à choisir parmi les deux produits proposés en jardinerie.

**Exercice 3 : Mesurer et réguler la température lors d'une mission sanitaire (5 points)**

Simple élévation de température, la fièvre n'est pas une maladie à combattre. Cette élévation de la température (hyperthermie) est le signe que le corps humain se défend activement contre un agresseur, comme une infection. La température corporelle normale moyenne a une valeur égale à 37 °C (entre 36,5 °C et 37,5 °C selon les individus). On parle de fièvre légère jusqu'à 38 °C, de fièvre modérée entre 38 °C et 38,5 °C et de forte fièvre au-delà.

La cause la plus fréquente de fièvre est l'infection microbienne mais il peut aussi s'agir d'un empoisonnement (aliments avariés, champignons toxiques, venins de serpent...), d'allergènes chez les personnes allergiques, ou encore d'une destruction importante de tissus par une blessure ou une opération. Dans le domaine médical, différents types de thermomètres peuvent être utilisés pour détecter une élévation de la température corporelle.

Le thermomètre à infrarouges comporte un détecteur à infrarouges intégré au thermomètre ; il est utilisé pour un diagnostic médical et permet des mesures de températures corporelles comprises entre 35 °C et 45 °C.

<b>Document 1 : différents détecteurs à infrarouges</b>	
Détecteur A	détection des infrarouges de valeurs de longueurs d'onde comprises entre 9,0 µm et 10,0 µm
Détecteur B	détection des infrarouges de valeurs de longueurs d'onde comprises entre 9,0 µm et 9,5 µm
Détecteur C	détection des infrarouges de valeurs de longueurs d'onde comprises entre 9,5 µm et 10,0 µm

**Document 2 : l'utilisation du rayonnement infrarouge en médecine**



Modèle CCYC : ©DNE

Nom de famille (naissance) :

(Suivi s'il y a lieu, du nom d'usage)

Prénom(s) :

N° candidat :

N° d'inscription :



Né(e) le :

(Les numéros figurent sur la convocation.)

1.1

La plupart des objets du quotidien et les êtres vivants émettent des rayonnements infrarouges. Ce sont des rayonnements électromagnétiques, invisibles pour l'œil humain, qui trouvent des applications dans le secteur industriel, dans les systèmes d'alarme pour la détection des intrusions ou encore pour le chauffage. Le rayonnement infrarouge est également utilisé dans le domaine médical et en particulier dans les thermomètres à infrarouges qui permettent, à partir de ces rayonnements émis par le corps humain, de déterminer la température de ce dernier sans nécessiter de contact direct.

Le rayonnement infrarouge émis par le corps humain suit la loi de Wien qui permet de relier la température de surface  $T$  d'un corps chaud à la longueur d'onde  $\lambda_{max}$  de la radiation émise par ce corps avec le maximum d'intensité lumineuse :

$$\lambda_{max} = \frac{\text{constante}}{T}$$

avec :  $\lambda_{max}$  en mètre (m)

$T$  en Kelvin (K)

$\text{constante} = 2,89 \times 10^{-3} \text{ m.K}$

Pour convertir une température  $\theta$  exprimée en degrés Celsius ( $^{\circ}\text{C}$ ) en une température  $T$  exprimée en Kelvin (K), on réalise l'opération suivante :  $T(\text{K}) = 273 + \theta(^{\circ}\text{C})$ .

Lors de prise de température corporelle, la longueur d'onde du rayonnement électromagnétique émis est d'autant plus petite que la température du corps est élevée, et inversement.

Le thermomètre à infrarouges comporte un détecteur thermique qui transforme le rayonnement capté de longueur d'onde donnée en un signal électrique de valeur proportionnelle à l'intensité du rayonnement reçu. Ce signal est converti, grâce à une chaîne électronique, en une température indiquée sur l'afficheur du thermomètre.

### Document 3 : la maladie à virus Ebola d'après l'Organisation Mondiale de la Santé

La maladie à virus Ebola (autrefois appelée aussi fièvre hémorragique à virus Ebola) est une maladie grave, souvent mortelle chez l'homme. Le virus se transmet à l'homme à partir des animaux sauvages et se propage ensuite dans les populations par transmission interhumaine. Le taux de létalité moyen est d'environ 50 %. Au cours des flambées précédentes, les taux sont allés de 25 % à 90 %.




La participation de la communauté est essentielle pour juguler les flambées. Pour être efficace, la lutte doit se fonder sur un ensemble d'interventions : prise en charge des cas, mesures de prévention des infections et de lutte, surveillance et recherche des contacts, services de laboratoire de qualité, inhumations sans risque et dans la dignité et mobilisation sociale.

Les soins de soutien précoces axés sur la réhydratation et le traitement



symptomatique améliorent les taux de survie. Aucun traitement homologué n'a pour l'instant démontré sa capacité à neutraliser le virus, mais plusieurs traitements (dérivés du sang, immunologiques ou médicamenteux) sont à l'étude.

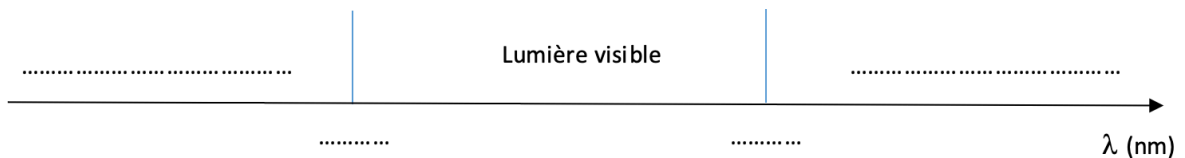
**Document 4** : Tableau comparatif des différents types de thermomètres

Thermomètre	Au gallium	Électronique	À infrarouges
Photographie	 On observe 10 graduations pour un degré Celsius		 Valeur affichée : 24,2 °C
Mesure	Par contact direct avec le patient - Temps de réponse d'environ 1 min	Par contact direct avec le patient - Temps de réponse d'environ 1 min	Sans contact, à quelques centimètres de l'oreille - Temps de réponse d'environ 5 s
Gamme de température	De 35 °C à 42 °C	De 32 °C à 42 °C	De 10 °C à 50 °C
Prix unitaire	8,46 €	7,49 €	37,44 €

**Donnée :**

$1 \mu\text{m} = 1000 \text{ nm}$

1. Reproduire sur la copie la **figure 1** ci-dessous et la compléter en indiquant les domaines des ondes électromagnétiques à l'extérieur du domaine de la lumière visible, les valeurs limites de longueurs d'onde des radiations du domaine du visible ainsi que les couleurs correspondant à ces limites dans le domaine de la lumière visible.



**Figure 1** : Extrait du spectre des ondes électromagnétiques

2. À l'aide de la **figure 2** sur l'**annexe à rendre avec la copie**, déterminer les valeurs de longueurs d'onde des radiations émises avec une intensité maximale pour des corps dont les valeurs de température sont égales à 32 °C, 37 °C et 45 °C. On fera apparaître les traits de construction.

3. Indiquer en exploitant le **document 1**, le (ou les) détecteur(s) à infrarouges adapté(s) à la mesure d'une température corporelle comprise entre 35 °C et 45 °C.

Modèle CCYC : ©DNE

Nom de famille (naissance) :

(Suivi s'il y a lieu, du nom d'usage)

Prénom(s) :

N° candidat :

N° d'inscription :



Liberté • Égalité • Fraternité  
RÉPUBLIQUE FRANÇAISE

Né(e) le :

(Les numéros figurent sur la convocation.)

1.1

4. En explicitant la démarche et en exploitant le **document 2** et/ou la **figure 2**, comparer la longueur d'onde du rayonnement émis par un corps humain en bonne santé  $\lambda_B$  à celle  $\lambda_F$  du rayonnement émis par un corps fiévreux.

L'épidémie d'Ebola en République Démocratique du Congo (RDC), déclarée en août 2018, a fait plus de 750 morts, selon l'Organisation Mondiale de la Santé (OMS). Une équipe de médecins d'une Organisation Non Gouvernementale (ONG), exerçant des missions humanitaires, se rend sur les lieux de l'épidémie. Plusieurs thermomètres se trouvent dans la trousse médicale des médecins.

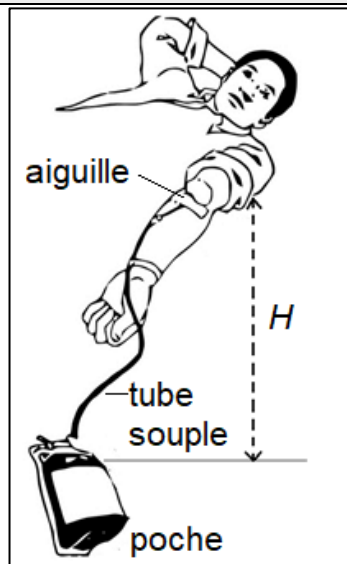
5. À l'aide des **documents 3 et 4**, comparer les trois thermomètres en termes de rapidité de lecture, de coût et d'utilisation sanitaire.

6. Choisir, en proposant une argumentation, le thermomètre le plus adapté à la mission « RDC ».

#### Exercice 4 : Le don du sang (5 points)

Le don de sang permet de prélever en même temps tous les composants du sang – globules rouges, plasma et plaquettes – qui sont ensuite séparés.

#### Document 1 : Disposition du donneur lors du don de sang



Le volume de sang prélevé lors d'un don se situe toujours entre 420 mL et 480 mL. Il est évalué par le médecin qui reçoit le donneur. Ce volume est déterminé en fonction de la masse corporelle du donneur à raison de 7 mL/kg.



Un étudiant de 75 kg remplit toutes les conditions de santé pour donner son sang.

Donnée :  $1 \text{ mL} = 10^{-6} \text{ m}^3$

1. Montrer que cet étudiant peut effectuer le don maximum autorisé, soit un volume de sang égal à 480 mL.

2. Dans les conditions opératoires, le débit sanguin  $D$  lors du prélèvement vaut  $0,80 \text{ mL}\cdot\text{s}^{-1}$ . Déterminer la durée du prélèvement.

Pour réaliser le prélèvement, l'infirmier utilise une aiguille de 14 gauges, c'est-à-dire une aiguille dont la section intérieure a une surface  $S$  égale à  $2,1 \times 10^{-6} \text{ m}^2$ .

3. Déterminer la valeur de la vitesse d'écoulement du sang dans l'aiguille.

4. La vitesse d'écoulement du sang dans le tube souple reliant l'aiguille à la poche de récupération du sang est plus faible que la vitesse d'écoulement dans l'aiguille. Proposer une explication.

L'infirmier constate que la valeur du débit sanguin diminue s'il réduit la hauteur  $H$  indiquée sur le **document 1**. Il observe même que le débit sanguin ne s'annule pas lorsque la poche de recueil est placée à la même hauteur que le bras (ce qui correspond à  $H = 0$ ).

5. En vous appuyant sur l'observation que le débit sanguin ne s'annule pas lorsque  $H=0$ , comparer les pressions du sang dans la veine et dans la poche de recueil.

