



Première partie (10 points)

« LITER OF LIGHT »

DE LA LUMIÈRE À DES MILLIERS DE PERSONNES

L'idée d'insérer une bouteille d'eau dans le toit des maisons a émergé en 2002. La bouteille fonctionne comme un puits de lumière et permet d'apporter de l'éclairage pendant la journée dans des maisons le plus souvent dépourvues de fenêtres.

En 2011, le système a été amélioré. Dans la même bouteille, ont été intégrés une LED, des composants électroniques, une batterie, un tube et un panneau solaire, le tout pour 10 euros environ. Cela permet d'éclairer une pièce de 15 m² à la nuit tombée.

Finalement le système a été transposé à l'éclairage des rues la nuit.

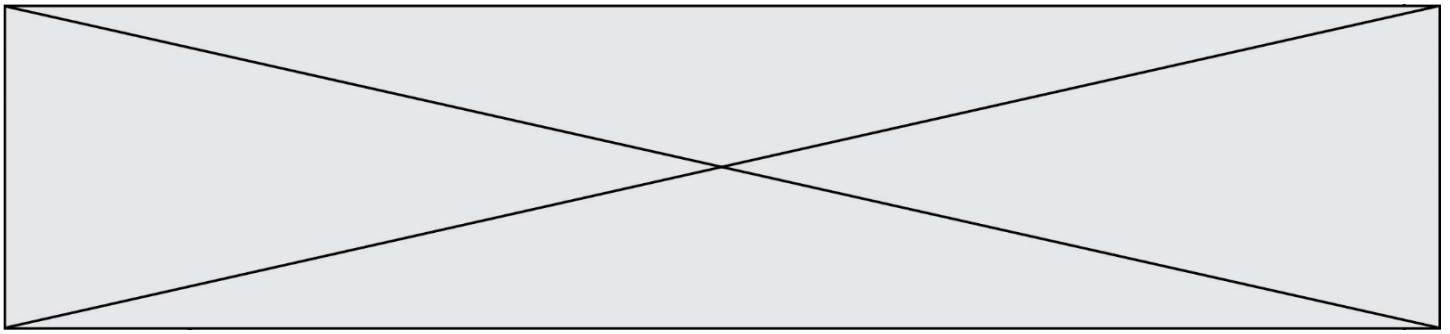


Ce système d'éclairage peu coûteux et très simple a été imaginé par « Liter of Light » (un litre de lumière en français), une ONG présente dans plus de 30 pays en voie de développement.

Questions (on s'aidera des documents ci-dessous)

Sur la copie, le travail consiste à produire une présentation graphique du dispositif « Liter of Light ». Cette planche devra rendre compte :

1. du dispositif de la première version ainsi que du trajet de la lumière solaire dans la bouteille jusqu'à la pièce où elle est installée ;
2. du dispositif de la deuxième version, et en particulier du fonctionnement de la batterie lorsqu'elle se décharge dans la LED (circulation des électrons et des ions, réactions chimiques, nom de ces réactions) ;
3. de l'intérêt de « Liter of Light » pour les populations concernées, ainsi qu'en terme d'impact environnemental.



DOCUMENT 3 : la batterie au lithium

Constitution de la batterie lorsqu'elle est chargée :

Partie A : électrode de graphite dans laquelle sont piégés des atomes de lithium Li

Partie B : matériau qui autorise le passage des ions, mais pas celui des électrons

Partie C : électrode d'oxyde de cobalt

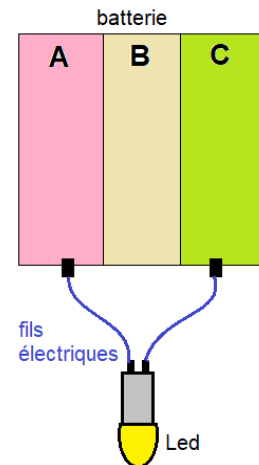
Fonctionnement lorsque la batterie se décharge dans la LED

Lorsque la batterie se décharge dans la LED, les atomes de lithium Li de la partie A se transforment en ions lithium Li^+ en libérant chacun un électron. Les ions lithium traversent alors la partie B, mais les électrons, ne pouvant traverser la partie B, sont contraints d'emprunter le circuit extérieur et de traverser la LED, qui s'allume.

Les ions lithium retrouvent les électrons dans la partie C et vont se transformer en atomes de lithium qui vont être piégés dans l'oxyde de cobalt.

Fonctionnement lorsque la batterie se charge

La batterie est alors reliée au panneau solaire et tout fonctionne en sens inverse, ce qui permet en quelque sorte de transférer à nouveau les atomes de lithium de la partie C vers la partie A.



Modèle CCYC : ©DNE

Nom de famille (naissance) :


(Suivi s'il y a lieu, du nom d'usage)

Prénom(s) :

N° candidat : N° d'inscription :

(Les numéros figurent sur la convocation.)

Né(e) le : / /



1.1

Deuxième partie (sur 10 points)

COMPARAISON DES CARACTÉRISTIQUES TECHNIQUES DE DEUX APPAREILS PHOTOGRAPHIQUES REFLEX

Questions (on s'aidera des documents ci-dessous)

- Donner les noms des composants 1, 2, 3, 4, 5, 6, 7 et 8 du document 2 en précisant, s'il y a lieu, les différences de composants entre un reflex numérique et un reflex argentique.
- Avant de prendre une photographie, des réglages de certains des composants décrits dans la question précédente sont nécessaires. En automatique, ces réglages sont faits par l'appareil lui-même. Expliciter trois de ces réglages.
- Voici les caractéristiques techniques de deux objectifs adaptables aux appareils argentiques et numériques étudiés :
 - téléobjectif de 200 mm f / 2.8 (en 24x36)
 - grand angle de 20 mm f / 2.8 (en 24x36)
 - Expliquer ce que signifient les caractéristiques décrites ci-dessus pour chaque objectif.
 - Expliquer comment évolue la profondeur de champ et le champ angulaire pour un appareil équipé du « téléobjectif » puis du « grand angle » décrits précédemment. En déduire l'utilité de chacun de ces objectifs.
- Donner les différences essentielles entre la photographie numérique et la photographie argentique.

Document 1 : le champ angulaire

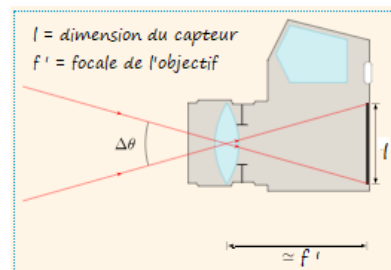
Le champ angulaire $\Delta\theta$ correspond au champ de vision de l'objectif.

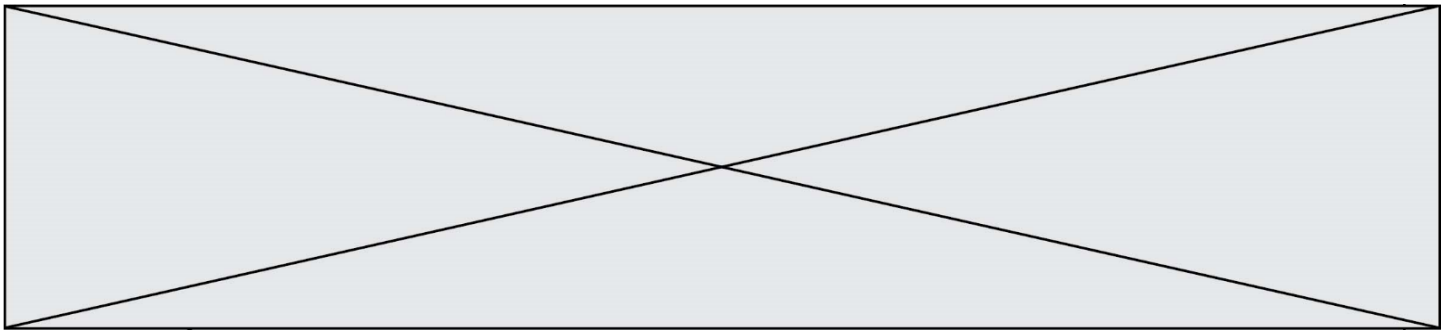
Une grande distance focale f' diminue le champ de vision $\Delta\theta$ et grossit l'image.

Une petite distance focale f' augmente le champ de vision $\Delta\theta$ et diminue l'image.

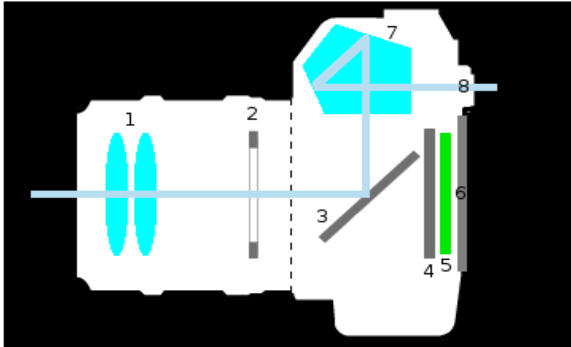
Champ angulaire pour une distance objectif-capteur égale à f'

<https://femto-physique.fr/optique/instruments.php>





Document 2 : l'appareil photo reflex



Informations sur les composants :

On peut, pour simplifier, assimiler le composant 1 à une lentille convergente unique de distance focale f'

Lors de l'entrée de lumière dans l'appareil, le composant 3 bascule et le composant 4 s'ouvre pendant une durée bien précise pour laisser la lumière atteindre le composant 5 qui enregistre l'image.

Modèle CCYC : ©DNE

Nom de famille (naissance) :

(Suivi s'il y a lieu, du nom d'usage)

Prénom(s) :

N° candidat :

N° d'inscription :



Liberté • Égalité • Fraternité
RÉPUBLIQUE FRANÇAISE

Né(e) le :

(Les numéros figurent sur la convocation.)


1.1

Document 3 : le capteur CCD

Le capteur CCD (*Charge-Coupled Device*, ou en français « dispositif à transfert de [charge](#) ») est constitué de « photosites » appelés pixels.

Chaque pixel recueille une information lumineuse transformée en information électrique puis codée en langage numérique et enfin stockée sur une carte mémoire pouvant être lue par un ordinateur.

Plus le capteur CCD contient de pixels et meilleure est la qualité de l'image. Autrement dit, la qualité de l'image dépend de la taille du capteur.




https://fr.wikipedia.org/wiki/Appareil_photographique_num%C3%A9rique#Appareils_reflex

Document 4 : le film ou la pellicule photographique

La pellicule est constituée d'un film support en plastique recouvert d'une émulsion contenant entre autres des ions argent (Ag^+).

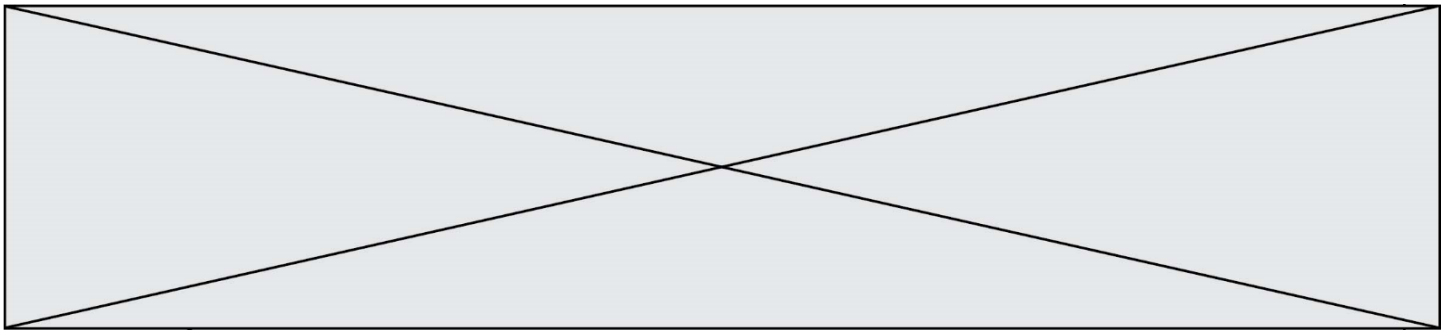
Lors de l'exposition à la lumière, les ions argent sont transformés en atomes d'argent (Ag).

Ces atomes ont tendance à s'agglutiner pour former un agrégat noir sur la pellicule : le grain d'argent. Dans le cas d'une pellicule à grains fins donc peu sensible à la lumière comme une pellicule 64 ISO, la taille moyenne d'un grain d'argent est d'environ 20 micromètres. Il y en a donc environ 2 millions à la surface d'un négatif de 24 × 36 mm.



Extrait de négatif d'une pellicule

https://fr.wikipedia.org/wiki/Photographie_argentique#Enregistrement_des_images_sur_pellicule



Document 5 : caractéristiques techniques des appareils photographiques

Type d'appareil	Argentique	Numérique
Optique et ouverture maximale	80 mm f /2.8	35 mm f /1.8
Image et exposition	Temps de pose mini (en secondes) : 1/2000 Temps de pose maxi (en secondes) : 2 Type de mise au point : autofocus ou manuelle	Temps de pose mini (en secondes) : 1/4000 Temps de pose maxi (en secondes) : 30 Type de mise au point : autofocus ou manuelle
Ecran et viseur	Viseur : optique	Viseur : optique Viseur numérique : écran (diagonale en cm) : 7.5 cm
Capteur	Pellicule : format 24 x 36 mm Sensibilité ISO min : 64 Sensibilité ISO max : 400	Type de capteur : CCD Définition du capteur : 14,2 Mpx* Dimensions du capteur : 24 x 36 mm Sensibilité ISO min : 64 Sensibilité ISO max : 12 800

* 1 Mpx = 1 million de pixels.