

Modèle CCYC : ©DNE

Nom de famille (naissance) :


(Suivi s'il y a lieu, du nom d'usage)

Prénom(s) :

N° candidat : N° d'inscription :

(Les numéros figurent sur la convocation.)

Né(e) le : / /

 Liberté - Égalité - Fraternité
RÉPUBLIQUE FRANÇAISE

1.1

ÉPREUVES COMMUNES DE CONTRÔLE CONTINU

CLASSE : Première

E3C : E3C1 E3C2 E3C3

VOIE : Générale Technologique Toutes voies (LV)

ENSEIGNEMENT : physique-chimie

DURÉE DE L'ÉPREUVE : 2 h

CALCULATRICE AUTORISÉE : Oui Non

Ce sujet contient des parties à rendre par le candidat avec sa copie. De ce fait, il ne peut être dupliqué et doit être imprimé pour chaque candidat afin d'assurer ensuite sa bonne numérisation.

Nombre total de pages : 7

PARTIE A

Hypochlorites et eaux de Javel (10 points)

Connue depuis plus de deux siècles pour son pouvoir à la fois désinfectant et blanchissant, l'eau de Javel reste encore aujourd'hui un produit d'utilisation courante en France. Chaque année, on compte environ 245 millions de litres commercialisés au niveau du grand public.

d'après <https://www.eaudejavel.fr/>



L'eau de Javel est une solution aqueuse contenant des ions hypochlorite $\text{ClO}^-_{(aq)}$. Son efficacité dépend de la concentration de ces ions qui présentent des propriétés oxydantes. Rencontrée sous différentes formes dans les usages domestiques, l'eau de Javel est très fréquemment vendue en flacon ou en berlingot de recharge affichant respectivement des degrés chlorométriques de 9°chl et de 36°chl .

Le but de cet exercice est d'expliciter certaines des indications données par un fabricant proposant deux types de conditionnement, flacon et berlingot, et d'étudier une méthode de dosage de l'eau de Javel.

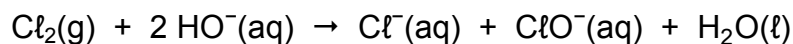
« JAVEL » en flacon	« JAVEL CONCENTRÉE » en berlingot
Eau de Javel prête à l'emploi.	Verser deux berlingots dans un flacon de 2 L vide et compléter avec de l'eau froide pour obtenir un volume de 2 L d'eau de Javel prête à l'emploi.



<ul style="list-style-type: none">• À utiliser de préférence dans les trois ans suivant les indications figurant sur le haut de la bouteille.• À conserver au frais et à l'abri de la lumière et du soleil.• Ne pas réutiliser le flacon vide, sauf pour diluer de l'eau de Javel en berlingot.	<ul style="list-style-type: none">• À diluer dans les trois mois qui suivent la date de fabrication (dans les deux mois et demi en période chaude).• À conserver au frais et à l'abri de la lumière et du soleil.• Ne pas utiliser de flacons alimentaires.
Contient : sodium hypochlorite, sodium hydroxyde. FLACON DE 2 L CONCENTRATION : 9° chl	Contient : sodium hypochlorite, sodium hydroxyde. BERLINGOT DE 250 mL CONCENTRATION : 36° chl

1. Degré chlorométrique d'une eau de Javel

Industriellement, l'eau de Javel est obtenue par barbotage de dichlore gazeux $\text{Cl}_2(\text{g})$ dans une solution aqueuse d'hydroxyde de sodium ($\text{Na}^+(\text{aq}) + \text{HO}^-(\text{aq})$). La transformation chimique ayant lieu peut être considérée comme totale et elle est modélisée par la réaction d'équation :




En France, l'eau de Javel est souvent caractérisée par son degré chlorométrique (° chl) qui correspond au volume, exprimé en litres, de dichlore gazeux nécessaire pour préparer un litre de solution d'eau de Javel. Ce volume est mesuré dans des conditions de température et de pression telles que le volume molaire des gaz est $V_m = 22,4 \text{ L}\cdot\text{mol}^{-1}$.

1.1. Montrer que la concentration en quantité de matière des ions hypochlorite $\text{ClO}^-(\text{aq})$ d'une eau de Javel de titre chlorométrique 9° chl est de $0,4 \text{ mol}\cdot\text{L}^{-1}$.

1.2. Justifier le protocole de dilution indiqué sur l'étiquette d'un berlingot de « JAVEL CONCENTRÉE » pour obtenir une eau de Javel prête à l'emploi.

2. Limite de conservation des eaux de Javel

L'ion hypochlorite $\text{ClO}^-(\text{aq})$ en solution aqueuse est fortement oxydant et capable d'oxyder l'eau elle-même. On peut modéliser cette transformation à partir des deux couples oxydant -réducteur suivants : $\text{ClO}^-(\text{aq}) / \text{Cl}^-(\text{aq})$ et $\text{O}_2(\text{g}) / \text{H}_2\text{O}(\ell)$. Cette transformation, plus ou moins lente en fonction de certains paramètres, impose une limite de durée d'utilisation aux eaux de Javel.

Modèle CCYC : ©DNE																				
Nom de famille (naissance) : <small>(Suivi s'il y a lieu, du nom d'usage)</small>																				
Prénom(s) :																				
N° candidat :											N° d'inscription :									
 Liberté - Égalité - Fraternité RÉPUBLIQUE FRANÇAISE	(Les numéros figurent sur la convocation.)																			
Né(e) le :			/			/														

1.1

2.1. Établir l'équation de la réaction d'oxydo-réduction modélisant l'oxydation de l'eau par les ions hypochlorite. Justifier le rôle oxydant de l'ion hypochlorite.

2.2. Indiquer comment évolue le degré chlorométrique d'une eau de Javel dans le temps. Justifier la réponse.

2.3. D'après les indications fournies par le fabricant, identifier trois facteurs qui influent sur la dégradation de l'eau de Javel.

3. Titrage d'une eau de Javel prête à l'emploi

On se propose de contrôler expérimentalement la concentration en ions hypochlorite ClO^- (aq) présents dans une solution S d'eau de JAVEL achetée en flacon de 2 L. Pour cela, on procède au titrage de la solution S par une méthode indirecte dont les étapes sont décrites ci-après.

Étape 1 :

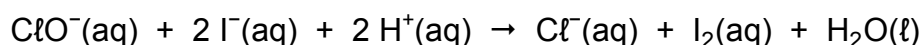
La solution S étant trop concentrée pour être dosée directement, on effectue une dilution au dixième afin d'obtenir un volume de 50,0 mL de solution diluée notée S'.

Étape 2 :

Dans un erlenmeyer de 150 mL, on introduit dans l'ordre :

- un volume $V' = 10,0$ mL de solution S' ;
- 20 mL d'une solution aqueuse d'iodure de potassium ($\text{K}^+_{(\text{aq})} + \text{I}^-_{(\text{aq})}$) de concentration effective en ions iodure $[\text{I}^-]_{(\text{aq})} = 0,10 \text{ mol.L}^{-1}$;
- quelques gouttes d'acide sulfurique concentré.

La transformation chimique ayant lieu lors de cette étape peut être modélisée par la réaction d'équation :




Les ions iodure I^- (aq) étant apportés en excès dans le mélange, la totalité des ions hypochlorite ClO^- (aq) initialement présents sont consommés.

Étape 3 :

On réalise le titrage du diiode $\text{I}_{2(\text{aq})}$ formé à l'issue de l'étape 2 par une solution aqueuse de thiosulfate de sodium ($2 \text{Na}^+_{(\text{aq})} + \text{S}_2\text{O}_3^{2-}_{(\text{aq})}$) de concentration effective en ions thiosulfate $[\text{S}_2\text{O}_3^{2-}]_{(\text{aq})} = 5,0 \times 10^{-2} \text{ mol.L}^{-1}$.

La réaction support du titrage a pour équation :





À l'approche de l'équivalence, on ajoute quelques gouttes de thiodène dans le mélange réactionnel.

Lors de ce titrage, le volume de solution aqueuse de thiosulfate de sodium versé pour atteindre l'équivalence est $V_E = 12,4 \text{ mL}$.

En solution aqueuse, le diiode $\text{I}_2(\text{aq})$ est de couleur brune à forte concentration et jaune très pâle à faible concentration.

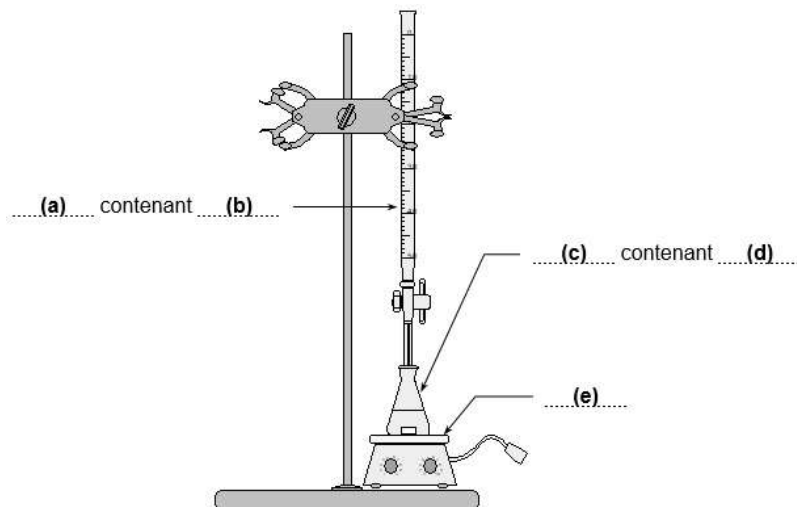
Une solution aqueuse de diiode devient bleu foncé en présence de thiodène.

Parmi l'ensemble des espèces mentionnées dans cet exercice, seul le diiode est coloré en solution aqueuse.

3.1. Indiquer les précautions à prendre lors de la manipulation des solutions S et S'.

3.2. On donne le schéma du dispositif expérimental mis en œuvre lors de l'étape 3.

Indiquer sans recopier le schéma sur la copie, les termes à mettre en (a), (b), (c), (d) et (e) pour compléter la légende de ce schéma.



3.3. Indiquer comment l'équivalence est repérée lors de ce titrage. Justifier la réponse.

3.4. Déduire du résultat de ce titrage la quantité de matière de diiode formé dans le mélange réactionnel à l'issue de l'étape 2 et titré par le thiosulfate.

3.5. Déterminer la concentration en quantité de matière des ions hypochlorite de la solution S et commenter le résultat.

Pour cette dernière question, le candidat est invité à prendre des initiatives et à présenter la démarche suivie même si elle n'a pas abouti.

Modèle CCYC : ©DNE

Nom de famille (naissance) :

(Suivi s'il y a lieu, du nom d'usage)

Prénom(s) :

N° candidat : N° d'inscription :

(Les numéros figurent sur la convocation.)

Né(e) le : / /

Liberté - Égalité - Fraternité
RÉPUBLIQUE FRANÇAISE

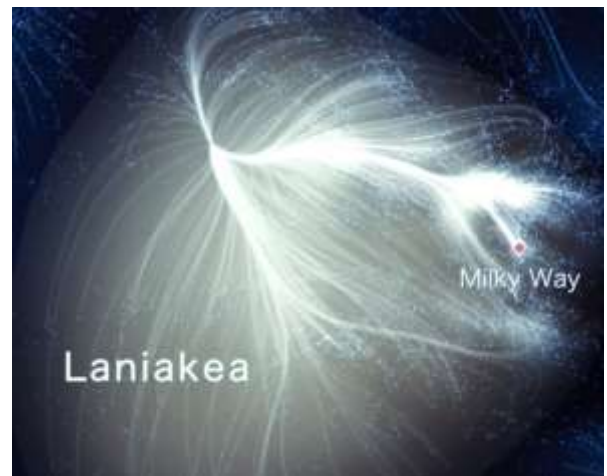
1.1

PARTIE B

Le superamas Laniakea (10 points)

Ce sujet traite de la cosmographie qui est la science de la description de l'Univers.

Depuis 2014, une équipe de chercheurs a pu établir une carte dynamique de la région où nous sommes dans l'Univers : elle se nomme « Laniakea » (horizons célestes immenses en Hawaïen). Notre galaxie, la Voie lactée (Milky Way en anglais), appartient à un immense continent extragalactique, le Laniakea, dont le diamètre est d'environ 500 millions d'années-lumière. La Voie lactée, qui se déplace à une vitesse de 630 km/s, est située sur le bord de cette grande structure qui contient environ 100 000 galaxies comme la nôtre.



Données :

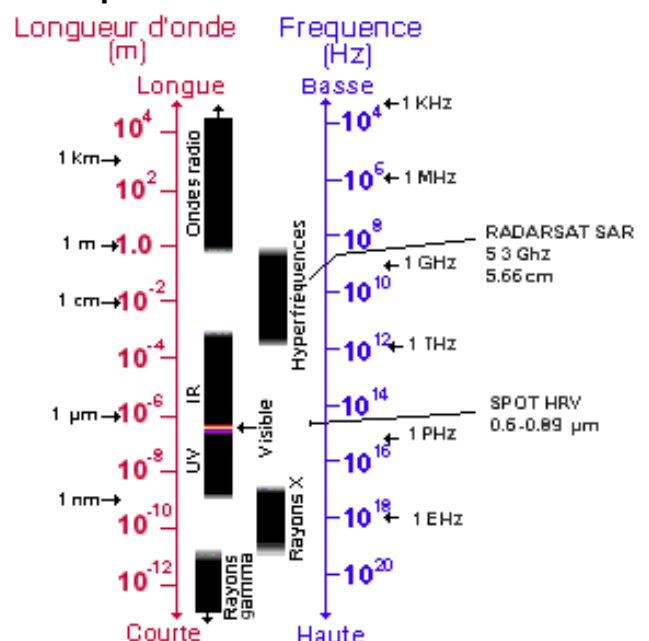
- un gigahertz : $1 \text{ GHz} = 10^9 \text{ Hz}$;
- constante de Planck : $h = 6,63 \cdot 10^{-34} \text{ J.s}$;
- un électron-volt : $1 \text{ eV} = 1,6 \cdot 10^{-19} \text{ J}$;
- la valeur de la célérité c de la lumière dans le vide est supposée connue du candidat.

Laniakea. Lien web : www.tributecrucible.org/new-

Partie 1 : différents télescopes pour différents types de photons de lumière

Pour identifier et mesurer les vitesses des galaxies de Laniakea, les cosmographes utilisent des télescopes qui peuvent recueillir les photons émis par ces galaxies lointaines. Les photons de différentes longueurs d'ondes se propagent à travers le cosmos, à la vitesse de la lumière dans le vide. Le télescope Canada-France-Hawaï (TCFH) et son miroir de 3,60 m de diamètre est situé au sommet du Mauna Kea à Hawaï à une altitude de 4 204 m. C'est un télescope optique qui est sensible aux lumières visible et infrarouge du cosmos.

Ressources naturelles Canada.
Lien web : www.rncan.gc.ca





- 1.1. À partir de la lecture du document ci-dessus, le TCFH peut-il capter des photons d'énergie de haute ou basse fréquence ?
- 1.2. Quel est l'ordre de grandeur de la longueur d'onde des photons que peut capter le TCFH ? Justifier votre réponse.



Le Green Bank Telescope (GBT) (États-Unis) est un radiotélescope de 110 m de diamètre qui permet de capter des photons invisibles pour nos yeux. Le rayonnement radio s'étend du millimètre au kilomètre. À titre d'exemple, le GBT est sensible aux ondes de longueur d'onde de 10 cm, comme celles utilisées pour les téléphones portables. C'est pour cette raison qu'il est interdit d'utiliser un téléphone portable (ou même un four micro-onde) dans un environnement proche du GBT.

<https://techcrunc>

- 1.3. Le GBT peut-il capter des photons dont la longueur d'onde est plus courte ou plus longue que le TCFH ? Justifier votre réponse.
- 1.4. Quelle est la valeur de la fréquence des ondes radio utilisées par les téléphones portables ?
- 1.5. Expliquer pourquoi on ne peut pas utiliser un téléphone portable dans un environnement proche du GBT.

Partie 2 : énergie d'un photon galactique

- 2.1. Calculer la valeur de l'énergie d'un photon de longueur d'onde 10 cm, en Joule, puis en électronvolt (eV).
- 2.2. Pourquoi le télescope TCFH ne peut-il pas capter ce photon ? Justifier votre réponse.

Partie 3 : la mesure de la vitesse de rotation des galaxies à partir des photons émis par l'hydrogène

L'exploitation des données recueillies par le GBT permet de mesurer la valeur de la vitesse de rotation sur elle-même d'une galaxie spirale. Plus précisément, on peut mesurer la vitesse de rotation des nuages de gaz d'hydrogène présents à la périphérie de la galaxie. En effet, ces nuages de gaz d'hydrogène émettent de la lumière dont la longueur d'onde varie avec la vitesse de rotation de la galaxie spirale. Plus les galaxies tournent vite, plus elles sont riches en étoiles ; elles émettent alors davantage de lumière.



Modèle CCYC : ©DNE

Nom de famille (naissance) :


(Suivi s'il y a lieu, du nom d'usage)

Prénom(s) :

N° candidat : N° d'inscription :

(Les numéros figurent sur la convocation.)

Né(e) le : / /

 Liberté - Égalité - Fraternité
RÉPUBLIQUE FRANÇAISE

1.1

On considère dans un premier temps un photon émis par un atome d'hydrogène qui passe du niveau d'énergie $n = 3$ au niveau d'énergie $n = 2$.

3.1. Quelle est la valeur de la longueur d'onde du photon émis ?

3.2. À quel domaine du spectre électromagnétique appartient cette longueur d'onde ? Justifier.

3.3. Ce photon peut-il être capté par le GBT ? Justifier.

En fait, la mesure de la luminosité d'une galaxie lointaine s'effectue à partir de la raie d'émission de longueur d'onde 21 cm de l'atome d'hydrogène.

3.4. Calculer la valeur de la variation d'énergie à laquelle correspond cette émission ?

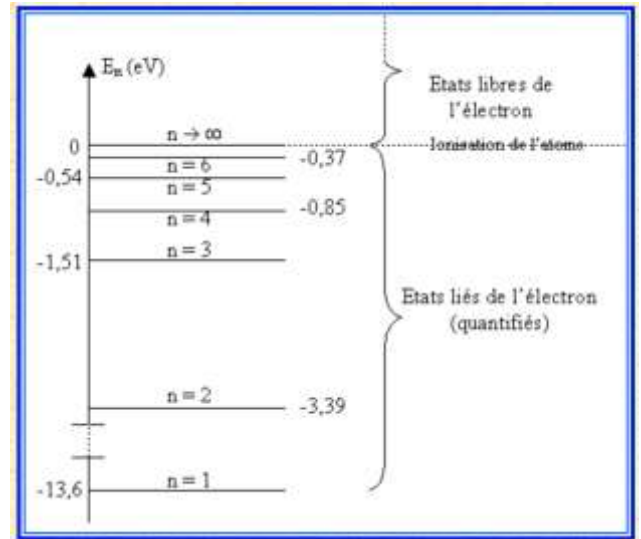


Diagramme de niveaux d'énergie de l'atome d'hydrogène
<http://e.m.c.2.free.fr/niveaux-energie-hydrogene-emission-absorption.htm>