

BACCALAURÉAT GÉNÉRAL
Épreuve Commune de Contrôle Continu
E3C

SCIENCES DE L'INGÉNIEUR

Coefficient 5

Durée : 2 heures

Aucun document autorisé

L'usage des calculatrices est autorisé dans les conditions suivantes :

- l'usage de calculatrice avec mode examen actif est autorisé ;
- l'usage de calculatrice sans mémoire, « type collègue » est autorisé.

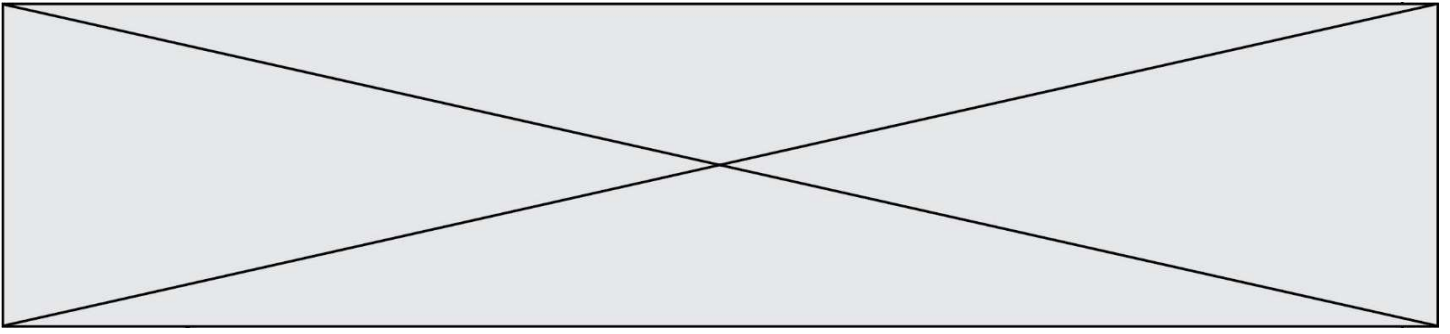
Information aux candidats : les candidats qui disposent d'une calculatrice avec mode examen devront l'activer le jour des épreuves et les calculatrices dépourvues de mémoire seront autorisées. Ainsi tous les candidats composeront sans aucun accès à des données personnelles pendant les épreuves.

Constitution du sujet

- **Étude d'une performance du produit**..... Pages 5 à 7
- **Commande du fonctionnement du produit ou modification de son comportement** Pages 8 à 11
- **Documents techniques** Pages 12 à 15
- **Documents réponses** Pages 16 à 17

Rappel du règlement de l'épreuve

Le sujet comporte deux exercices indépendants l'un de l'autre, équilibrés en durée et en difficulté, qui s'appuient sur un produit unique.




Fonctionnement :

Par l'intermédiaire de ses pieds, l'utilisateur génère l'inclinaison des plateformes par rapport à l'horizontal de manière indépendante. La mesure de cette inclinaison, est interprétée par la carte électronique comme une consigne de vitesse pour les moteurs. La carte électronique génère alors le signal correspondant de commande de la tension d'alimentation des moteurs.

Caractéristiques :

- Puissance Moteur : 700 Watts (2 moteurs de 350W) ;
- Batterie : 36 V - 4.4 Ah (lithium-ion) ;
- Autonomie : 1h environ ou 5 km avec une charge complète (varie selon le poids de l'utilisateur, le type de terrain pratiqué et la vitesse d'utilisation) ;
- Temps de chargement : 2 à 3 heures ;
- Vitesse maximale : 15 km·h⁻¹ en fonction du poids de l'utilisateur ;
- Charge maximale de l'utilisateur : 120 kg.

Modèle CCYC : ©DNE																				
Nom de famille (naissance) : <small>(Suivi s'il y a lieu, du nom d'usage)</small>																				
Prénom(s) :																				
N° candidat :											N° d'inscription :									
 RÉPUBLIQUE FRANÇAISE	<small>(Les numéros figurent sur la convocation.)</small>																			
	Né(e) le :			/			/													

1.1

EXERCICE 1 : ÉTUDE D'UNE PERFORMANCE DU PRODUIT

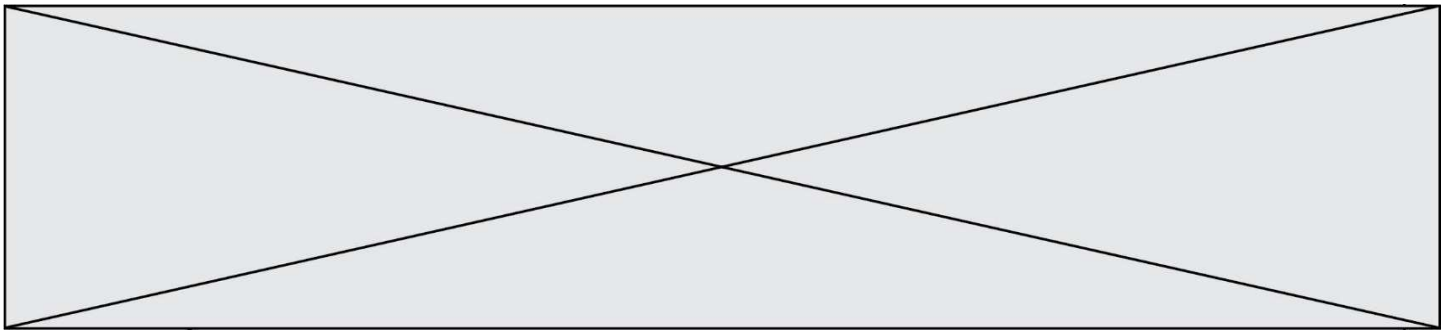
OBJECTIF : validation des données constructeur concernant la vitesse avant de laisser l'hoverboard circuler sur voie publique.

Question I-1 Donner le « service attendu » offert par le système du point de vue utilisateur, en complétant le diagramme de cas d'utilisation (voir document réponse DR1). Puis à partir du diagramme d'exigences (voir document technique DT1). Donner l'exigence permettant de définir la vitesse maximale du gyropode ainsi que la valeur permettant de satisfaire cette exigence.

Question I-2 À partir du diagramme de bloc interne « ibd » (voir document technique DT3), indiquer la nature et l'unité des grandeurs de flux et d'effort correspondant à la puissance en sortie du composant « moteur brushless ».

Dans le but de vérifier l'autonomie du gyropode, un modèle multi-physique de la chaîne de puissance est élaboré (voir document technique DT4). Il comprend entre autres, la batterie, les moteurs, et prend en compte la masse de la personne, les inerties des roues et la résistance au roulement. Nota : Le contrôle de la stabilité ne sera pas étudié ici.

La courbe de la fig1. est le résultat d'une simulation effectuée avec le modèle multi-physique du gyropode. La simulation a été réalisée en considérant une personne utilisant le gyropode ayant une masse de 70 Kg.



Cette courbe présente l'évolution de la vitesse de rotation d'une roue lors d'un déplacement en ligne droite à la vitesse maximale. La distance totale parcourue lors de ce parcours est de 0,7 mètres sur une durée de 0,2 s.

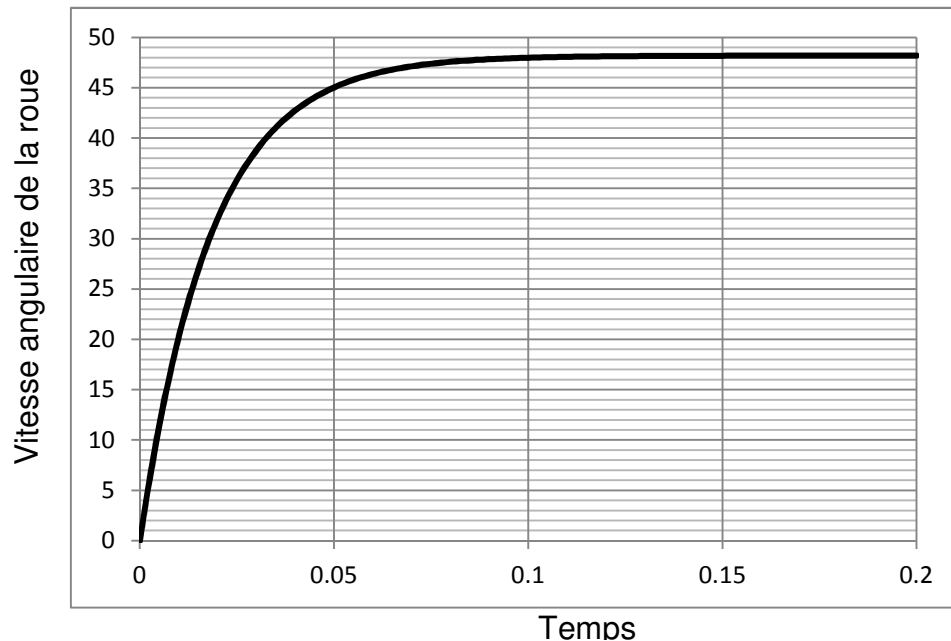


Fig1. Vitesse de rotation de la roue

Question I-3 Relever sur la fig. 1 précédente la valeur de la vitesse de rotation des roues en rad.s^{-1} du gyropode lorsque celui-ci atteint sa vitesse maximale. En faisant l'hypothèse d'un roulement sans glissement et sachant que les roues ont un diamètre de 6,5 pouces, soit 165,1 mm, en déduire la vitesse de translation du gyropode. Comparer cette valeur avec la valeur du constructeur. Conclure quant à l'exigence de vitesse maximale.

Étude de l'acquisition de l'information vitesse de rotation des roues

La commande des moteurs électriques nécessite de connaître précisément leur vitesse et leur sens de rotation.

Des capteurs à effet hall sont utilisés pour connaître à tout moment la vitesse du rotor, et adapter en conséquence l'alimentation des bobines et le champ magnétique. Le capteur va détecter le passage d'un pôle magnétique, et à partir de cette information le circuit de commande électronique assurera la commutation des bobines.

Modèle CCYC : ©DNE

Nom de famille (naissance) :


(Suivi s'il y a lieu, du nom d'usage)

Prénom(s) :

N° candidat : N° d'inscription :

(Les numéros figurent sur la convocation.)

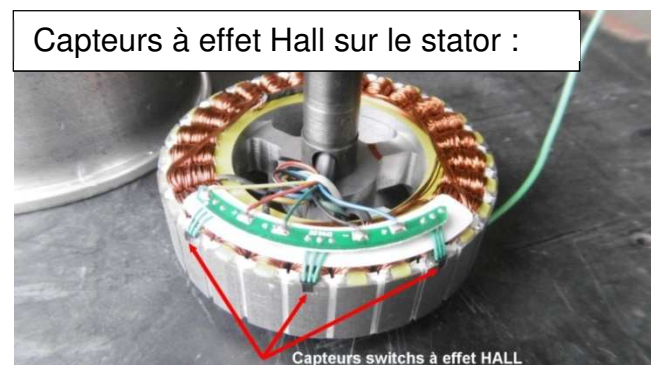

Né(e) le : / /

 Liberté • Égalité • Fraternité
RÉPUBLIQUE FRANÇAISE

1.1

Chacune des roues est équipée de 3 capteurs à effet Hall délivrant 3 signaux permettant d'obtenir les informations sur la vitesse et le sens de rotation.

Un moteur de roue comporte 27 bobines sur le stator (fixe) et 30 aimants permanents sur le rotor (tournant) constituant alternativement 15 paires de pôles positifs et négatifs



Un capteur à effet Hall envoie un signal haut lorsqu'il détecte le passage d'un pôle positif (état 1) et un signal bas lorsqu'il détecte le passage d'un pôle négatif (état 0).

Des essais ont permis de relever le signal reçu par un capteur à effet Hall sous la forme du chronogramme suivant, le gyropode fonctionnant à vitesse maximale :

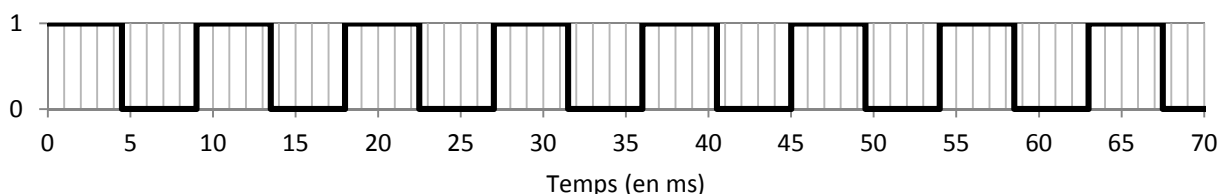
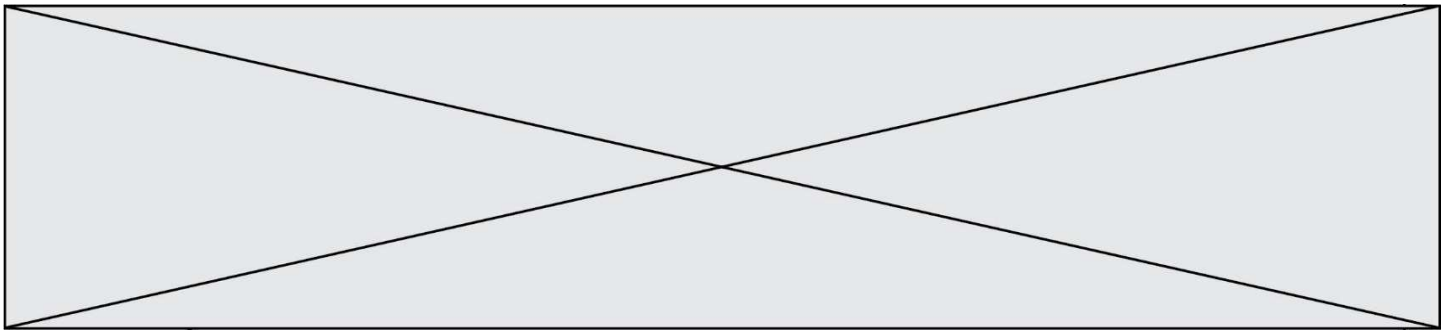


Fig.2 : Chronogramme du signal relevé au niveau d'un capteur à effet Hall

Question I-4 Quelle est la nature du signal provenant du capteur à effet Hall ? Déterminer, à partir de la mesure issue de ce capteur, la vitesse de rotation de la roue en $\text{rad}\cdot\text{s}^{-1}$.

Question I-5 Calculer la vitesse de translation atteinte par le gyropode en $\text{km}\cdot\text{h}^{-1}$ lors de l'essai (rappel : les roues ont un diamètre de 6,5 pouces, soit 165,1 mm).

Comparer ces résultats avec les données du constructeur et commenter les écarts observés.



EXERCICE 2 - MODIFICATION DU COMPORTEMENT DE L'HOVERBOARD

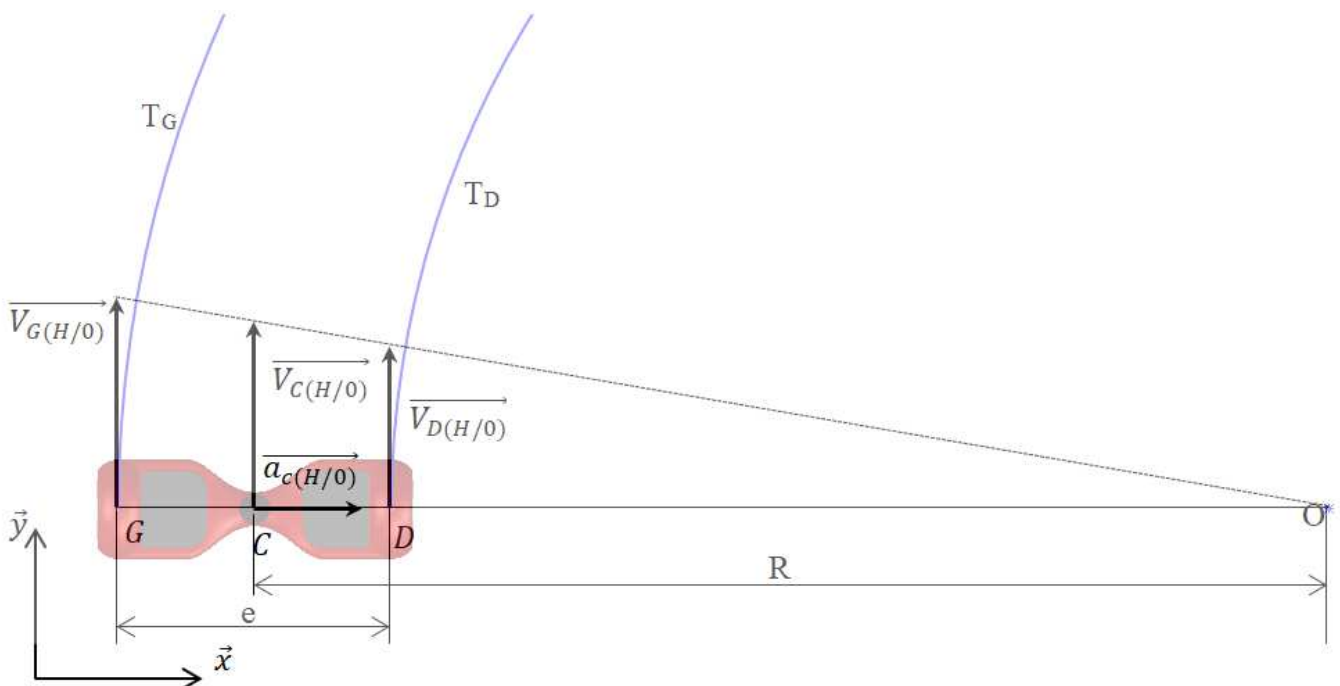
Lors de l'utilisation du gyropode, il est apparu que les chutes interviennent principalement lorsque l'utilisateur prend des virages trop serrés à trop grande vitesse.

En effet, dans le cas d'un virage, l'utilisateur génère une accélération centripète qui se traduit par une force d'inertie centrifuge qui le déstabilise.

Objectif : Pour améliorer la sécurité de son Hoverboard, le constructeur souhaite élaborer un algorithme permettant de limiter l'accélération centripète au centre du gyropode à $4 \text{ m}\cdot\text{s}^{-2}$ en limitant la norme de la vitesse du centre du gyropode tout en conservant sa direction, c'est-à-dire le rayon de courbure du virage.

Notations et limites : On se limite dans toute l'étude au cas d'un virage à droite.

On appelle « 0 » le référentiel lié au sol et « H » le référentiel lié au gyropode.



Modèle CCYC : ©DNE

Nom de famille (naissance) :


(Suivi s'il y a lieu, du nom d'usage)

Prénom(s) :

N° candidat : N° d'inscription :

(Les numéros figurent sur la convocation.)

Né(e) le : / /



RÉPUBLIQUE FRANÇAISE

1.1

On note :

- G et D les centres respectivement des roues gauche et droite ;
- C le centre du gyropode ;
- R le rayon de courbure du virage ;
- e l'empattement du gyropode ($e = GD$) ;
- $\vec{V}_{G(H/0)}$, $\vec{V}_{C(H/0)}$, $\vec{V}_{D(H/0)}$ les vitesses respectivement en G , C et D du gyropode par rapport au sol ;
- ω_G et ω_D les normes des vitesses de rotation des roues droite et gauche par rapport au gyropode.

Pour simplifier les écritures, on notera dans la suite :

$$V_G = \|\vec{V}_{G(H/0)}\|, V_C = \|\vec{V}_{C(H/0)}\|, V_D = \|\vec{V}_{D(H/0)}\|$$

Une première réflexion permet d'établir l'algorithme fonctionnel suivant :

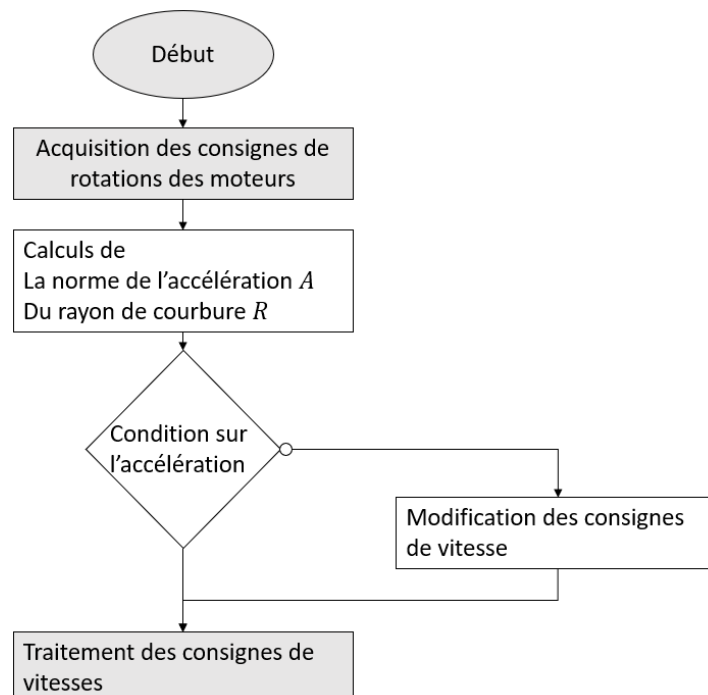
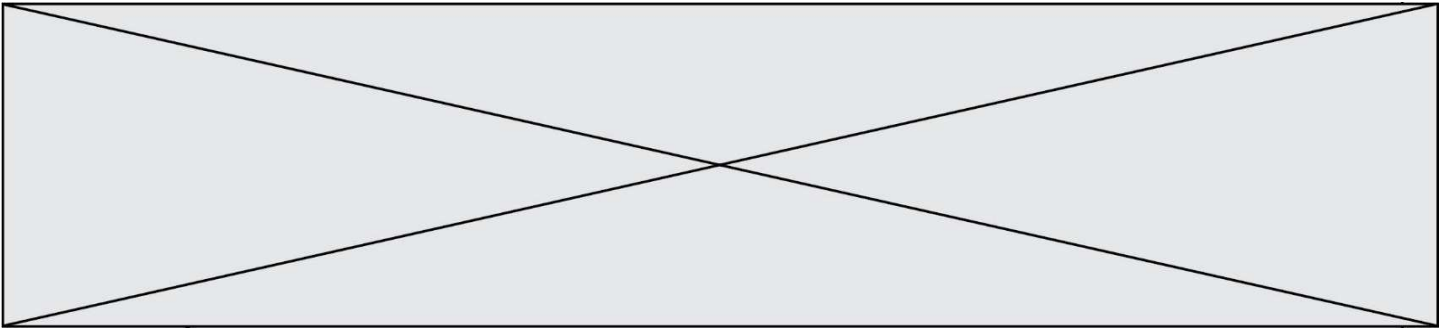


Fig.3 : Algorithme fonctionnel

La norme de la vitesse du centre C du gyropode par rapport au sol est la moyenne des vitesses en G et en D du gyropode par rapport au sol.



Question II-1 Donner l'expression de V_D et V_G en fonction des vitesses de rotation des roues ω_D et ω_G et du diamètre D des roues.
En déduire l'expression V_C en fonction de ω_D et ω_G et du diamètre D des roues.

D'autre part, on peut montrer que l'on a la relation :

$$\frac{V_G}{V_D} = \frac{R + e}{R - e}$$

Question II-2 Déterminer alors l'expression du rayon R en fonction de ω_D et ω_G .

La norme de l'accélération centripète du centre C du gyropode par rapport au sol est donnée par :

$$A = \|\overrightarrow{a_{c(H/O)}}\| = \frac{V_C}{R^2}$$

Ainsi, si on conserve le rayon R et que l'on impose A , on a $\omega_G = 2 \cdot \frac{R+e}{D} \cdot R \cdot A$

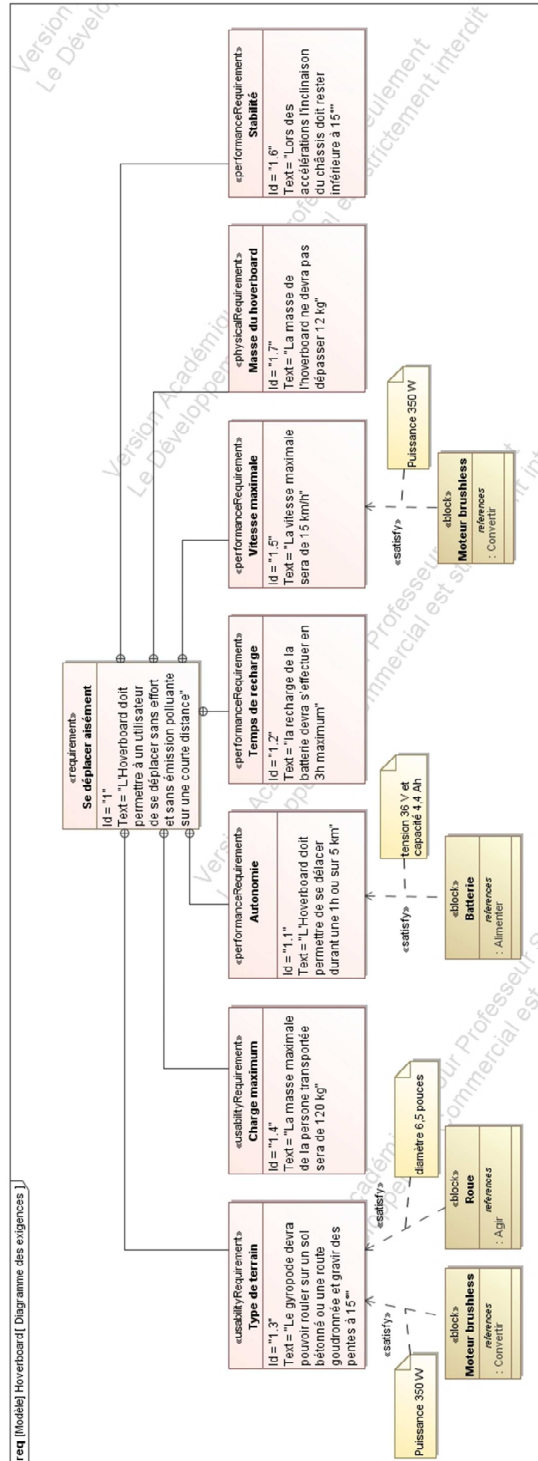
Question II-3 Quelle est alors l'expression de ω_D en fonction de R , e , D et A ?

Question II-4 Reprendre l'algorithme fonctionnel fig. 3 donné page précédente, le refaire en introduisant les résultats des questions II.1 à II.3. Vous pouvez ajouter les blocs (étapes) qui vous semblent nécessaires.

Vous ne modifierez pas les blocs grisés.

DOCUMENTS TECHNIQUES

DT1 Diagramme des exigences



Modèle CCYC : ©DNE

Nom de famille (naissance) :

(Suivi s'il y a lieu, du nom d'usage)

Prénom(s) :

N° candidat :

N° d'inscription :



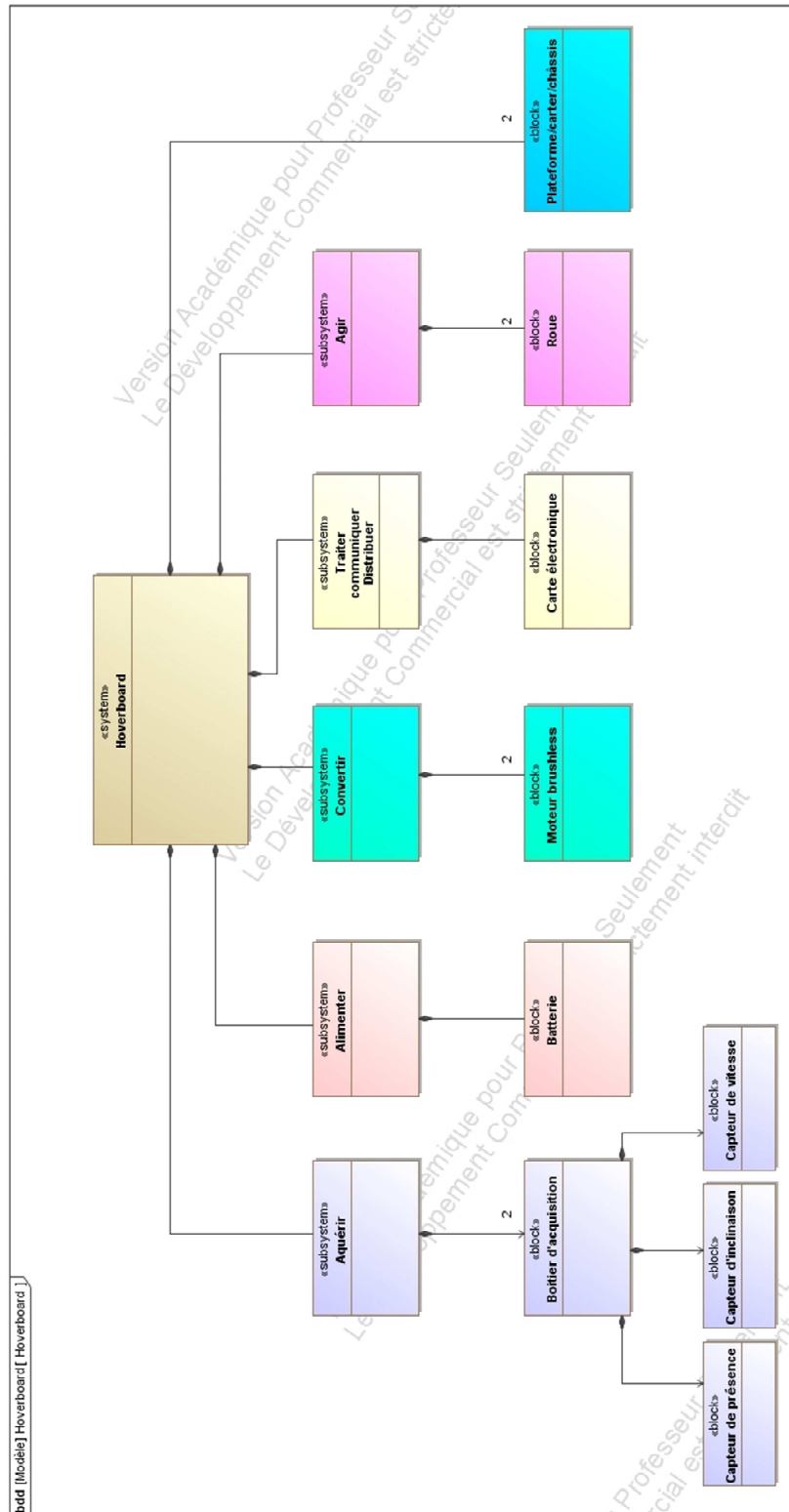
Liberté • Égalité • Fraternité
RÉPUBLIQUE FRANÇAISE

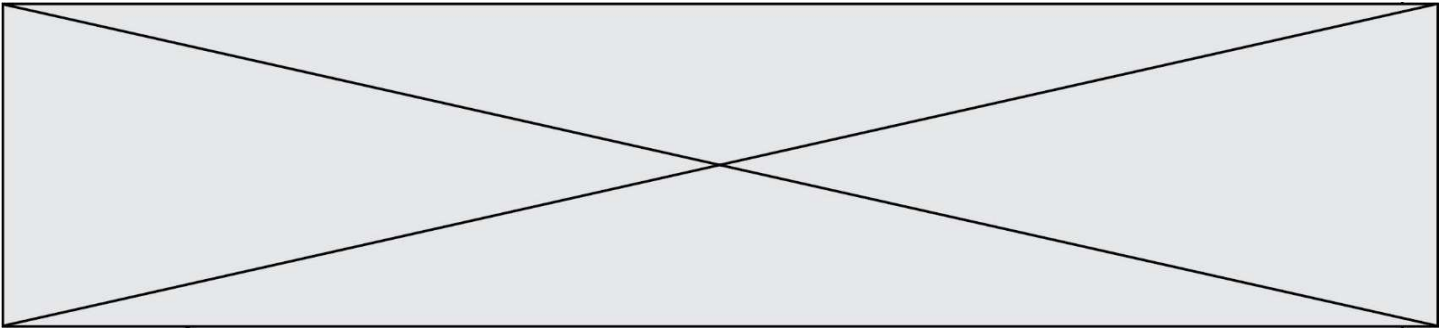
Né(e) le :

(Les numéros figurent sur la convocation.)

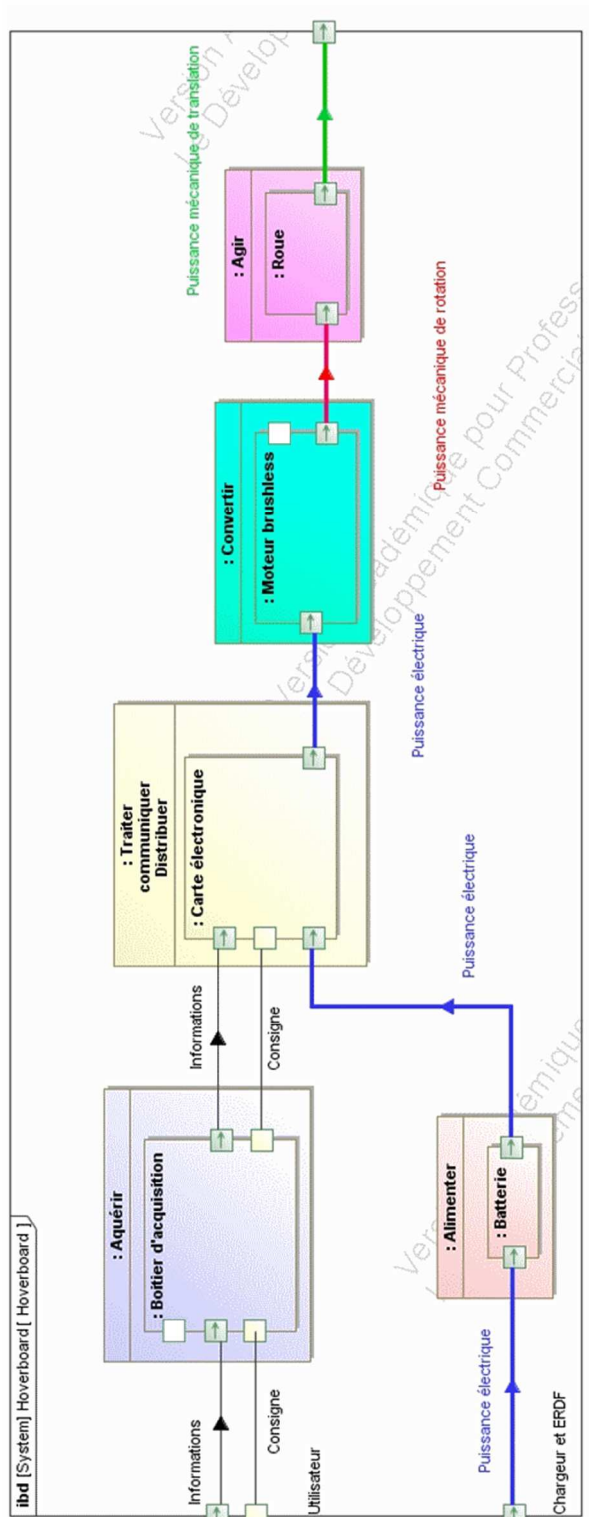
1.1

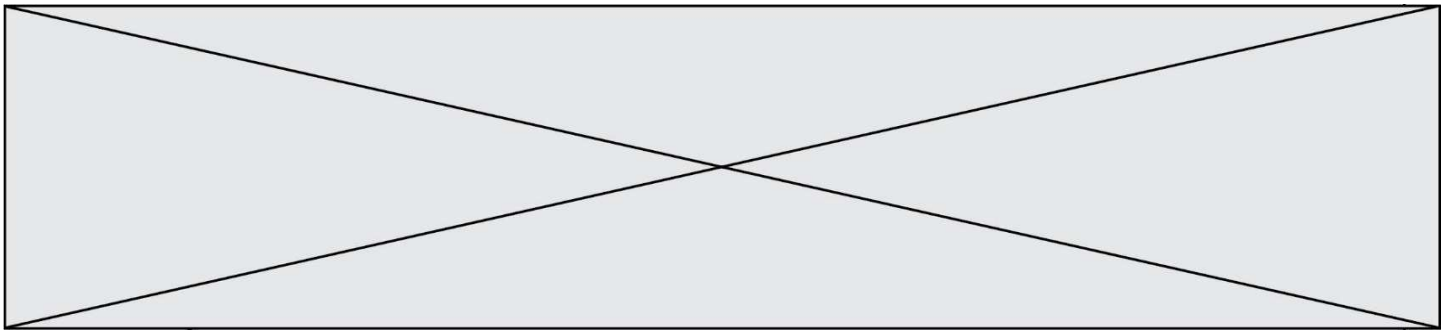
DT2 Diagramme de définition de blocs





DT3 Diagramme de blocs internes (partiel)

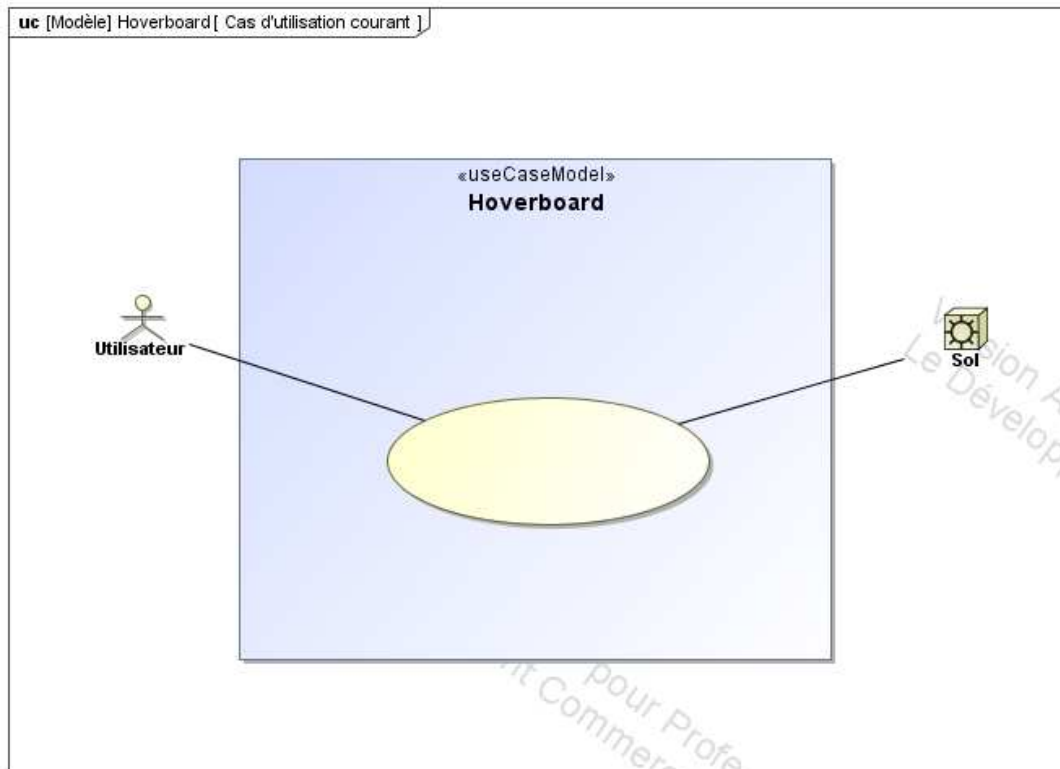




DOCUMENTS RÉPONSES

DR1

Question I-1 : Diagramme de cas d'utilisations



Modèle CCYC : ©DNE

Nom de famille (naissance) :

(Suivi s'il y a lieu, du nom d'usage)

Prénom(s) :

N° candidat :

N° d'inscription :



Né(e) le :

(Les numéros figurent sur la convocation.)

1.1

DR2

Question II-5 : Diagramme de blocs internes

