

Thème A : types de base

Réponse à la question 1	A <input type="checkbox"/>	B <input type="checkbox"/>	C <input type="checkbox"/>	D <input type="checkbox"/>
Réponse à la question 2	A <input type="checkbox"/>	B <input type="checkbox"/>	C <input type="checkbox"/>	D <input type="checkbox"/>
Réponse à la question 3	A <input type="checkbox"/>	B <input type="checkbox"/>	C <input type="checkbox"/>	D <input type="checkbox"/>
Réponse à la question 4	A <input type="checkbox"/>	B <input type="checkbox"/>	C <input type="checkbox"/>	D <input type="checkbox"/>
Réponse à la question 5	A <input type="checkbox"/>	B <input type="checkbox"/>	C <input type="checkbox"/>	D <input type="checkbox"/>
Réponse à la question 6	A <input type="checkbox"/>	B <input type="checkbox"/>	C <input type="checkbox"/>	D <input type="checkbox"/>

Thème B : types construits

Réponse à la question 1	A <input type="checkbox"/>	B <input type="checkbox"/>	C <input type="checkbox"/>	D <input type="checkbox"/>
Réponse à la question 2	A <input type="checkbox"/>	B <input type="checkbox"/>	C <input type="checkbox"/>	D <input type="checkbox"/>
Réponse à la question 3	A <input type="checkbox"/>	B <input type="checkbox"/>	C <input type="checkbox"/>	D <input type="checkbox"/>
Réponse à la question 4	A <input type="checkbox"/>	B <input type="checkbox"/>	C <input type="checkbox"/>	D <input type="checkbox"/>
Réponse à la question 5	A <input type="checkbox"/>	B <input type="checkbox"/>	C <input type="checkbox"/>	D <input type="checkbox"/>
Réponse à la question 6	A <input type="checkbox"/>	B <input type="checkbox"/>	C <input type="checkbox"/>	D <input type="checkbox"/>

Thème C : traitement de données en tables

Réponse à la question 1	A <input type="checkbox"/>	B <input type="checkbox"/>	C <input type="checkbox"/>	D <input type="checkbox"/>
Réponse à la question 2	A <input type="checkbox"/>	B <input type="checkbox"/>	C <input type="checkbox"/>	D <input type="checkbox"/>
Réponse à la question 3	A <input type="checkbox"/>	B <input type="checkbox"/>	C <input type="checkbox"/>	D <input type="checkbox"/>
Réponse à la question 4	A <input type="checkbox"/>	B <input type="checkbox"/>	C <input type="checkbox"/>	D <input type="checkbox"/>
Réponse à la question 5	A <input type="checkbox"/>	B <input type="checkbox"/>	C <input type="checkbox"/>	D <input type="checkbox"/>
Réponse à la question 6	A <input type="checkbox"/>	B <input type="checkbox"/>	C <input type="checkbox"/>	D <input type="checkbox"/>

Thème D : interactions entre l'homme et la machine sur le Web

Réponse à la question 1	A <input type="checkbox"/>	B <input type="checkbox"/>	C <input type="checkbox"/>	D <input type="checkbox"/>
Réponse à la question 2	A <input type="checkbox"/>	B <input type="checkbox"/>	C <input type="checkbox"/>	D <input type="checkbox"/>
Réponse à la question 3	A <input type="checkbox"/>	B <input type="checkbox"/>	C <input type="checkbox"/>	D <input type="checkbox"/>
Réponse à la question 4	A <input type="checkbox"/>	B <input type="checkbox"/>	C <input type="checkbox"/>	D <input type="checkbox"/>
Réponse à la question 5	A <input type="checkbox"/>	B <input type="checkbox"/>	C <input type="checkbox"/>	D <input type="checkbox"/>
Réponse à la question 6	A <input type="checkbox"/>	B <input type="checkbox"/>	C <input type="checkbox"/>	D <input type="checkbox"/>

Modèle CCYC : ©DNE

Nom de famille (naissance) :
(Suivi s'il y a lieu, du nom d'usage)

Prénom(s) :

N° candidat :

N° d'inscription :



Né(e) le :

(Les numéros figurent sur la convocation.)

1.1

Thème E : architectures matérielles et systèmes d'exploitation

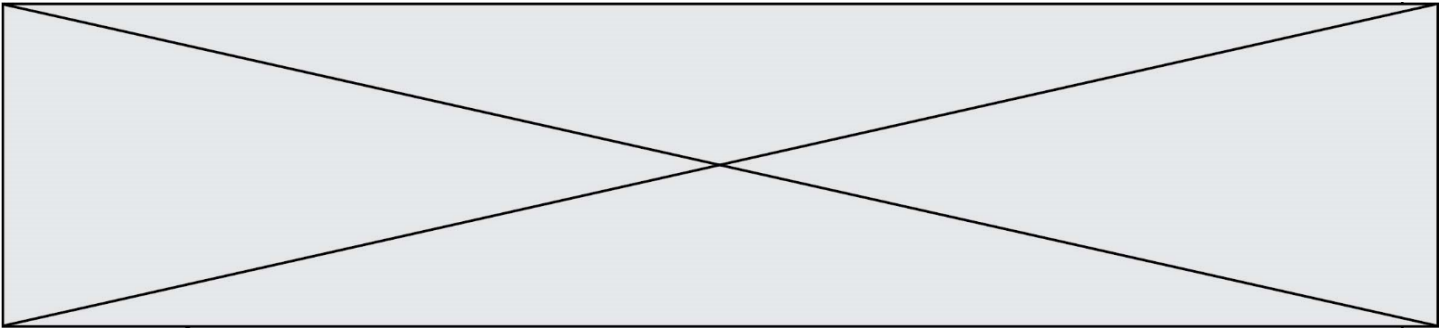
- Réponse à la question 1 A B C D
Réponse à la question 2 A B C D
Réponse à la question 3 A B C D
Réponse à la question 4 A B C D
Réponse à la question 5 A B C D
Réponse à la question 6 A B C D

Thème F : langages et programmation

- Réponse à la question 1 A B C D
Réponse à la question 2 A B C D
Réponse à la question 3 A B C D
Réponse à la question 4 A B C D
Réponse à la question 5 A B C D
Réponse à la question 6 A B C D

Thème G : algorithmique

- Réponse à la question 1 A B C D
Réponse à la question 2 A B C D
Réponse à la question 3 A B C D
Réponse à la question 4 A B C D
Réponse à la question 5 A B C D
Réponse à la question 6 A B C D



Modèle CCYC : ©DNE

Nom de famille (naissance) :


(Suivi s'il y a lieu, du nom d'usage)

Prénom(s) :

N° candidat : N° d'inscription :

(Les numéros figurent sur la convocation.)

Né(e) le : / /



1.1

Thème A : types de base

Question A.1

Quelle est la valeur de x à la fin de l'exécution du script Python suivant ?

```
x = 1
for i in range(10):
    x = x * 2
```

Réponses

- A 2
- B 1024
- C 2048
- D 2000000000

Question A.2

Quelle est la représentation hexadécimale de l'entier dont la représentation binaire s'écrit :

0100 1001 1101 0011 ?

Réponses

- A 18899
- B 3D94
- C 49D3
- D 93A3

Question A.3

Combien d'entiers positifs ou nuls (entiers non signés) peut-on représenter en machine sur 32 bits ?

Réponses

- A $2^{32} - 1$
- B 2^{32}
- C 2×32
- D 32^2

Question A.4

En binaire, quelle est l'écriture de l'entier négatif -58 codé en complément à deux sur un octet (huit bits) ?

Réponses

- A 0011 1010
- B 1011 1010
- C 1100 0110
- D 1100 0100

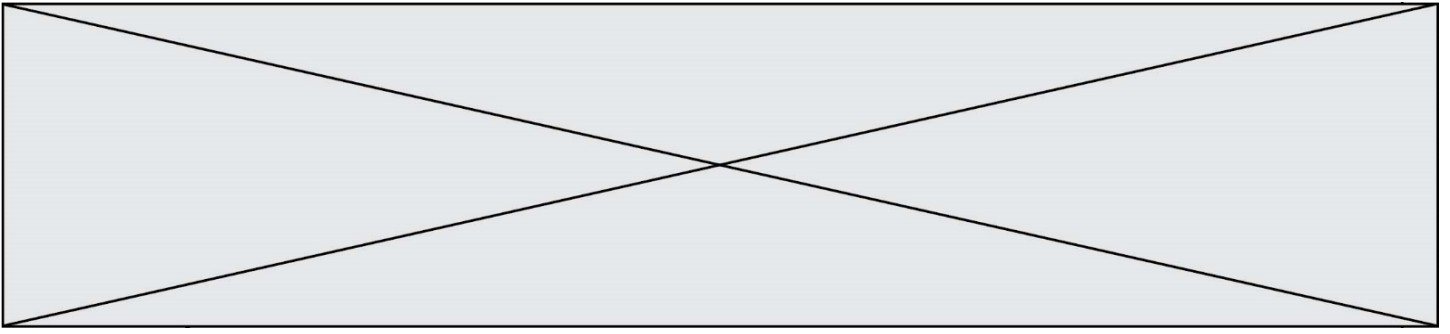
Question A.5

Deux entiers positifs ont pour écriture en base 16 : A7 et 84.

Quelle est l'écriture en base 16 de leur somme ?

Réponses

- A 1811
- B 12B
- C 13A
- D A784



Question A.6

Quel est un avantage du codage UTF8 par rapport au codage ASCII ?

Réponses

- A il permet de coder un caractère sur un octet au lieu de deux
- B il permet de coder les majuscules
- C il permet de coder tous les caractères
- D il permet de coder différentes polices de caractères

Thème B : types construits

Question B.1

Si on tape dans la console d'exécution la commande :

```
[1, 4, 3] + [2, 4, 5]
```

qu'obtient-on ?

Réponses

- A [3, 8, 8]
- B [19]
- C [1, 4, 3, 2, 4, 5]
- D un message d'erreur car l'addition n'est pas compatible avec les listes

Question B.2

On a défini un dictionnaire :

```
contacts = {'Paul': '0601010182', 'Jacques': '0602413824', 'Claire': '0632451153'}
```

Quelle instruction écrire pour ajouter à ce dictionnaire un nouveau contact nommé Juliette avec le numéro de téléphone 0603040506 ?

Réponses

- A 'Juliette': '0603040506'
- B contacts.append('Juliette': '0603040506')
- C contacts['Juliette'] = '0603040506'
- D contacts.append('Juliette', '0603040506')

Question B.3

On définit ainsi le tableau t = [[1,5,7], [8,4,2], [3,9,6]]

Quel jeu d'indices permet d'obtenir l'élément "9" de ce tableau ?

Réponses

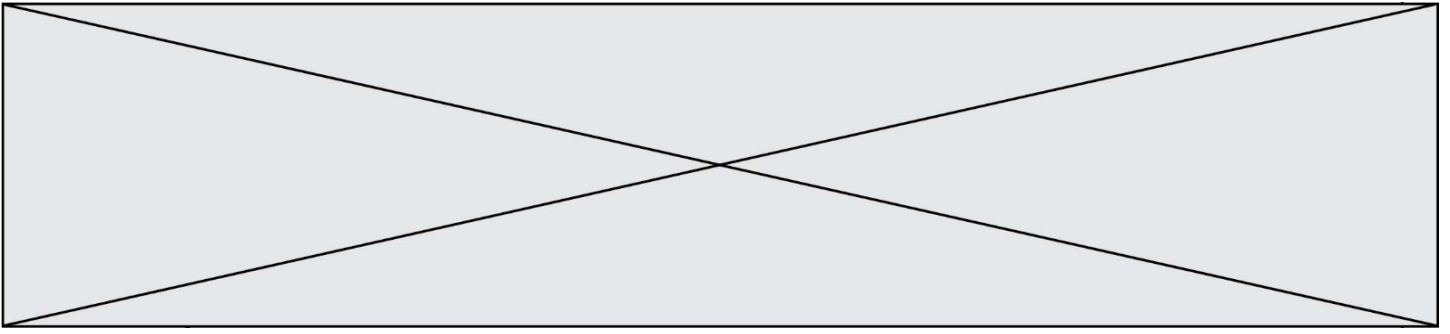
- A t[3][2]
- B t[2][3]
- C t[1][2]
- D t[2][1]

Question B.4

On veut affecter à t la valeur [[0,1,2], [3,4,5], [6,7,8], [9,10,11], [12,13,14]].

Pour cela on utilise le code suivant. Par quoi doit-on remplacer les pointillés ?

```
n = 5
p = 3
t = [ [ ..... for j in range(p) ] for i in range(n) ]
```

Thème C : traitement de données en tables

Question C.1

On considère des dictionnaires comme

```
{ 'nom': 'Jérôme', 'NSI': 16.2, 'maths': 11.4, 'physique': 13.0 }
```

pour retenir les notes d'un élève.

On définit :

```
def somme(notes):  
    return notes['NSI'] + notes['maths'] + notes['physique']  
  
def plusPetit(n1, n2):  
    if n1['NSI'] < n2['NSI']:  
        return True  
    if n1['NSI'] == n2['NSI']:  
        if somme(n1) < somme(n2):  
            return True  
        elif somme(n1) == somme(n2) and n1['nom'] < n2['nom']:  
            return True  
    return False
```

pour définir un ordre croissant sur ces dictionnaires.

Ranger dans l'ordre croissant les dictionnaires suivants :

```
n1 = { 'nom': "Albert", 'NSI': 12.3, 'maths': 14.0, 'physique': 8.7 }  
n2 = { 'nom': "Béatrice", 'NSI': 12.3, 'maths': 11.0, 'physique': 12.5 }  
n3 = { 'nom': "Colin", 'NSI': 12.3, 'maths': 7.0, 'physique': 15.7 }  
n4 = { 'nom': "Daniel", 'NSI': 13.4, 'maths': 9.0, 'physique': 5.2 }  
n5 = { 'nom': "Emilie", 'NSI': 16.1, 'maths': 5.3, 'physique': 14.4 }
```

Réponses

- A n1, n2, n3, n4, n5
- B n1, n4, n2, n4, n5
- C n1, n3, n2, n4, n5
- D n5, n4, n2, n3, n1

Question C.2

On exécute le code suivant :

```
collection = [('Renault', '4L', 1974, 30),  
             ('Peugeot', '504', 1970, 82),  
             ('Citroën', 'Traction', 1950, 77)]
```

Que vaut `collection[1][2]` ?

Réponses

- A 1970
- B '4L'
- C ('Peugeot', '504', 1970, 82)
- D ('Renault', '4L', 1974, 30)

Modèle CCYC : ©DNE

Nom de famille (naissance) :

(Suivi s'il y a lieu, du nom d'usage)

Prénom(s) :

N° candidat :

N° d'inscription :



Liberté • Égalité • Fraternité
RÉPUBLIQUE FRANÇAISE

Né(e) le :

(Les numéros figurent sur la convocation.)

1.1

Question C.3

On définit :

```
contacts = { 'Toto': 'toto@nsi.fr', 'Chloé': 'chloe@nsi.com',  
            'Paul': 'paul@nsi.net', 'Clémence': 'clemence@nsi.org' }
```

Parmi les propositions suivantes, laquelle est exacte ?

Réponses

- A 'Chloé' est une **valeur** de la variable contacts
- B 'Chloé' est une **clé** de la variable contacts
- C 'Chloé' est un **attribut** de la variable contacts
- D 'Chloé' est un **champ** de la variable contacts

Question C.4

Quelle expression Python permet d'accéder au numéro de téléphone de Tournesol, sachant que le répertoire a été défini par l'affectation suivante :

```
repertoire = [{'nom': 'Dupont', 'tel': '5234'},  
             {'nom': 'Tournesol', 'tel': '5248'}, {'nom': 'Dupond', 'tel': '3452'}]
```

Réponses

- A repertoire['Tournesol']
- B repertoire['tel'][1]
- C repertoire[1]['tel']
- D repertoire['Tournesol']['tel']

Question C.5

Qu'est-ce que le CSV ?

Réponses

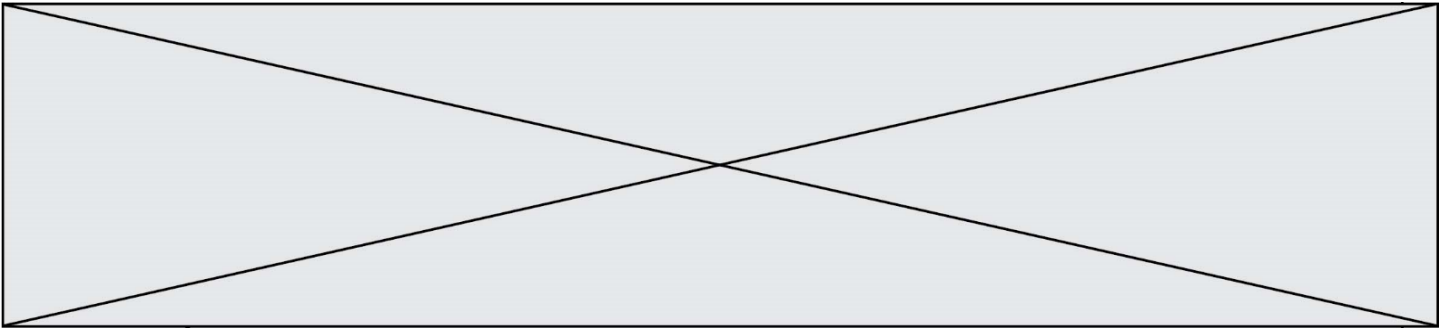
- A Un langage de programmation
- B Un format de fichier permettant de stocker de l'information
- C Un algorithme permettant de rechercher une information dans un fichier
- D Un format de fichier permettant de définir le style d'une page web

Question C.6

Qu'est-ce qu'un fichier CSV ?

Réponses

- A une librairie Python permettant l'affichage des images
- B un utilitaire de traitement d'image
- C un format d'image
- D un format de données



Thème D : interactions entre l'homme et la machine sur le Web

Question D.1

Quelle est la balise HTML utilisée pour indiquer un titre de niveau d'importance maximal ?

Réponses

- A la balise <h0>
- B la balise <h1>
- C la balise <head>
- D la balise <header>

Question D.2

Quel est le nom d'un protocole qui permet à un client de faire une requête de page Web auprès d'un serveur ?

Réponses

- A WWW
- B FTP
- C HTTP
- D DNS

Question D.3

Quel langage est interprété ou exécuté côté serveur ?

Réponses

- A JavaScript
- B PHP
- C HTML
- D CSS

Question D.4

Parmi les propriétés suivantes d'une balise <button /> dans une page HTML, laquelle doit être rédigée en langage JavaScript ?

Réponses

- A la propriété name
- B la propriété type
- C la propriété onclick
- D la propriété id

Question D.5

Quel est le nom de l'événement généré lorsque l'utilisateur clique sur un bouton de type button dans une page HTML ?

Réponses

- A action
- B mouse
- C submit
- D click

Question D.6

Dans un formulaire sur un page web, pour transmettre des données sécurisées comme un mot de passe ou un numéro de carte bancaire, il vaut mieux utiliser la méthode :

Réponses

- A HEAD
- B GET
- C HTTPS
- D POST

Modèle CCYC : ©DNE

Nom de famille (naissance) :

(Suivi s'il y a lieu, du nom d'usage)

Prénom(s) :

N° candidat :

N° d'inscription :



Liberté • Égalité • Fraternité
RÉPUBLIQUE FRANÇAISE

Né(e) le :

(Les numéros figurent sur la convocation.)

1.1

Thème E : architectures matérielles et systèmes d'exploitation

Question E.1

Quel matériel permet d'interconnecter des **réseaux** entre eux :

Réponses

- A un routeur
- B un commutateur (ou *switch*)
- C un interconnecteur
- D un serveur

Question E.2

Sur un ordinateur, où est stocké de manière permanente le système d'exploitation ?

Réponses

- A dans la mémoire RAM
- B sur le bus de donnée
- C sur le disque dur ou le disque SSD
- D dans le Cloud

Question E.3

Quel est le principe de l'encapsulation des données dans un réseau informatique ?

Réponses

- A Cacher les données afin que l'on ne puisse pas les lire
- B Mettre les données les unes à la suite des autres
- C Chiffrer les données afin que l'on ne puisse pas les lire
- D Inclure les données d'un protocole dans un autre protocole

Question E.4

Qu'effectue-t-on en lançant la commande suivante dans un terminal Linux :

```
cp /etc/professeur/fichier.conf /home/nsi/fichier.conf
```

Réponses

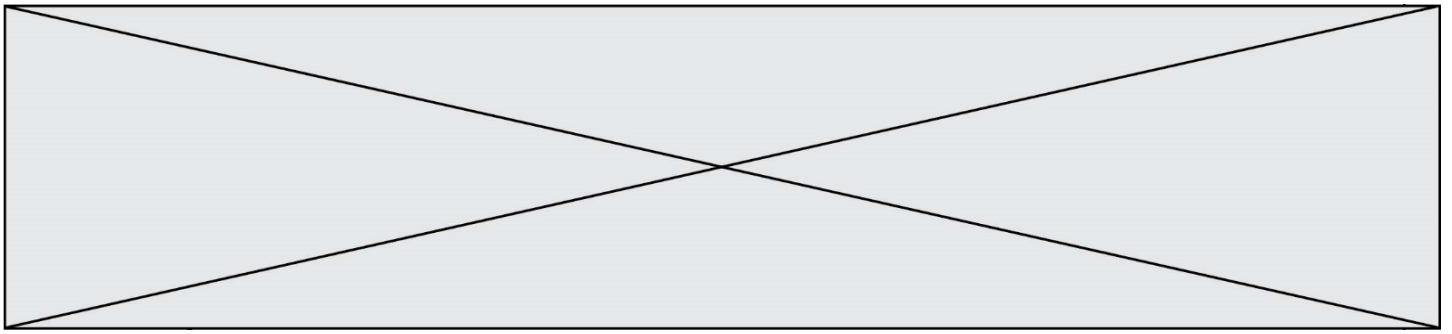
- A un déplacement de fichier
- B une copie de fichier
- C un renommage de fichier
- D un changement de répertoire

Question E.5

Identifier parmi les éléments suivants celui qui n'est pas un capteur.

Réponses

- A haut-parleur
- B caméra
- C accéléromètre
- D microphone



Question E.6

Lorsque, en ligne de commande, on saisit la commande

```
rm *
```

ceci a pour effet :

Réponses

- A d'activer une télécommande
- B d'accéder au répertoire parent du répertoire courant
- C d'effacer tous les fichiers du répertoire courant et ses sous-répertoires
- D d'effacer tous les fichiers du répertoire courant

Thème F : langages et programmation

Question F.1

n étant un entier strictement positif, la fonction suivante calcule sa factorielle, c'est-à-dire le produit $1 \times 2 \times 3 \times \dots \times (n - 1) \times n$. Comment faut-il écrire la ligne en pointillée ci-dessous pour ce faire ?

```
def factorielle(n):  
    f = 1  
    .....  
    f = f * i  
    return f
```

Réponses

- A `for i in range(1,n):`
- B `for i in range(n+1):`
- C `for i in range(0,n):`
- D `for i in range(1,n+1):`

Question F.2

La fonction Python suivante ne calcule pas toujours correctement le résultat de x^y pour des arguments entiers. Parmi les tests suivants, lequel va permettre de détecter l'erreur ?

```
def puissance (x,y):  
    p = x  
    for i in range (y - 1):  
        p = p * x  
    return p
```

Réponses

- A `puissance(2,0)`
- B `puissance(2,1)`
- C `puissance(2,2)`
- D `puissance(2,10)`

Modèle CCYC : ©DNE

Nom de famille (naissance) :

(Suivi s'il y a lieu, du nom d'usage)

Prénom(s) :

N° candidat :

N° d'inscription :



Liberté • Égalité • Fraternité
RÉPUBLIQUE FRANÇAISE

Né(e) le :

(Les numéros figurent sur la convocation.)

1.1

Question F.3

Soit T un tableau de flottants, a et b deux entiers. On considère une fonction nommée somme renvoyant la somme des éléments du tableau d'indice compris entre a et b définie par :

```
def somme(T, a, b):  
    S = 0  
    for i in range(a, b+1) :  
        S = S + T[i]  
    return S
```

Quel ensemble de préconditions doit-on prévoir pour cette fonction ?

Réponses

- A a < b
- B a < longueur(T) et b < longueur(T)
- C a <= b < longueur(T)
- D a <= b < longueur(T) et T est un tableau trié

Question F.4

On considère le code suivant :

```
def puiss(y,x):  
    res = y  
    for i in range(x):  
        res = res*y  
    return res
```

Quelles sont les préconditions sur les arguments ?

Réponses

- A les arguments doivent être obligatoirement de type entier
- B les arguments peuvent être de type entier ou flottant
- C le type des arguments n'a pas d'importance
- D il n'y a pas de préconditions dans ce cas

Question F.5

La fonction suivante ne calcule pas toujours correctement le maximum des deux nombres donnés en argument.

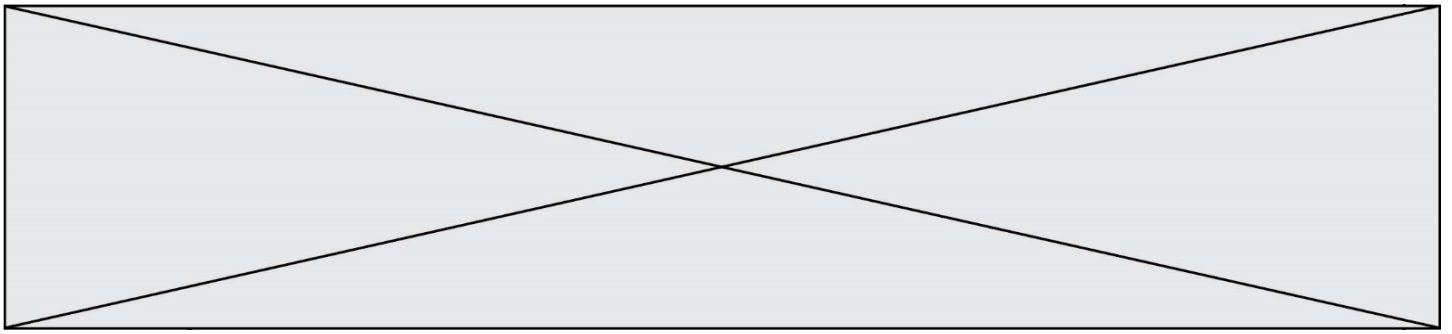
On rappelle que abs(z) calcule la valeur absolue du nombre z.

```
def maxi(x,y) :  
    m = (x-y+abs(x+y))/2  
    return m
```

Parmi les tests suivants, lequel va détecter l'erreur ?

Réponses

- A maxi(3,-2)
- B maxi(2,2)
- C maxi(3,2)
- D maxi(2,3)



Question F.6

Karine écrit une bibliothèque Python, nommée `GeomPlan`, de géométrie plane dont voici un extrait :

```
import math

def aireDisque(R):
    return math.pi * R**2
```

Gilles utilise cette bibliothèque pour calculer l'aire d'un disque de rayon 8.
Laquelle des instructions suivantes renvoie un message d'erreur ?

Réponses

- A `import GeomPlan`
`GeomPlan.aireDisque(8)`
- B `import GeomPlan`
`aireDisque(8)`
- C `from GeomPlan import *`
`aireDisque(8)`
- D `from GeomPlan import aireDisque`
`aireDisque(8)`

Thème G : algorithmique

Question G.1

On dispose de sacs de jetons portant les nombres 10, 5, 3 et 1.

On veut obtenir un total de 21 en utilisant ces jetons.

Si on utilise le principe de l'algorithme glouton, quelle addition va-t-on réaliser pour obtenir ce total de 21 ?

Réponses

- A $5 + 5 + 5 + 5 + 1$
- B $10 + 5 + 3 + 3$
- C $10 + 5 + 5 + 1$
- D $10 + 10 + 1$

Modèle CCYC : ©DNE

Nom de famille (naissance) :

(Suivi s'il y a lieu, du nom d'usage)

Prénom(s) :

N° candidat :

N° d'inscription :



Liberté · Égalité · Fraternité
RÉPUBLIQUE FRANÇAISE

Né(e) le :

(Les numéros figurent sur la convocation.)

1.1

Question G.2

Un algorithme de tri d'une liste d'entiers est implémenté de la façon suivante :

```
def trier(L) :  
    for i in range(len(L)):  
        indice_min = i  
        for j in range(i+1, len(L)):  
            if L[j] < L[indice_min] :  
                indice_min = j  
            L[i], L[indice_min] = L[indice_min], L[i]  
            # assertion vraie à cet endroit  
    return L
```

Parmi les assertions suivantes laquelle reste vraie à chaque itération de la boucle, à l'endroit indiqué ci-dessus ?

Réponses

- A la sous-liste $L[0:i+1]$ contient les i plus grandes valeurs de L triées par ordre décroissant
- B la sous-liste $L[0:i+1]$ contient les i plus grandes valeurs de L triées par ordre croissant
- C la sous-liste $L[0:i+1]$ contient les i plus petites valeurs de L triées par ordre décroissant
- D la sous-liste $L[0:i+1]$ contient les i plus petites valeurs de L triées par ordre croissant

Question G.3

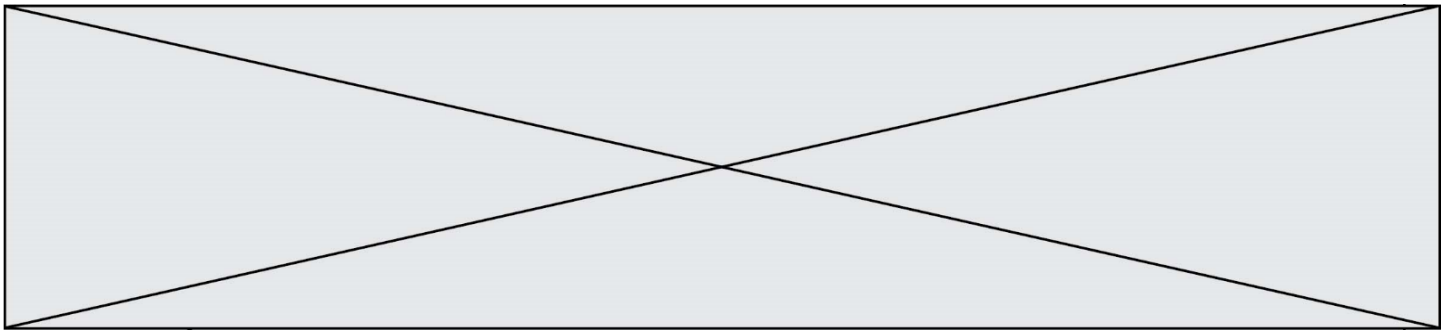
On définit la fonction suivante :

```
def traitement(liste) :  
    m = liste[0]  
    for i in range (len(liste)) :  
        if liste[i] > m:  
            m = liste[i]  
    return m
```

Que vaut `traitement([-2,5,6,-10,35])` ?

Réponses

- A None
- B -10
- C -6
- D 35



Question G.4

La fonction ci-dessous permet d'effectuer une recherche par dichotomie de l'index m de l'élément x dans un tableau L de valeurs distinctes et triées.

```
def dichotomie(x,L):
    g = 0
    d = len(L)-1
    while g <= d:
        m = (g+d)//2
        if L[m] == x:
            return m
        elif L[m] < x:
            g = m+1
        else:
            d = m-1
    return None
```

Combien de fois la cinquième ligne du code de la fonction ($m = (g+d)//2$) sera-t-elle exécutée dans l'appel `dichotomie(32, [4, 5, 7, 25, 32, 50, 51, 60])` ?

Réponses

- A 1 fois
- B 2 fois
- C 3 fois
- D 4 fois

Question G.5

La fonction `maximum` doit renvoyer la valeur maximale d'un tableau de nombres. Par quoi doit-on remplacer les pointillés pour qu'elle donne le résultat attendu ?

```
def maximum(T):
    maxi = T[0]
    for i in range(len(T)):
        .... T[i] > maxi:
            .....
    return maxi
```

Réponses

- A `if` puis, sur la ligne suivante, `maxi = T[i]`
- B `while` puis, sur la ligne suivante, `maxi = T[i]`
- C `if` puis, sur la ligne suivante, `maxi = maxi + 1`
- D `while` puis, sur la ligne suivante, `maxi = maxi + 1`

Question G.6

Pour trier par sélection une liste de 2500 entiers, le nombre de comparaisons nécessaires à l'algorithme est de l'ordre de :

Réponses

- A $\sqrt{2500}$
- B 2500
- C 2500^2
- D 2^{2500}