

Modèle CCYC : ©DNE


Nom de famille (naissance) : (Suivi s'il y a lieu, du nom d'usage) :

Prénom(s) :

N° candidat : **N° d'inscription** :

(Les numéros figurent sur la convocation.)

Né(e) le : / /



1.1

ÉPREUVES COMMUNES DE CONTRÔLE CONTINU

CLASSE : Première

VOIE : Générale Technologique Toutes voies (LV)

ENSEIGNEMENT : spécialité Numérique et Sciences Informatiques (NSI)

DURÉE DE L'ÉPREUVE : 02 h 00

Niveaux visés (LV) : LVA LVB

Axes de programme :

CALCULATRICE AUTORISÉE : Oui Non

DICTIONNAIRE AUTORISÉ : Oui Non

Ce sujet contient des parties à rendre par le candidat avec sa copie. De ce fait, il ne peut être dupliqué et doit être imprimé pour chaque candidat afin d'assurer ensuite sa bonne numérisation.

Ce sujet intègre des éléments en couleur. S'il est choisi par l'équipe pédagogique, il est nécessaire que chaque élève dispose d'une impression en couleur.

Ce sujet contient des pièces jointes de type audio ou vidéo qu'il faudra télécharger et jouer le jour de l'épreuve.

Nombre total de pages : 15

L'épreuve consiste en 42 questions, rangées en 7 thèmes.

Pour chaque question, le candidat gagne 3 points s'il choisit la bonne réponse, perd 1 point s'il choisit une réponse fautive. S'il ne répond pas ou choisit plusieurs réponses, il ne gagne ni ne perd aucun point.

Le total sur chacun des 7 thèmes est ramené à 0 s'il est négatif.

La note finale s'obtient en divisant le total des points par 6,3 et en arrondissant à l'entier supérieur.

Le candidat indique ses réponses aux questions en pages 2 et 3.

Seules les pages 1 à 4 sont rendues par le candidat à la fin de l'épreuve, pour être numérisées.

Les questions figurent sur les pages suivantes.



Thème A : types de base

Réponse à la question 1	A <input type="checkbox"/>	B <input type="checkbox"/>	C <input type="checkbox"/>	D <input type="checkbox"/>
Réponse à la question 2	A <input type="checkbox"/>	B <input type="checkbox"/>	C <input type="checkbox"/>	D <input type="checkbox"/>
Réponse à la question 3	A <input type="checkbox"/>	B <input type="checkbox"/>	C <input type="checkbox"/>	D <input type="checkbox"/>
Réponse à la question 4	A <input type="checkbox"/>	B <input type="checkbox"/>	C <input type="checkbox"/>	D <input type="checkbox"/>
Réponse à la question 5	A <input type="checkbox"/>	B <input type="checkbox"/>	C <input type="checkbox"/>	D <input type="checkbox"/>
Réponse à la question 6	A <input type="checkbox"/>	B <input type="checkbox"/>	C <input type="checkbox"/>	D <input type="checkbox"/>

Thème B : types construits

Réponse à la question 1	A <input type="checkbox"/>	B <input type="checkbox"/>	C <input type="checkbox"/>	D <input type="checkbox"/>
Réponse à la question 2	A <input type="checkbox"/>	B <input type="checkbox"/>	C <input type="checkbox"/>	D <input type="checkbox"/>
Réponse à la question 3	A <input type="checkbox"/>	B <input type="checkbox"/>	C <input type="checkbox"/>	D <input type="checkbox"/>
Réponse à la question 4	A <input type="checkbox"/>	B <input type="checkbox"/>	C <input type="checkbox"/>	D <input type="checkbox"/>
Réponse à la question 5	A <input type="checkbox"/>	B <input type="checkbox"/>	C <input type="checkbox"/>	D <input type="checkbox"/>
Réponse à la question 6	A <input type="checkbox"/>	B <input type="checkbox"/>	C <input type="checkbox"/>	D <input type="checkbox"/>

Thème C : traitement de données en tables

Réponse à la question 1	A <input type="checkbox"/>	B <input type="checkbox"/>	C <input type="checkbox"/>	D <input type="checkbox"/>
Réponse à la question 2	A <input type="checkbox"/>	B <input type="checkbox"/>	C <input type="checkbox"/>	D <input type="checkbox"/>
Réponse à la question 3	A <input type="checkbox"/>	B <input type="checkbox"/>	C <input type="checkbox"/>	D <input type="checkbox"/>
Réponse à la question 4	A <input type="checkbox"/>	B <input type="checkbox"/>	C <input type="checkbox"/>	D <input type="checkbox"/>
Réponse à la question 5	A <input type="checkbox"/>	B <input type="checkbox"/>	C <input type="checkbox"/>	D <input type="checkbox"/>
Réponse à la question 6	A <input type="checkbox"/>	B <input type="checkbox"/>	C <input type="checkbox"/>	D <input type="checkbox"/>

Thème D : interactions entre l'homme et la machine sur le Web

Réponse à la question 1	A <input type="checkbox"/>	B <input type="checkbox"/>	C <input type="checkbox"/>	D <input type="checkbox"/>
Réponse à la question 2	A <input type="checkbox"/>	B <input type="checkbox"/>	C <input type="checkbox"/>	D <input type="checkbox"/>
Réponse à la question 3	A <input type="checkbox"/>	B <input type="checkbox"/>	C <input type="checkbox"/>	D <input type="checkbox"/>
Réponse à la question 4	A <input type="checkbox"/>	B <input type="checkbox"/>	C <input type="checkbox"/>	D <input type="checkbox"/>
Réponse à la question 5	A <input type="checkbox"/>	B <input type="checkbox"/>	C <input type="checkbox"/>	D <input type="checkbox"/>
Réponse à la question 6	A <input type="checkbox"/>	B <input type="checkbox"/>	C <input type="checkbox"/>	D <input type="checkbox"/>

Modèle CCYC : ©DNE

Nom de famille (naissance) :
(Suivi s'il y a lieu, du nom d'usage)

Prénom(s) :

N° candidat :

N° d'inscription :



Né(e) le :

(Les numéros figurent sur la convocation.)

1.1

Thème E : architectures matérielles et systèmes d'exploitation

- Réponse à la question 1 A B C D
- Réponse à la question 2 A B C D
- Réponse à la question 3 A B C D
- Réponse à la question 4 A B C D
- Réponse à la question 5 A B C D
- Réponse à la question 6 A B C D

Thème F : langages et programmation

- Réponse à la question 1 A B C D
- Réponse à la question 2 A B C D
- Réponse à la question 3 A B C D
- Réponse à la question 4 A B C D
- Réponse à la question 5 A B C D
- Réponse à la question 6 A B C D

Thème G : algorithmique

- Réponse à la question 1 A B C D
- Réponse à la question 2 A B C D
- Réponse à la question 3 A B C D
- Réponse à la question 4 A B C D
- Réponse à la question 5 A B C D
- Réponse à la question 6 A B C D



Modèle CCYC : ©DNE

Nom de famille (naissance) :
(Suivi s'il y a lieu, du nom d'usage)

--	--	--	--	--	--	--	--	--	--	--	--	--	--	--	--	--	--	--	--	--	--	--

Prénom(s) :

--	--	--	--	--	--	--	--	--	--	--	--	--	--	--	--	--	--	--	--	--	--	--

N° candidat :

--	--	--	--	--	--	--	--	--	--	--	--	--	--	--	--	--	--	--	--	--	--	--

N° d'inscription :

--	--	--	--	--	--	--	--	--	--	--	--	--	--	--	--	--	--	--	--	--	--	--



Né(e) le :

(Les numéros figurent sur la convocation.)

		/			/						
--	--	---	--	--	---	--	--	--	--	--	--

Thème A : types de base

Question A.1

Un nombre entier signé est codé en complément à deux sur 8 bits par : 0111 0101.

Que peut-on dire ?

Réponses

- A c'est un nombre positif
- B c'est un nombre négatif
- C c'est un nombre pair
- D 7 bits auraient suffi à représenter cet entier signé en complément à deux

Question A.2

Quelle est, en écriture décimale, la somme d'entiers dont l'écriture en base 16 (hexadécimale) est $2A + 2$?

Réponses

- A 22
- B 31
- C 49
- D 44

Question A.3

Parmi les quatre nombres suivants lequel est le seul à pouvoir être représenté de façon exacte en machine ?

Réponses

- A 3.1
- B 4.2
- C 5.24
- D 7.25

Question A.4

Quelle est la représentation binaire de l'entier positif 51 sur 8 bits ?

Réponses

- A 0010 0001
- B 0010 1001
- C 0011 0001
- D 0011 0011

Question A.5

Soit n l'entier positif dont l'écriture binaire est 10001. Quelle est l'écriture binaire de l'entier $2n$?

Réponses

- A 20002
- B 100010
- C 010001
- D 1000110001

Question A.6

Soient P et Q deux formules logiques telles que P est vraie et Q est fausse.

Quelle est la valeur de l'expression $(P \text{ ET } Q) \text{ OU } (NON(P) \text{ OU } Q)$?

Réponses

- A vraie
- B fausse
- C ni vraie, ni fausse
- D vraie et fausse en même temps



Thème B : types construits

Question B.1

On considère deux entiers strictement positifs L et C . On note $n = L * C$ leur produit et on écrit la fonction suivante, qui construit un tableau de L lignes et C colonnes, contenant les entiers consécutifs de 0 à $n-1$:

```
def construitTable(L,C):  
    t = []  
    for i in range(L):  
        ligne = []  
        for j in range(C):  
            .....  
        t.append(ligne)  
    return t
```

Par exemple, l'appel `construitTable(2,3)` doit renvoyer la table :

```
[ [0, 1, 2],  
  [3, 4, 5] ]
```

Que faut-il écrire à la place des points de suspension pour obtenir ce résultat ?

Réponses

- A `ligne.append(i + C*j)`
- B `ligne.append(L*i + j)`
- C `ligne.append(i + L*j)`
- D `ligne.append(C*i + j)`

Question B.2

On définit $L = [4,25,10,9,7,13]$. Quelle est la valeur de $L[2]$?

Réponses

- A 4
- B 25
- C 10
- D 9

Question B.3

Que vaut l'expression `[2*k for k in range(5)]` ?

Réponses

- A `[0,2,4,6,8]`
- B `[2,4,6,8,10]`
- C `[1,2,4,8,16]`
- D `[2,4,8,16,32]`

Modèle CCYC : ©DNE

Nom de famille (naissance) :

(Suivi s'il y a lieu, du nom d'usage)

Prénom(s) :

N° candidat :

N° d'inscription :



Liberté • Égalité • Fraternité
RÉPUBLIQUE FRANÇAISE

Né(e) le :

(Les numéros figurent sur la convocation.)

1.1

Question B.4

L'opérateur % calcule le reste de la division euclidienne de l'opérande de gauche par l'opérande de droite. Par exemple : $7 \% 3$ vaut 1, $15 \% 5$ vaut 0 et $18 \% 4$ vaut 2.

On crée la liste suivante :

```
t = [ x for x in range(2,12) if x % 2 == 1 ]
```

Que vaut t :

Réponses

- A [2, 3, 4, 5, 6, 7, 8, 9, 10, 11]
- B [1, 2, 3, 4, 5]
- C [3, 5, 7, 9, 11]
- D [0, 1, 0, 1, 0, 1, 0, 1, 0, 1]

Question B.5

Quelle est la valeur de l'expression $[[i,2*i]$ for i in range(3)] ?

Réponses

- A [0,0,1,2,2,4]
- B [[0,0],[1,2],[2,4]]
- C [1,2,2,4,3,6]
- D [[1,2],[2,4],[3,6]]

Question B.6

Quelle expression permet d'accéder à la valeur 'hello' après qu'on a défini

```
L = [['a','b','c'],['bonjour','hello']]
```

Réponses

- A L[5]
- B L[1][1]
- C L[2][2]
- D L['hello']

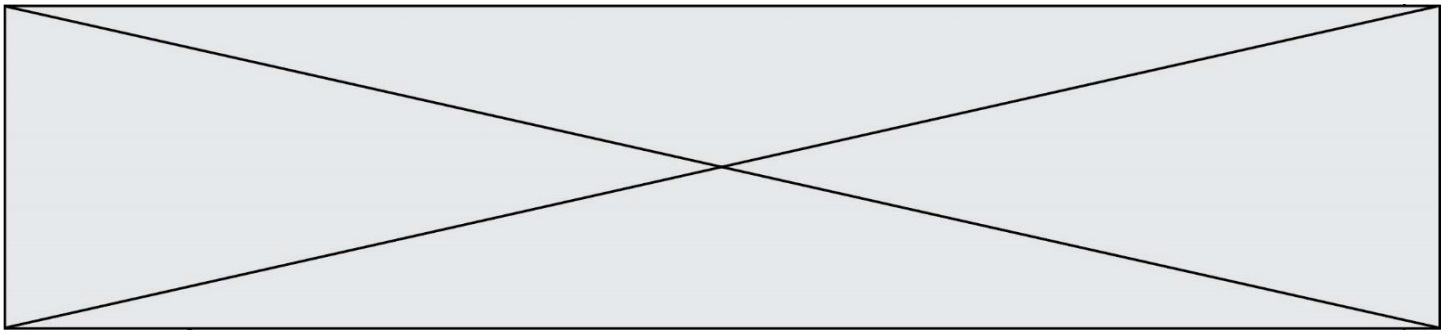
Thème C : traitement de données en tables

Question C.1

Laquelle de ces listes de chaînes de caractères est triée en ordre croissant ?

Réponses

- A ['Chat', 'Chien', 'Cheval', 'Cochon']
- B ['Chat', 'Cheval', 'Chien', 'Cochon']
- C ['Chien', 'Cheval', 'Cochon', 'Chat']
- D ['Cochon', 'Chien', 'Cheval', 'Chat']



Question C.2

Quelle est la valeur de la variable image après exécution du programme Python suivant ?

```
image = [[0, 0, 0, 0], [0, 0, 0, 0], [0, 0, 0, 0], [0, 0, 0, 0]]
for i in range(4):
    for j in range(4):
        if (i+j) == 3:
            image[i][j] = 1
```

Réponses

- A [[0, 0, 0, 0], [0, 0, 0, 0], [0, 0, 0, 0], [1, 1, 1, 1]]
- B [[0, 0, 0, 1], [0, 0, 0, 1], [0, 0, 0, 1], [0, 0, 0, 1]]
- C [[0, 0, 0, 1], [0, 0, 1, 0], [0, 1, 0, 0], [1, 0, 0, 0]]
- D [[0, 0, 0, 1], [0, 0, 1, 1], [0, 1, 1, 1], [1, 1, 1, 1]]

Question C.3

On a défini :

```
mendeleiev = [ ['H', '!', '!', '!', '!', '!', '!', 'He'],
                ['Li', 'Be', 'B', 'C', 'N', 'O', 'Fl', 'Ne'],
                ['Na', 'Mg', 'Al', 'Si', 'P', 'S', 'Cl', 'Ar'],
                ..... ]
```

Une erreur s'est glissée dans le tableau, car le symbole du Fluor est F et non Fl. Quelle instruction permet de rectifier ce tableau ?

Réponses

- A mendeleiev.append('F')
- B mendeleiev[1][6] = 'F'
- C mendeleiev[6][1] = 'F'
- D mendeleiev[-1][-1] = 'F'

Question C.4

Quelle expression Python permet d'accéder au numéro de téléphone de Tournesol, sachant que le répertoire a été défini par l'affectation suivante :

```
repertoire = [ {'nom': 'Dupont', 'tel': '5234'},
                {'nom': 'Tournesol', 'tel': '5248'}, {'nom': 'Dupond', 'tel': '3452'}]
```

Réponses

- A repertoire["Tournesol"]
- B repertoire['tel'][1]
- C repertoire[1]['tel']
- D repertoire["Tournesol"][tel]

Modèle CCYC : ©DNE

Nom de famille (naissance) :

(Suivi s'il y a lieu, du nom d'usage)

Prénom(s) :

N° candidat :

N° d'inscription :



Né(e) le :

(Les numéros figurent sur la convocation.)

1.1

Question C.5

On considère l'extraction suivante d'une base de données des départements français. Cette extraction a ensuite été sauvegardée dans un fichier texte.

```
"1","01","Ain","AIN","ain","A500"  
"2","02","Aisne","AISNE","aisne","A250"  
"3","03","Allier","ALLIER","allier","A460"  
"4","04","Alpes-de-Haute-Provence","ALPES-DE-HAUTE-PROVENCE","alpes-de-haute-  
provence","A412316152"  
"5","05","Hautes-Alpes","HAUTES-ALPES","hautes-alpes","H32412"
```

Quel est le format de ce fichier ?

Réponses

- A YML
- B XML
- C CSV
- D JSON

Question C.6

On définit :

```
T = [ {'fruit': 'banane', 'nombre': 25}, {'fruit': 'orange', 'nombre': 124},  
      {'fruit': 'pomme', 'nombre': 75}, {'fruit': 'kiwi', 'nombre': 51} ]
```

Quelle expression a-t-elle pour valeur le nombre de pommes ?

Réponses

- A T[2]['nombre']
- B T[2,'nombre']
- C T[3]['nombre']
- D T[3,'nombre']

Thème D : interactions entre l'homme et la machine sur le Web

Question D.1

Par quoi commence l'URL d'une page Web sécurisée ?

Réponses

- A http
- B https
- C ftp
- D smtp

Question D.2

Quelle est la machine qui va exécuter un programme JavaScript inclus dans une page HTML ?

Réponses

- A la machine de l'utilisateur sur laquelle s'exécute le navigateur Web
- B le serveur Web sur lequel est stockée la page HTML
- C la machine de l'utilisateur ou du serveur, selon celle qui est la plus disponible
- D la machine de l'utilisateur ou du serveur, suivant la confidentialité des données manipulées

**Question D.3**

Quelle est la balise HTML utilisée pour indiquer un titre de niveau d'importance maximal ?

Réponses

- A la balise <h0>
- B la balise <h1>
- C la balise <head>
- D la balise <header>

Question D.4

En HTML, un formulaire commence par quelle balise ?

Réponses

- A <form>
- B </form>
- C <input type="form">
- D <!--form-->

Question D.5

Lequel des termes suivants ne désigne pas un protocole de transmission par un réseau :

Réponses

- A HTTP
- B WWW
- C TCP
- D IP

Question D.6

Quelle est la machine qui exécute un programme JavaScript inclus dans une page HTML ?

Réponses

- A le serveur WEB qui contient la page HTML
- B la machine de l'utilisateur qui consulte la page HTML
- C un serveur du réseau
- D un routeur du réseau

Thème E : architectures matérielles et systèmes d'exploitation

Question E.1

La mémoire RAM :

Réponses

- A ne fonctionne qu'en mode lecture
- B ne fonctionne qu'en mode écriture
- C conserve les données en cas de coupure de l'alimentation
- D perd les données en cas de coupure de l'alimentation

Modèle CCYC : ©DNE

Nom de famille (naissance) :


(Suivi s'il y a lieu, du nom d'usage)

Prénom(s) :

N° candidat : N° d'inscription :

(Les numéros figurent sur la convocation.)

Né(e) le : / /



RÉPUBLIQUE FRANÇAISE

1.1

Question E.2

Quel composant électronique, inventé vers le milieu du 20^e siècle, a permis le développement des ordinateurs actuels ?

Réponses

- A le condensateur
- B la résistance
- C le transistor
- D la diode

Question E.3

Sous Linux, les droits d'accès à un fichier dont le propriétaire est Joseph sont les suivants : -rwxr-xr--.

Laquelle des affirmations suivantes est **fausse** ?

Réponses

- A Joseph a l'autorisation de lire ce fichier
- B les membres du groupe de Joseph ont l'autorisation de lire ce fichier
- C tous les utilisateurs ont l'autorisation de lire ce fichier
- D les membres du groupe de Joseph ont l'autorisation de modifier ce fichier

Question E.4

Sur un ordinateur, où est stocké de manière permanente le système d'exploitation ?

Réponses

- A dans la mémoire RAM
- B sur le bus de donnée
- C sur le disque dur ou le disque SSD
- D dans le Cloud

Question E.5

L'adresse IP du site `www.education.gouv.fr` est `185.75.143.24`.

Quel dispositif permet d'associer l'adresse IP et l'URL `www.education.gouv.fr` ?

Réponses

- A un routeur
- B un serveur DNS
- C un serveur de temps
- D un serveur Web

Question E.6

Parmi ces propositions, laquelle désigne un système d'exploitation libre ?

Réponses

- A LibreOffice
- B Windows
- C MacOS
- D GNU-Linux



Thème F : langages et programmation

Question F.1

La fonction suivante calcule la racine carrée du double d'un nombre flottant.

```
from math import sqrt

def racine_du_double(x):
    return sqrt(2*x)
```

Quelle est la précondition sur l'argument de cette fonction ?

Réponses

- A $x < 0$
- B $x \geq 0$
- C $2 * x > 0$
- D $\text{sqrt}(x) \geq 0$

Question F.2

Quelles sont les valeurs des variables x et y à la fin de l'exécution du script suivant :

```
x = 4
while x > 0:
    y = 1
    while y < x:
        y = y + 1
        x = x - 1
```

Réponses

- A l'exécution ne termine pas !
- B la valeur de x est 0, celle de y est 0
- C la valeur de x est 0, celle de y est 1
- D la valeur de x est -1, celle de y est 0

Question F.3

Quelle est la valeur de la variable n à la fin de l'exécution du script ci-dessous ?

```
n = 1
for i in range(4):
    n = n + 2
```

Réponses

- A 1
- B 8
- C 9
- D 18

Modèle CCYC : ©DNE

Nom de famille (naissance) :

(Suivi s'il y a lieu, du nom d'usage)

Prénom(s) :

N° candidat : N° d'inscription :

(Les numéros figurent sur la convocation.)

Né(e) le : / /

Liberté • Égalité • Fraternité
RÉPUBLIQUE FRANÇAISE

1.1

Question F.4

Dans le programme suivant, la variable A contient un entier strictement positif. Quelle est la valeur numérique de la variable i en fin de programme ?

```
i = 0
while 2**i < A :
    i = i + 1
```

Que vaut la variable i à la fin de l'exécution ?

Réponses

- A A + 1
- B l'exposant de la plus grande puissance de 2 inférieure à A
- C l'exposant de la plus petite puissance de 2 supérieure à A
- D A - 1

Question F.5

On exécute le script suivant :

```
def calcul(a,b):
    a = a + 2
    b = b + 5
    c = a + b
    return c
```

```
a,b = 3,5
calcul(a,b)
```

À la fin de cette exécution :

Réponses

- A a vaut 3, b vaut 5 et c vaut 15
- B a vaut 3, b vaut 5 et c n'est pas défini
- C a vaut 5, b vaut 10 et c vaut 15
- D a vaut 5, b vaut 10 et c n'est pas défini

Question F.6

Un programme Python commence par la ligne :

```
import os
```

À quoi sert cette ligne ?

Réponses

- A c'est le début du squelette de tout programme Python
- B c'est la déclaration du système d'exploitation (*operating system*)
- C Python 3.6 exige cette ligne au début de tout programme
- D c'est la déclaration d'une bibliothèque (ou module) que le programme compte utiliser



Thème G : algorithmique

Question G.1

Soit L une liste de n nombres réels (n entier naturel non nul). On considère l'algorithme suivant, en langage Python, calculant la moyenne des éléments de L .

```
M = 0
for k in range(n):
    M = M + L[k]
M = M/n
```

Si le nombre n de données double alors le temps d'exécution de ce script :

Réponses

- A reste le même
- B double aussi
- C est multiplié par n
- D est multiplié par 4

Question G.2

Quel code parmi les quatre proposés ci-dessous s'exécute-t-il en un temps linéaire en n (c'est-à-dire avec un temps d'exécution majoré par $A \times n + B$ où A et B sont deux constantes) ?

Réponses

- A

```
for i in range(n//2):
    for j in range(i+1,n):
        print('hello')
```
- B

```
for i in range(n):
    print('hello')
```
- C

```
L = [ i+j for i in range(n) for j in range(n) ]
for x in L:
    print('hello')
```
- D

```
for i in range(n//2):
    for j in range(n//2):
        print('hello')
```

Question G.3

Quelle est la valeur de element à la fin de l'exécution du code suivant :

```
L = [1,2,3,4,1,2,3,4,0,2]
element = L[0]
for k in L:
    if k > element:
        element = k
```

Réponses

- A 0
- B 1
- C 4
- D 10

Modèle CCYC : ©DNE

Nom de famille (naissance) :

(Suivi s'il y a lieu, du nom d'usage)

Prénom(s) :

N° candidat : N° d'inscription :

(Les numéros figurent sur la convocation.)

Né(e) le : / /

Liberté • Égalité • Fraternité
RÉPUBLIQUE FRANÇAISE

1.1

Question G.4

On définit :

```
def traite(chaine,a):
    nouvelle_chaine = ""
    for k in range(len(chaine)):
        if chaine[k] != a:
            nouvelle_chaine = nouvelle_chaine + chaine[k]
    return nouvelle_chaine
```

Quelle est la valeur renvoyée par l'appel traite("histoire","i") ?

Réponses

- A "hstore"
- B "ii"
- C "histoire"
- D ""

Question G.5

On définit la fonction suivante :

```
def traitement(liste) :
    m = liste[0]
    for i in range (len(liste)) :
        if liste[i] > m:
            m = liste[i]
    return m
```

Que vaut traitement([-2,5,6,-10,35]) ?

Réponses

- A None
- B -10
- C -6
- D 35

Question G.6

Quelle est la valeur de c à la fin de l'exécution du code suivant :

```
L = [1,2,3,4,1,2,3,4,0,2]
c = 0
for k in L:
    if k == L[1]:
        c = c+1
```

Réponses

- A 0
- B 2
- C 3
- D 10