

Modèle CCYC : ©DNE

**Nom de famille** (*naissance*) :

(Suivi s'il y a lieu, du nom d'usage)

**Prénom(s)** :

**N° candidat** :  **N° d'inscription** :

(Les numéros figurent sur la convocation.)

**Né(e) le** :  /  /



RÉPUBLIQUE FRANÇAISE

1.1

## ÉVALUATION

**CLASSE** : Première

**VOIE** :  Générale  Technologique  Toutes voies (LV)

**ENSEIGNEMENT** : Enseignement scientifique  
avec enseignement de mathématiques spécifique

**DURÉE DE L'ÉPREUVE** : 2 h

Niveaux visés (LV) : ∅

Axes de programme : ∅

**CALCULATRICE AUTORISÉE** :  Oui  Non

**DICTIONNAIRE AUTORISÉ** :  Oui  Non

Ce sujet contient des parties à rendre par le candidat avec sa copie. De ce fait, il ne peut être dupliqué et doit être imprimé pour chaque candidat afin d'assurer ensuite sa bonne numérisation.

Ce sujet intègre des éléments en couleur. S'il est choisi par l'équipe pédagogique, il est nécessaire que chaque élève dispose d'une impression en couleur.

Ce sujet contient des pièces jointes de type audio ou vidéo qu'il faudra télécharger et jouer le jour de l'épreuve.

**Nombre total de pages** : 15

**Parmi les trois exercices qui composent ce sujet, le candidat en traite obligatoirement deux.**

**L'exercice 1, relatif à l'enseignement de mathématiques spécifique, doit être obligatoirement abordé.**

**Pour le deuxième exercice, le candidat choisit entre l'exercice 2 et l'exercice 3 qui sont relatifs à l'enseignement commun de l'enseignement scientifique. Il indique son choix en début de copie.**



## Exercice 1 (obligatoire) – Niveau première (mathématiques)

### Étude de l'accidentologie

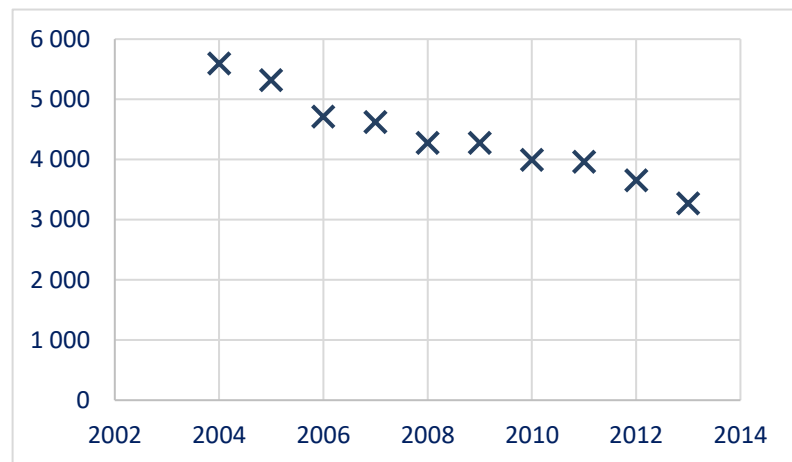
Sur 8 points

Dans cet exercice, on étudie l'accidentologie (circulation en véhicules automobiles) en France.

#### Partie A

On considère le tableau et le graphique suivants qui représentent le nombre de tués sur les routes en France en fonction des années :

Année	Nombre de tués
2004	5 593
2005	5 318
2006	4 709
2007	4 620
2008	4 275
2009	4 273
2010	3 992
2011	3 963
2012	3 653
2013	3 268



Source : <https://www.onisr.securite-routiere.gouv.fr>

**1-a-** Déterminer la variation absolue du nombre de tués sur les routes entre 2004 et 2013.

**1-b-** Déterminer la diminution moyenne par an du nombre de tués entre 2004 et 2013.

**2-** En 2013, on a décidé de fixer comme objectif à l'horizon 2025 une poursuite de la baisse de la mortalité dans les mêmes conditions. On choisit de modéliser le nombre de tués sur les routes par la fonction affine  $f$  définie sur  $[0 ; +\infty[$ , par :

$$f(x) = -231,5x + 469\,316 \text{ où } x \text{ représente l'année.}$$

Modèle CCYC : ©DNE

Nom de famille (naissance) :


(Suivi s'il y a lieu, du nom d'usage)

Prénom(s) :

N° candidat :  N° d'inscription :

(Les numéros figurent sur la convocation.)

Né(e) le :  /  /



RÉPUBLIQUE FRANÇAISE

1.1

**2-a-** Tracer la représentation graphique de la fonction  $f$  sur le graphique du document réponse fourni en annexe.

**2-b-** À l'aide de ce modèle et du graphique tracé sur le document réponse en annexe, estimer, avec la précision permise par le graphique, le nombre de tués en 2025.

**3-** En réalité, entre 2014 et 2021, le nombre de tués est donné par le tableau suivant :

Année	2014	2015	2016	2017	2018	2019	2020	2021
Nombre de tués	3 384	3 461	3 477	3 448	3 248	3 244	2 541	2 944

Que peut-on penser du modèle choisi dans la question 2- ?

## Partie B

On s'intéresse au lien éventuel entre l'âge d'un véhicule impliqué dans un accident et le type de gravité de celui-ci (on ne s'intéresse ici qu'aux véhicules de tourisme).

Le tableau suivant présente le nombre de véhicules impliqués dans un accident de la circulation en 2021 en France, en fonction de son âge et de la gravité de l'accident (léger, grave non mortel ou mortel) :

Âge $x$ du véhicule en années	Accident léger	Accident grave non mortel	Accident mortel	Total
$x < 5$	10 407	3 422	574	14 403
$5 \leq x < 10$	8 588	3 185	489	12 262
$10 \leq x < 20$	15 993	6 369	1 180	23 542
$x \geq 20$	2 606	1 416	317	4 339
Total	37 594	14 392	2 560	54 546

*Nombre de véhicules de tourisme impliqués  
dans un accident de la circulation en 2021*

Source : <https://www.data.gouv.fr>



**On arrondira les résultats au millième si nécessaire.**

**4-a-** Calculer la fréquence de véhicules âgés de plus de 20 ans parmi les véhicules impliqués dans un accident de la circulation en 2021 en France.

**4-b-** Calculer la fréquence des véhicules impliqués dans un accident léger parmi les véhicules âgés de plus de 20 ans impliqués dans un accident de la circulation en 2021 en France.

On choisit au hasard un véhicule impliqué dans un accident de la circulation en 2021 en France (on suppose que tous les véhicules impliqués dans un accident en 2021 en France ont la même probabilité d'être choisis).

On appelle  $C$  l'événement « le véhicule choisi a moins de cinq ans » et  $L$  l'événement « le véhicule choisi est impliqué dans un accident léger ». On désigne par  $\bar{A}$  l'événement contraire d'un événement  $A$ .

**5-** Calculer la probabilité de l'événement  $C$  et la probabilité de l'événement  $L$ .

**6-** Décrire par une phrase l'événement  $\bar{C}$  puis calculer sa probabilité.

**7-** Décrire par une phrase l'événement  $C \cap L$  puis calculer sa probabilité.

**8-a-** On choisit un véhicule âgé de moins de cinq ans impliqué dans un accident de la circulation en 2021 en France. Quelle est la probabilité qu'il soit impliqué dans un accident léger ?

**8-b-** Pour un véhicule impliqué dans un accident de la circulation en 2021 en France, le fait d'être impliqué dans un accident léger est-il indépendant du fait d'être âgé de moins de cinq ans ? Justifier la réponse.



(Les numéros figurent sur la convocation.)

## Exercice 2 (au choix) – Niveau première

Thème « Son, musique et audition »

### Les paramètres du son

Sur 12 points

Les parties 1 et 2 peuvent être traitées indépendamment l'une de l'autre.

La partie 3 est une argumentation s'appuyant sur les parties 1 et 2.

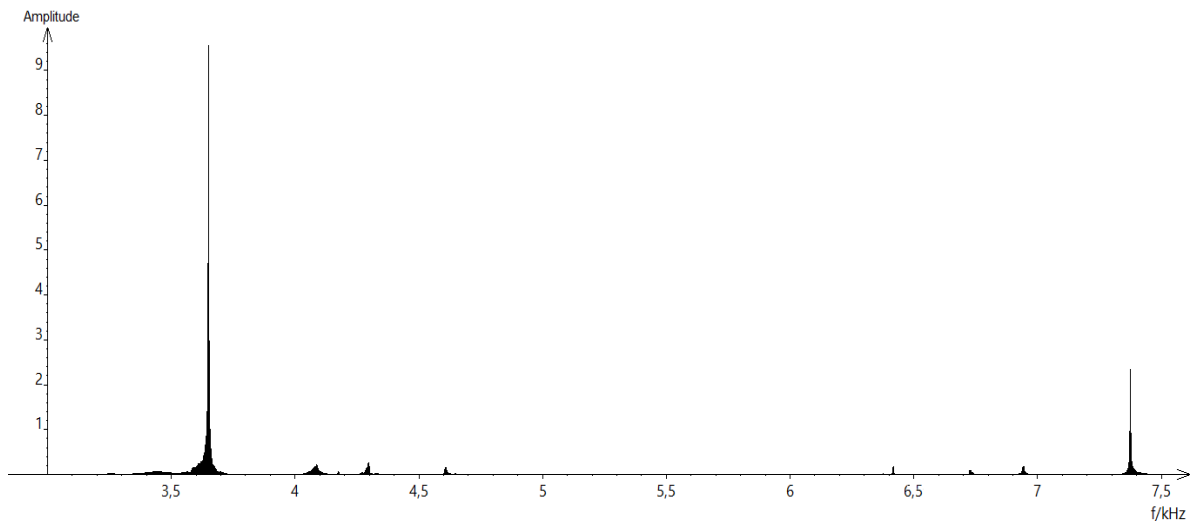
#### Partie 1 – Masse et fréquence

On dispose de trois marteaux  $M_1$ ,  $M_2$  et  $M_3$  de masses respectives  $m_1 = 0,24$  kg,  $m_2 = 0,48$  kg et  $m_3 = 1,44$  kg.

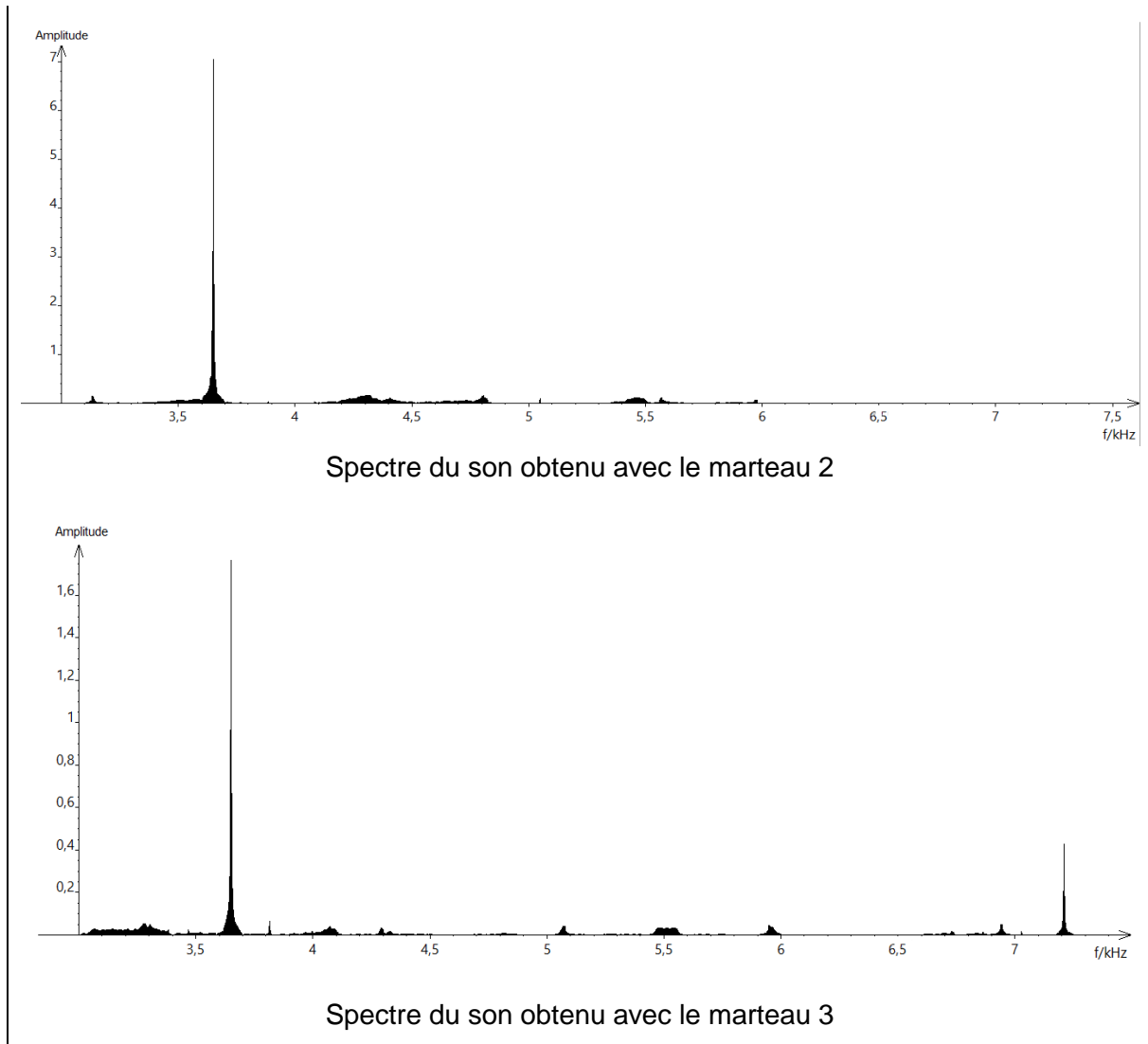
L'expérience consiste à les laisser tomber sur une enclume. Un logiciel d'acquisition enregistre le signal sonore émis.

On désigne respectivement par  $f_1$ ,  $f_2$  et  $f_3$  les fréquences fondamentales des sons émis par les marteaux  $M_1$ ,  $M_2$  et  $M_3$  lors de l'expérience.

#### Document 1 – Spectre des fréquences des sons émis lors de la chute des marteaux



Spectre du son obtenu avec le marteau 1



- 1- Lire sur le document 1 les fréquences fondamentales  $f_1$ ,  $f_2$  et  $f_3$  des sons émis lors de l'expérience et noter leurs valeurs sur la copie.
- 2- Comparer ces fréquences. La masse du marteau influe-t-elle sur la fréquence fondamentale du son émis ?
- 3- Comment qualifie-t-on le son du spectre 2 ? Justifier.
- 4- Comment qualifie-t-on le son des spectres 1 et 3 ? Justifier. Comment appelle-t-on la fréquence autre que le fondamental dans ces spectres ?
- 5- Grâce à vos connaissances, déterminer si l'humain est capable de détecter les fréquences produites par le marteau 3.

Modèle CCYC : ©DNE

Nom de famille (naissance) :

(Suivi s'il y a lieu, du nom d'usage)

Prénom(s) :

N° candidat :

N° d'inscription :

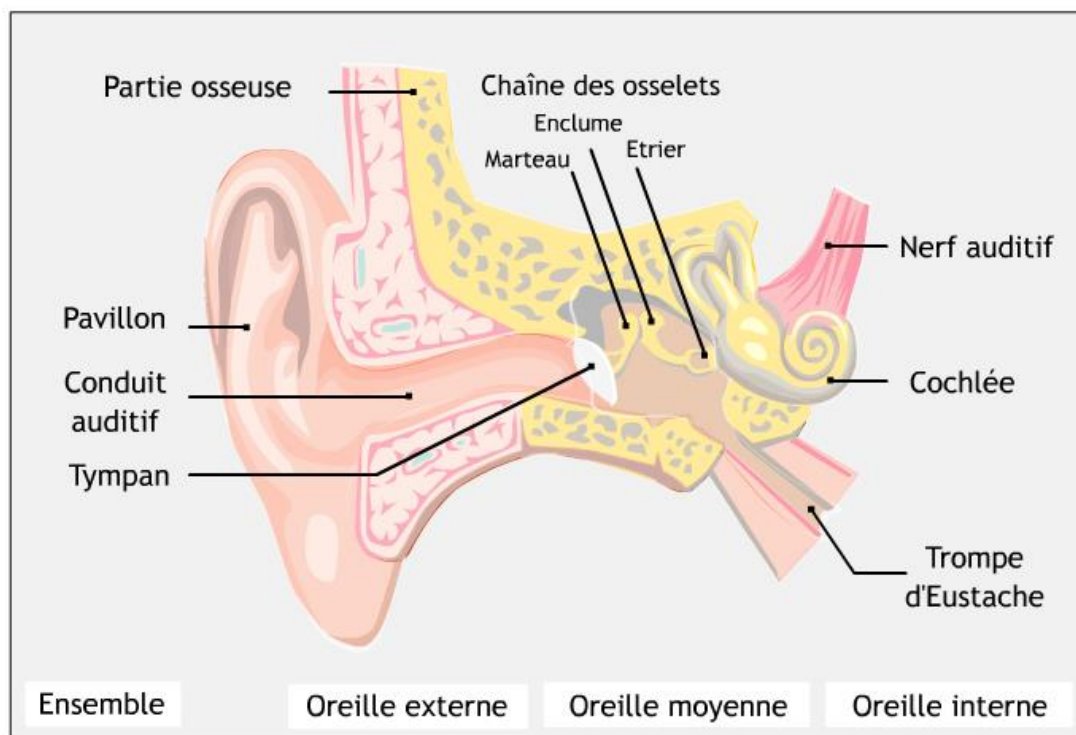


Né(e) le :

(Les numéros figurent sur la convocation.)

1.1

## Document 2 – Schéma d'une oreille humaine



Source : [www.audition.fr](http://www.audition.fr)

- 6- Présenter comment l'humain parvient à détecter un son. Le document 2 est une aide mais n'a pas pour but d'être analysé.

### Partie 2 – Tension et fréquence

Dans cette partie, on tend une corde de longueur quelconque à l'aide d'une masse variable  $m$ .




Illustration du montage.



On a relevé dans le tableau ci-dessous les fréquences fondamentales obtenues en pinçant la corde :

Masse (en kg)	0	8,070	9,990	11,110
Fréquence (en Hz)	0	202	224	237

7- Peut-on affirmer que la fréquence fondamentale du son est proportionnelle à la masse utilisée pour tendre la corde ? Justifier.

On propose de modéliser le mieux possible la manière dont la fréquence fondamentale, exprimée en Hz, varie en fonction de la masse  $m$ , exprimée en kg, à l'aide d'une fonction définie sur l'ensemble des réels positifs. On considère les trois fonctions suivantes :

$$f_1 : m \mapsto 71\sqrt{m} \quad f_2 : m \mapsto 25m \quad \text{et} \quad f_3 : m \mapsto \frac{9}{4} m^2$$

8- Donner un tableau de valeurs de chacune des fonctions, en prenant les masses données.

9- Quelle fonction modélise alors le mieux le problème ? Justifier.

### Partie 3 – Analyse d'un texte

Voici un extrait du *Commentaire au songe de Scipion* écrit par Macrobe aux alentours de 400 après JC.

« [...] la diversité des sons, indépendante des hommes, correspondait aux marteaux. Alors il mit tout son soin à en évaluer le poids, et après avoir noté la différence de poids qui caractérisait chacun il fit fabriquer des marteaux de poids différents, en plus ou en moins ; les sons produits par leurs coups ne ressemblaient en rien à ceux d'avant et ne s'accordaient plus aussi bien. Il constata alors que l'harmonie sonore était réglée par les poids, et après avoir relevé les nombres qui définissaient la diversité bien accordée de ces poids, il passa des marteaux à l'examen des instruments à cordes : il tendit des boyaux de mouton ou des nerfs de bœuf en y attachant des poids aussi variés que ceux qu'il avait découverts à propos des marteaux, et il en résulta bien le genre d'accord que lui avait fait espérer son observation antérieure, à laquelle il ne s'était pas livré pour rien. »

*Commentaire au songe de Scipion, II, 1, 9-13*



Modèle CCYC : ©DNE

**Nom de famille** (naissance) :


(Suivi s'il y a lieu, du nom d'usage)

**Prénom(s)** :

**N° candidat** :  **N° d'inscription** :

(Les numéros figurent sur la convocation.)

**Né(e) le** :  /  /



1.1

**10-** En quelques lignes, émettre une critique scientifique détaillée des affirmations contenues dans le *Commentaire au songe de Scipion*, en vous appuyant sur les résultats obtenus dans les parties 1 et 2.



## Exercice 3 (au choix) – Niveau première

Thème « Le Soleil, notre source d'énergie »

### Le sang des glaciers

Sur 12 points

L'expression « Le sang des glaciers » désigne le rosissement des glaciers par une espèce d'algues des neiges. Nous nous intéresserons dans une première partie à l'énergie solaire reçue par la Terre et au phénomène de l'albédo, puis dans une seconde partie nous chercherons à comprendre en quoi ce type d'algues peut contribuer au réchauffement climatique.

#### Partie A – Comprendre l'albédo

##### Document 1 – Modélisation permettant le calcul de la puissance rayonnée

À une distance donnée du Soleil, la totalité de la puissance émise par le Soleil se trouve uniformément répartie sur une sphère de rayon égal à cette distance.

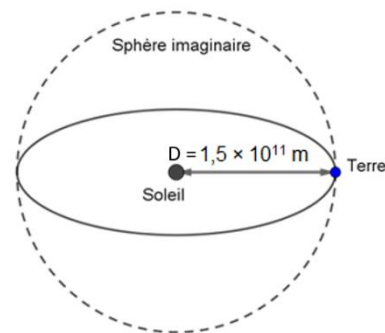
La puissance surfacique  $P_S$  reçue par chaque point de la sphère imaginaire est donc donnée par la formule suivante :

$$P_S = \frac{P_T}{S}, \text{ exprimée en } W \cdot m^{-2}$$

Avec  $P_T$  la puissance totale du soleil qui vaut  $3,87 \times 10^{26} W$  et  $S$  la surface de la sphère imaginaire.

Sur le schéma ci-contre, la Terre et le Soleil ne sont pas représentés à l'échelle.

On rappelle que l'aire d'une sphère de rayon  $R$  est  $S_{sphère} = 4\pi R^2$  et que l'aire d'un disque de rayon  $R$  est  $S_{disque} = \pi R^2$ .



- 1- À partir de vos connaissances, nommer le phénomène physique à l'origine de l'énergie dégagée par le Soleil.
- 2- Montrer par le calcul, à l'aide du document 1, que la puissance solaire  $P_S$  reçue par mètre carré à la distance  $D$  du Soleil est environ de  $1\,370 W \cdot m^{-2}$ .

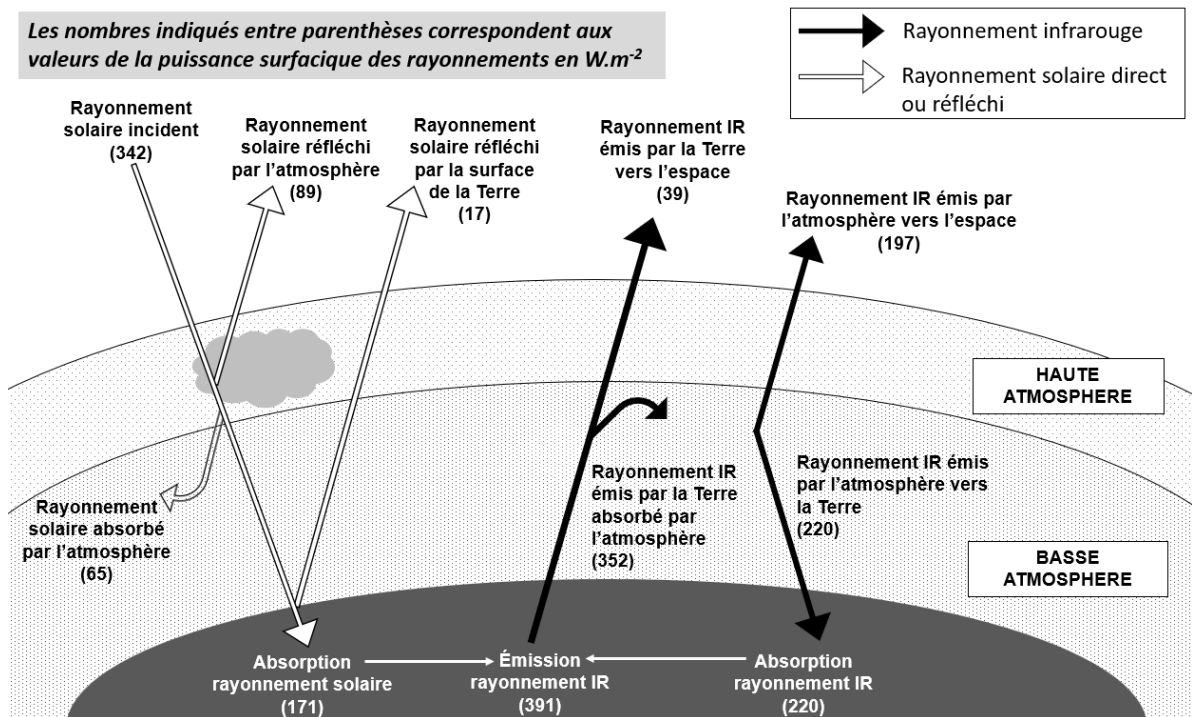
- 3- La Terre intercepte le rayonnement solaire sur une surface correspondant à un disque de rayon  $R = 6\,400\text{ km}$ . Calculer l'aire de cette surface, exprimée en  $\text{m}^2$ .
- 4- La puissance surfacique solaire correspond à la puissance solaire reçue par une surface d'un mètre carré. Montrer par le calcul que la puissance solaire  $P_{\text{reçue}}$  reçue par la Terre d'après ce modèle simplifié est voisine de  $1,8 \times 10^{17}\text{ W}$ .
- 5- La puissance solaire moyenne reçue par la Terre se répartit sur toute la surface de la sphère qu'elle constitue :  $P_{\text{moy}} = \frac{P_{\text{reçue}}}{S_{\text{Terre}}}$ . Montrer que la puissance solaire moyenne reçue par unité de surface vaut  $342\text{ W} \cdot \text{m}^{-2}$ .

## Document 2 – Bilan radiatif

La puissance solaire qui est reçue par la Terre peut être réfléchi, absorbée, réémise.

Le schéma ci-dessous présente les flux énergétiques émis, diffusés et réfléchis par les différentes parties de l'atmosphère et de la surface terrestre.

Les nombres indiqués entre parenthèses correspondent aux valeurs de la puissance surfacique des rayonnements en  $\text{W} \cdot \text{m}^{-2}$



Source : d'après l'auteur

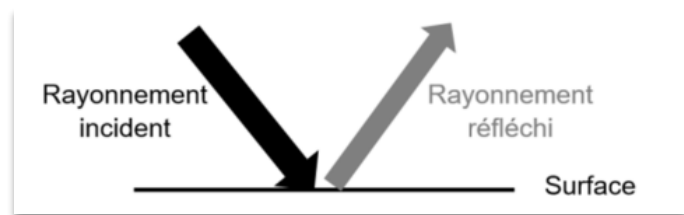


### Document 3 – Albédo

L'albédo  $A$  d'une surface permet d'évaluer l'effet de réflexion de la lumière incidente par une surface. C'est le rapport entre la puissance de rayonnement réfléchi par une surface ( $P$  réfléchi) et la puissance de rayonnement incident sur cette même surface ( $P$  incidente).

L'albédo  $A$  est une valeur sans unité, comprise entre 0 et 1.

$$A = \frac{P_{\text{réfléchi}} (W \cdot m^{-2})}{P_{\text{incidente}} (W \cdot m^{-2})}$$

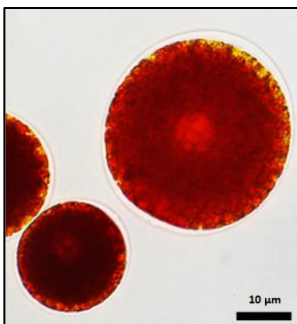


**Moins le rayonnement incident est réfléchi, plus la surface chauffe.**

Source : <https://planet-terre.ens-lyon.fr>

- 6- À l'aide des documents 2 et 3, montrer que l'albédo terrestre moyen qui correspond à l'albédo de l'ensemble {atmosphère + surface de la Terre} vaut environ 0,3.
- 7- À l'aide du document 2, justifier à l'aide de calculs que le bilan radiatif terrestre est équilibré.
- 8- En vous appuyant sur les documents 2 et 3 et sur vos connaissances, citer deux phénomènes qui peuvent contribuer à déséquilibrer ce bilan et entraîner un réchauffement climatique. Justifier votre réponse.

### Partie B – Origine et conséquences de la couleur rose des glaciers



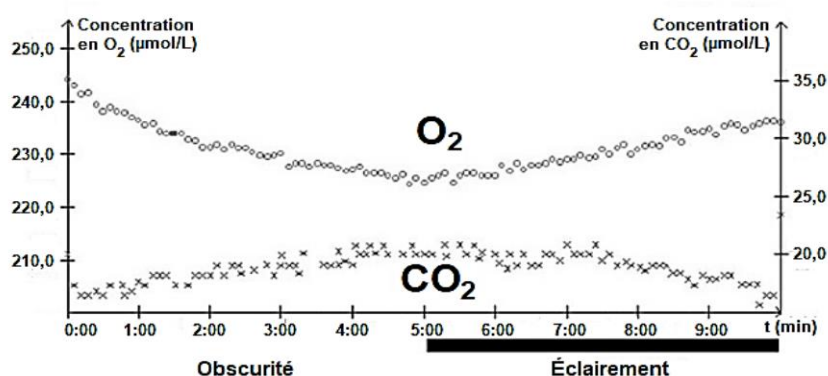
Les algues des neiges sont des algues unicellulaires capables de vivre à une température d'environ 0 °C. La plus courante d'entre elles est la *Chlamydomonas nivalis* (observée au microscope optique sur la photographie ci-contre). C'est une algue verte qui en plus de la chlorophylle, contient un pigment rouge de type caroténoïde à l'origine de la coloration rose-clair des glaciers. Cet organisme, d'une teinte rose-clair, remonte à la surface, en été, pour pouvoir accéder à l'eau liquide et se multiplie activement.

Source : d'après <https://www.semanticscholar.org/>



### Document 4 – Identification du métabolisme de cet organisme

De la glace rose contenant des *Chlamydomonas nivalis* est fondue et placée dans une enceinte hermétique. Les teneurs en dioxygène et en dioxyde de carbone dans l'eau sont relevées sous différentes conditions d'éclairement. Le graphique ci-dessous présente l'évolution des teneurs en dioxygène et dioxyde de carbone dans de l'eau contenant *Chlamydomonas nivalis*.



Source : Bac S SVT 2017 Afrique

- 9- À partir de l'étude du document 4 et de vos connaissances, montrer que *Chlamydomonas nivalis* est un organisme photosynthétique.

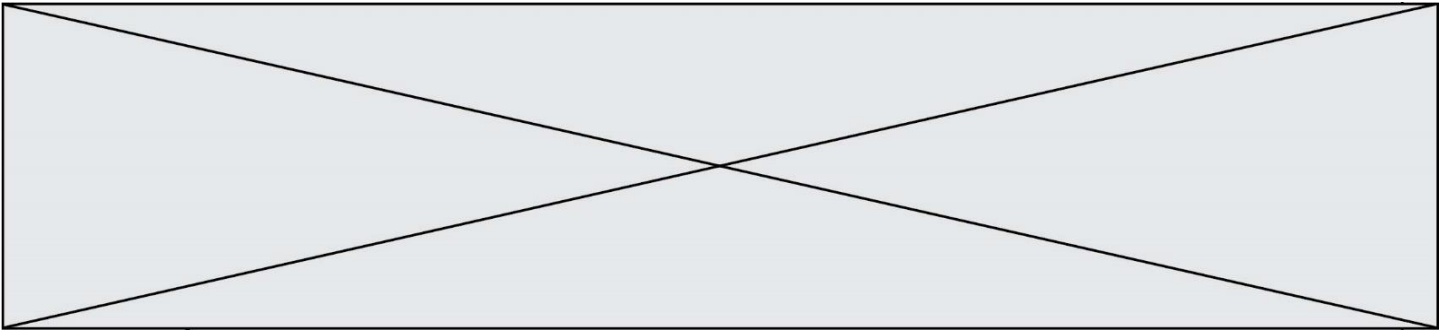
### Document 5 – Mesure de l'albédo de glace présentant différentes teintes

On a mesuré l'albédo de la glace non colorée ainsi que de la glace colorée par différents colorants.

Surface	Albédo
Glace non colorée	0,60
Glace rose	0,42
Glace verte	0,52
Glace bleue	0,48

Source : D'après l'auteur

- 10- D'après l'étude des documents 3 et 5, expliquer en quoi la présence de *Chlamydomonas nivalis* peut être une menace pour les glaciers d'altitude.
- 11- Ce type d'algues de neige s'observe également au niveau des zones polaires. Justifier le fait que les algues des neiges peuvent contribuer au réchauffement climatique.



Modèle CCYC : ©DNE

Nom de famille (naissance) :

(Suivi s'il y a lieu, du nom d'usage)

Prénom(s) :

N° candidat :

N° d'inscription :



Liberté • Égalité • Fraternité  
RÉPUBLIQUE FRANÇAISE

Né(e) le :

(Les numéros figurent sur la convocation.)

1.1

## Document réponse à rendre avec la copie

### Exercice 1

